

Droogligtijd

In de Waddenzee varieert de waterhoogte in de loop van de tijd. Eb en vloed wisselen elkaar voortdurend af in een getijdencyclus met een periode van ongeveer 745 minuten. De waterhoogte in het oostelijke deel van de Waddenzee kan worden benaderd met de formule:

$$h = 125 \cos\left(\frac{2\pi}{745} t\right)$$

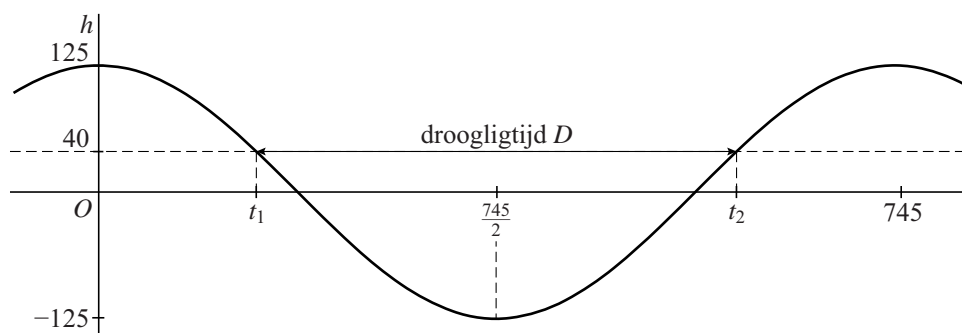
Hierbij is h de waterhoogte in cm ten opzichte van NAP (Normaal Amsterdams Peil) en is t de tijd in minuten. Tijdstip $t = 0$ komt overeen met een moment waarop $h = 125$.

In het oostelijk deel van de Waddenzee liggen verschillende zandbanken die gedurende een deel van een getijdencyclus droog komen te liggen. De **droogligtijd** D is het aantal minuten per getijdencyclus dat een zandbank niet geheel onder water ligt. De droogligtijd hangt af van de hoogte van de zandbank: de hoogte van het hoogste punt van de zandbank ten opzichte van NAP.

In het oostelijk deel van de Waddenzee bevindt zich een zandbank met een hoogte van 40 cm boven NAP.

In figuur 1 is de grafiek van de waterhoogte h getekend. Tevens is de hoogte van deze zandbank weergegeven. Gedurende één periode zijn er twee tijdstippen waarop de waterhoogte h gelijk is aan de hoogte van de zandbank. We noemen deze tijdstippen t_1 en t_2 . Het verschil tussen t_2 en t_1 is de droogligtijd D .

figuur 1



- 4p 12 Bereken de droogligtijd D van deze zandbank. Rond je antwoord af op een geheel aantal minuten.

Op drooggevallen zandbanken kunnen waddenvogels voedsel vinden. Daarom willen natuuronderzoekers het verband weten tussen de hoogte van de zandbanken en de tijd dat ze droog liggen.

Met z duiden we de hoogte in cm van de zandbank aan, ten opzichte van NAP. Er geldt dan:

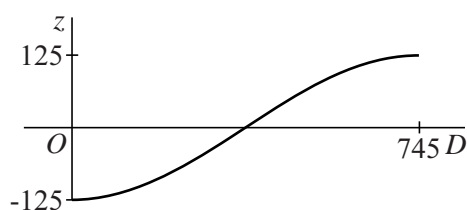
$$z = 125 \cos\left(\pi - \frac{\pi}{745} D\right)$$

5p 13 Bewijs dit.

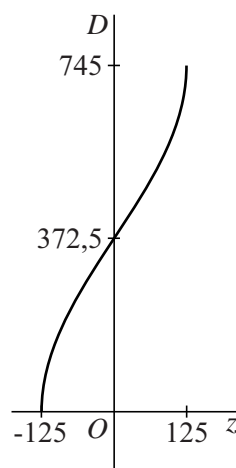
In figuur 2 is de grafiek van z getekend voor waarden van D tussen 0 en 745.

Ook kan een grafiek van het verband tussen D en z worden getekend waarbij z op de horizontale as en D op de verticale as wordt gekozen. Zie figuur 3.

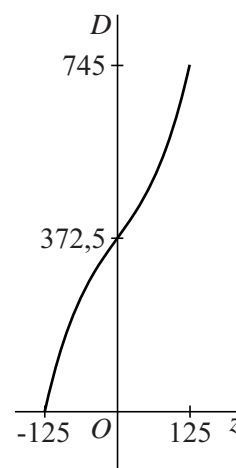
figuur 2



figuur 3



figuur 4



In onderzoeksrapporten wordt, in plaats van de formule die bij figuur 3 hoort, ook wel de volgende derdegraads formule gebruikt:

$$D = 8 \cdot 10^{-5} z^3 + 1,7z + 372,5$$

De bijbehorende grafiek staat in figuur 4.

De grafieken in figuren 3 en 4 lijken op elkaar. Zo verschillen de hellingen van beide grafieken in het punt $(0; 372,5)$ niet veel.

De helling in een punt op de grafiek van figuur 3 kan worden berekend met behulp van de helling in het overeenkomstige punt in figuur 2: er geldt dat het product van deze twee hellingen gelijk is aan 1.

5p 14 Bereken op algebraïsche wijze bij elk van de figuren 3 en 4 de helling van de grafiek in het punt $(0; 372,5)$. Rond je antwoorden af op één decimaal.