

Opgave 1 Vrouwenvoetbal

Vrouwenvoetbal ontwikkelt zich snel en de verwachting is dat clubs hoge salarissen gaan betalen voor topspeelsters. De nationale voetbalbond wil voorkomen dat clubs zich in de schulden steken om speelsters aan te trekken. Mede daarom eist de bond van de clubs een begrotingsregel: de kosten van een jaar mogen niet hoger zijn dan de opbrengsten, op straffe van puntenaftrek of zelfs degradatie naar een lagere klasse. De voorzitter van de bond stelt dat deze begrotingsregel invloed heeft op de marktwaarde van speelsters.

- 2p 1 Leg uit hoe de begrotingsregel invloed heeft op de marktwaarde van speelsters.

Voetbalclub VV (Vrouwen Vooruit) heeft een betaald team dat speelt in de hoogste divisie. De club heeft als doelstelling om dit jaar kampioen te worden en wil een ervaren speelster aantrekken. Tot op heden hebben speelsters een vast salaris (variant 1), maar bij het aantrekken van een nieuwe speelster overweegt directeur Verheijen ook een variabele variant:

- Variant 1: een vast salaris van € 30.000 per jaar.
- Variant 2: een vast salaris van € 12.000 per jaar + € 1.100 per gespeelde wedstrijd.

In de competitie worden 30 wedstrijden gespeeld. De speelsters worden vier dagdelen per week op de club verwacht voor trainingen. Zij worden daarnaast geacht zelfstandig te trainen om hun conditie op peil te houden om wedstrijden te kunnen spelen. De meeste speelsters hebben naast inkomsten uit het voetbal nog andere inkomsten.

Directeur Verheijen verwacht dat er bij het aanbieden van variant 1 eerder averechtse selectie kan optreden dan bij variant 2.

- 2p 2 Leg de verwachting van directeur Verheijen uit.

- 2p 3 Leg uit welke variant directeur Verheijen zal kiezen om moral hazard te verminderen.

Directeur Verheijen zegt: “De begroting in tabel 1 laat nu een kleine plus zien zonder de extra speelster. Als we geen verlies willen lijden en toch een extra speelster willen aantrekken, dan zullen de bezoekersaantallen omhoog moeten.”

Tabel 1 Resultatenbegroting 2021 zonder extra speelster (in euro’s)

kosten		opbrengsten	
Vaste salarissen	480.000	Sponsorbijdragen*	466.000
Overige constante kosten*	216.000	Televisierechten*	80.000
Totale variabele kosten (proportioneel afhankelijk van aantal bezoekers)	18.000	Entreegelden: 18.000 bezoekers x €10*	180.000
Winst	12.000		
	726.000		726.000

* Deze bedragen worden verondersteld niet te veranderen bij onderstaande vragen.

- 2p **4** Bereken met hoeveel procent het bezoekersaantal moet stijgen om break-even te bereiken, als de nieuwe speelster gecontracteerd wordt met beloningsvariant 1.

Directeur Verheijen ziet graag jeugdspeelsters doorgroeien van het jeugdteam naar het betaalde elftal. Hij wil extra investeren in de jeugdopleiding door middel van betere faciliteiten en een betere begeleiding. Hij voorziet wel een berovingsprobleem. Hij denkt dit probleem te kunnen beperken door de volgende maatregel: speelsters die voor hun 20ste levensjaar vertrekken bij de club moeten VV een vergoeding betalen.

- 2p **5** Leg uit hoe de maatregel van directeur Verheijen het berovingsprobleem deels kan beperken.

Opgave 2 Pensioenleeftijd

Het pensioen bestaat in een land voor de meeste mensen uit AOW en (tegelijktijd) het aanvullend pensioen. De AOW wordt betaald uit premies die onderdeel zijn van de inkomensheffing, en is bestemd voor iedere ingezetene, ongeacht of men heeft gewerkt. Het aanvullend pensioen wordt gefinancierd volgens het kapitaaldeckingsstelsel. De betaalbaarheid van de pensioenen is onder druk komen te staan door onderstaande demografische ontwikkelingen:

- A: de laatste jaren is het aantal gepensioneerden toegenomen, terwijl de werkzame beroepsbevolking constant is gebleven.
- B: de levensverwachting in dit land neemt toe.

Een econoom stelt dat bij de aanvullende pensioenen slechts één van deze twee ontwikkelingen tot financieringsproblemen leidt.

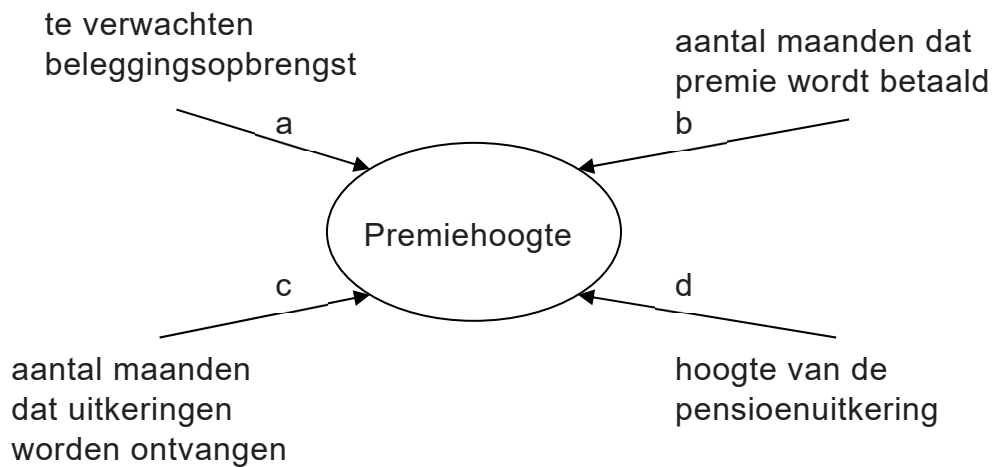
- 2p **6** Leg voor beide ontwikkelingen uit of deze tot financieringsproblemen leiden bij de aanvullende pensioenen.

Om de betaalbaarheid van de AOW te verbeteren is enige tijd geleden de AOW gekoppeld aan de gemiddelde levensverwachting: voor elk jaar dat de gemiddelde levensverwachting stijgt, wordt de AOW-leeftijd met acht maanden verhoogd.

Een politicus wil deze koppeling in 2022 afschaffen en bovendien de pensioenleeftijd verlagen. De econoom verwacht dat het overheidssaldo zal verslechteren door deze maatregel.

- 2p **7** Geef twee oorzaken waarom het verlagen van de pensioenleeftijd kan leiden tot een verslechtering van het overheidssaldo.

Figuur 1 Factoren die de hoogte van de premie van het aanvullend pensioen bepalen



De econoom legt de voordelen van de koppeling uit: “De koppeling van de AOW-leeftijd aan de levensverwachting kan leiden tot een verlaging van de premie voor het aanvullend pensioen.” Op basis van figuur 1 geeft de econoom daarvoor drie verklaringen.

- 2p **8** Geef op basis van figuur 1 de drie verklaringen waarom de premie voor het aanvullend pensioen kan worden verlaagd.

De econoom vreest dat wanneer er geen extra maatregelen worden genomen, de premies voor het aanvullend pensioen en de AOW moeten worden verhoogd om de pensioenen betaalbaar te houden. De export kan hierdoor onder druk komen te staan.

- 2p **9** Leg de vrees van de econoom uit.

De politicus vindt een verhoging van de AOW-leeftijd acceptabel als daar tegenover staat dat de uitkeringen welvaartsvast worden zonder premieverhoging. De politicus beweert: “Als door de verhoging van de AOW-leeftijd de verhouding tussen de AOW-gerechtigden en de werkenden gelijk kan blijven, dan kan de AOW welvaartsvast worden zonder lastenverzwaring voor de werkenden (premieplichtigen).”

$$\text{Premiepercentage AOW} = \frac{\text{Totaal bedrag AOW} - \text{uitkeringen}}{\text{Totaal bruto - inkomen premieplichtigen}} \times 100\%$$

- 2p **10** Leg de bewering uit met behulp van de formule.

Opgave 3 Een CO₂-taks

In 2015 ondertekende de Nederlandse overheid het klimaatverdrag van Parijs waarin internationaal werd afgesproken om maatregelen te nemen om de uitstoot van CO₂ door bedrijven en gezinnen sterk te beperken. De Nederlandsche Bank (DNB) onderzoekt in dit kader de gevolgen van een belasting op CO₂-uitstoot, de CO₂-taks. Als Nederland een CO₂-taks invoert en de andere landen niet, zal de kostprijs bij Nederlandse bedrijven stijgen. Dit zal leiden tot een verslechtering van de internationale concurrentiepositie. Hierdoor kan het zogenoemde CO₂-lek ontstaan: in Nederland daalt de uitstoot van CO₂ maar de totale mondiale uitstoot daalt niet.

2p 11 Geef een verklaring voor het ontstaan van het CO₂-lek.

Een DNB-econoom stelt (gegeven de beschreven context) dat de CO₂-taks juist bij de exportbedrijven een grote rol kan spelen bij het terugdringen van de mondiale CO₂-uitstoot.

2p 12 Leg de stelling van de DNB-econoom uit.

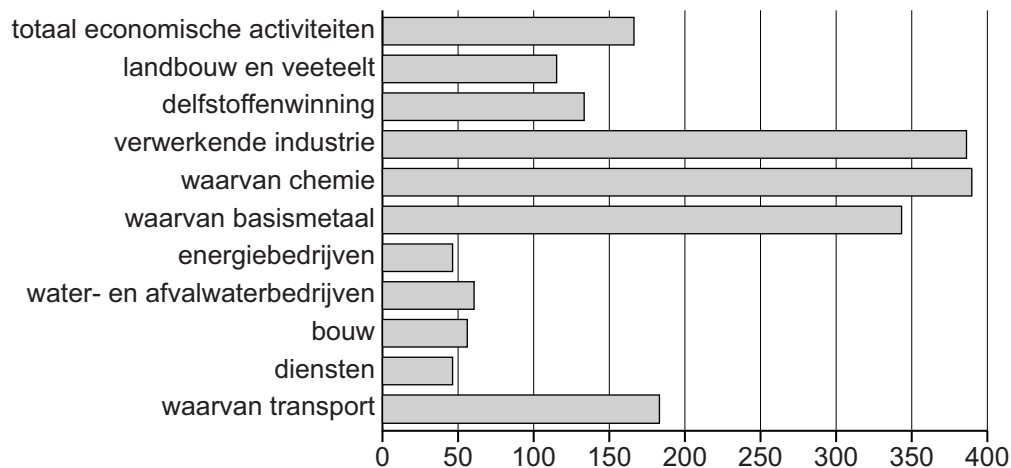
Uit doorrekening van de rekenmodellen blijkt dat door een CO₂-taks van 50 euro per ton CO₂ de kostprijs van Nederlandse exportproducten gemiddeld zal stijgen met 1,2%. Deze CO₂-taks heeft ook een effect op het buitenlandse prijspeil.

2p 13 Verklaar dat een Nederlandse CO₂-taks ook effect heeft op het prijspeil in het buitenland.

DNB schrijft dat de gevoeligheid voor internationale concurrentie per sector verschilt. Een indicatie voor deze concurrentiegevoeligheid is het niveau van openheid van een bedrijfstak zoals te zien is in figuur 1.

Figuur 1 Openheid van Nederlandse bedrijfstakken

Som van import en export in procenten van bruto toegevoegde waarde, 2016



De DNB-econoom stelt op basis van figuur 1 dat de invoering van een CO₂-taks een sterker negatief effect heeft op de winstgevendheid van de chemiesector dan op de winstgevendheid van de bouwsector.

2p **14** Onderbouw deze stelling op basis van figuur 1.

In een vraag- en aanbodmodel van de chemische sector berekent de DNB-econoom het effect van de CO₂-taks van 2,5% op de evenwichtsprijs. Hieruit blijkt dat, gegeven een prijselasticiteit van de vraag van -2, de gevraagde hoeveelheid zal dalen met 4,3%. De DNB-econoom beweert dat meer dan driekwart van de CO₂-taks uiteindelijk zal worden doorberekend aan de consument.

2p **15** Toon met een berekening aan of de bewering van de DNB-econoom juist is.

De DNB-econoom simuleert de effecten van de CO₂-taks op de Nederlandse economie in een model. In tabel 1 zijn drie bestemmingen opgenomen van de opbrengsten van de CO₂-taks van de overheid.

Tabel 1 Macro-economische effecten van CO₂-taks

	bestemming van extra belastinginkomsten		
	verbetering begrotings-saldo	verlaging inkomsten-belasting	verlaging winst-belasting
bruto binnenlands product (% mutatie)	-0,9	0,5	-0,4
reëel beschikbaar huishoudinkomen (% mutatie)	-2,5	1,8	-1,9
particuliere consumptie (% mutatie)	-2,1	2,2	-1,6
bedrijfsinvesteringen (% mutatie)	-2,0	-0,5	3,4
uitvoer goederen en diensten (% mutatie)	-0,5	-0,5	-0,1
werkloosheid (% beroepsbevolking)	0,6	-0,4	0,3
begrotingssaldo (% bbp)	0,6	0,3	-0,4

Toelichting: getallen zijn cumulatieve effecten in procenten na vijf jaar

De DNB-econoom concludeert dat de overheid die bestemming moet kiezen waarbij de macro-economische effecten per saldo het minst negatief uitpakken.

1p **16** Leg uit welke bestemming leidt tot de minst negatieve macro-economische effecten.

Opgave 4 Gezonde zorg

Ziekenhuiszorg wordt in Nederland aangeboden door meer dan 300 ziekenhuizen. De ziekenhuizen zijn zelfstandige, particuliere organisaties. Zorgverzekeraars sluiten contracten met ziekenhuizen over de prijs en de hoeveelheid zorg die wordt geboden aan de vragers naar zorg (de verzekerden). De vier grootste zorgverzekeraars hebben samen 80% van de zorgverzekeringsmarkt in handen.

Een redactrice van een economisch magazine schrijft een artikel over specialisatie van behandelingen bij ziekenhuizen. Ze richt zich op een bepaalde behandeling waarin patiënten uit een regio alleen terecht kunnen bij één ziekenhuis. Voor 2021 onderhandelen de vier grootste zorgverzekeraars gezamenlijk met het ziekenhuis over een contract. De gezamenlijke zorgverzekeraars stellen een prijs van € 1.000 per behandeling voor. Het ziekenhuis vindt dat onacceptabel, omdat er dan verlies wordt geleden op deze behandeling. Het ziekenhuis dreigt het aantal behandelingen te beperken. Hierdoor zullen de wachtlijsten langer worden.

Voor deze behandeling geldt in 2021 de volgende kostenfunctie:

$$TK = 101Q^2 - 10Q + 3.500$$

TK = totale kosten per dag in euro's

Q = aantal behandelingen per dag

- 2p 17 Bereken het aantal behandelingen per dag waarbij het verlies minimaal is bij een prijs van € 1.000 per behandeling.

Het ziekenhuis komt met een voorstel aan de zorgverzekeraars. De prijs van deze behandeling wordt zodanig vastgesteld dat de winst 15% van de omzet van deze behandeling bedraagt. Voor de overige zorg gaat het ziekenhuis akkoord met een lagere prijs.

De zorgverzekeraars gaan akkoord met dit voorstel en stellen twee voorwaarden voor de hogere prijs van deze behandeling:

- Het aantal behandelingen moet worden uitgebreid naar 10 per dag.
- Het ziekenhuis moet deze behandelmethode innoveren. Als gevolg van deze specifieke investering zullen de constante (vaste) kosten van deze behandeling stijgen met 20%.

- 2p 18 Bereken de prijs van deze behandeling als het ziekenhuis akkoord gaat met de voorwaarden van de zorgverzekeraars.

De redactrice schrijft: “Ik verwacht dat als het ziekenhuis akkoord gaat met de voorwaarden voor alleen het aankomende jaar, dat de zorgverzekeraars na 2021 mogelijk een lagere prijs per behandeling afdwingen door te dreigen een ander ziekenhuis in de regio te benaderen om in de toekomst deze behandeling uit te voeren. Het ziekenhuis zal een meerjarig contract moeten eisen.”

- 2p **19** Leg uit dat het ziekenhuis een meerjarig contract moet eisen om een berovingsprobleem te vermijden.

In haar artikel beschrijft de redactrice dat de overheidsdoelstelling van betaalbare zorg met deze onderhandelings situatie het best wordt gediend. De redactrice concludeert: “De prijsstijging van deze behandelingsmethode zou hoger zijn geweest als:

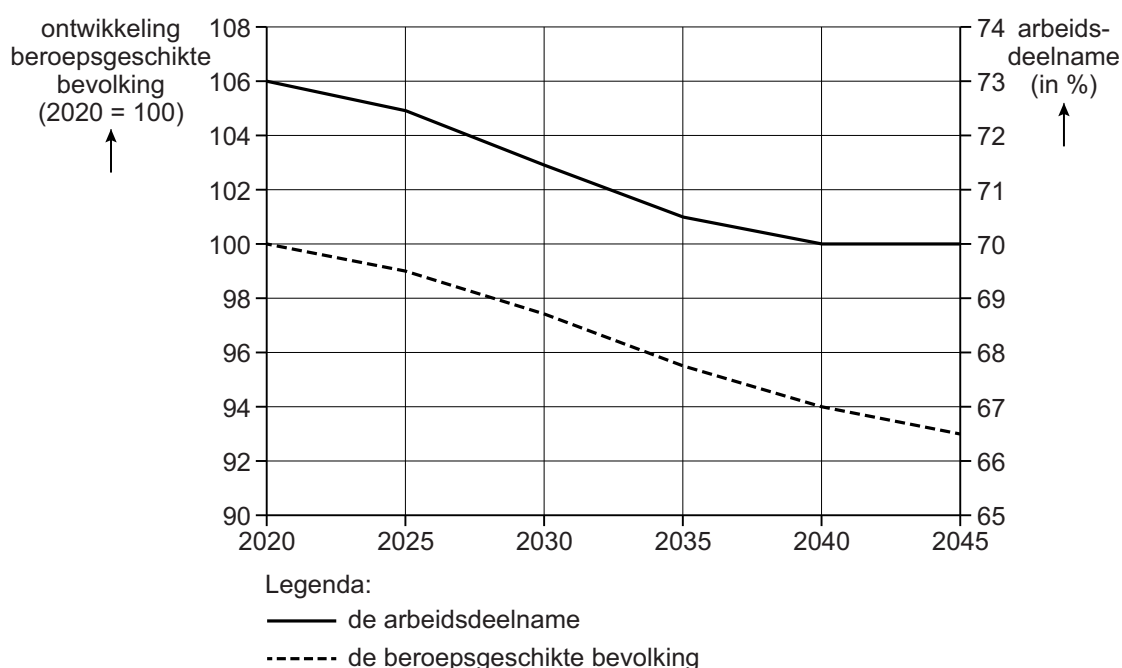
- de zorgverzekeraars geen marktleider zouden zijn op de oligopolistische markt van de zorgverzekeringen.
- er meerdere ziekenhuizen zouden zijn die de behandeling kunnen en willen uitvoeren.”

- 2p **20** Leg beide argumenten van de conclusie van de redactrice uit.

Opgave 5 Maatregelen die werken

In een land is sprake van vergrijzing en een dalende arbeidsdeelname. Veel jongeren besluiten pas later te gaan werken en veel ouderen kiezen nog altijd voor een vervroegd pensioen. Dit is voor de overheid aanleiding om een onderzoek uit te laten voeren naar de ontwikkeling van de omvang van de beroepsgeschikte bevolking (bevolking tussen 15 en 70 jaar) en de arbeidsdeelname. De overheid wil aan de hand van het onderzoek haar beleid aanpassen. Figuur 1 is afkomstig uit het onderzoek.

Figuur 1 Prognose ontwikkelingen 2020-2045



$$\text{Arbidsdeelname} = \frac{\text{Beroepsbevolking in personen}}{\text{Beroepsgeschikte bevolking}} \times 100\%$$

2p **21** Bereken hoeveel procent de beroepsbevolking naar verwachting krimpt in de periode 2020 tot 2040.

In het onderzoek staan twee beweringen over de economische gevolgen van de ontwikkeling van de arbeidsdeelname van 2020 tot 2040:

- 1 “De ontwikkeling van de arbeidsdeelname in figuur 1 kan op termijn leiden tot loonkosteninflatie.
- 2 Zonder groei van de arbeidsproductiviteit kan de loonkostenstijging, vanwege het open karakter van de economie, een negatief effect hebben op de economische groei van het land.”

3p **22** Verklaar beide beweringen van het onderzoek.

Uit het onderzoeksrapport blijkt dat de arbeidsdeelname vooral daalt bij jongeren (18 tot 25 jaar). Econoom Van de Ven kijkt hierbij specifiek naar de hoogopgeleide jongeren die later toetreden tot de arbeidsmarkt. Zij vindt deze ontwikkeling zorgwekkend en voorziet nog meer problemen: “De dalende arbeidsdeelname van de hoogopgeleide jongeren zorgt voor een stijging van de lonen voor hoogopgeleiden. Hierdoor kan het aanbod van arbeid van de oudere hoogopgeleiden (de groep met een leeftijd tussen de 55 en 70 jaar) nu en over 40 jaar ook dalen.”

- 2p **23** Geef twee verschillende verklaringen waarom het arbeidsaanbod van de oudste groep hoogopgeleiden nu en over 40 jaar zal dalen.

Volgens de econoom moet de arbeidsdeelname van zowel de jongere als de oudere hoogopgeleiden omhoog om op de middellange termijn te kunnen voldoen aan de vraag naar hoogopgeleide arbeidskrachten. In het onderzoeksrapport staat de volgende maatregel: “De pensioenuitkering, die gefinancierd wordt via het kapitaaldeckingsstelsel, begint niet langer voor iedereen bij 70 jaar, maar nadat men 45 jaar heeft gewerkt.”

- 2p **24** Verklaar hoe deze maatregel een positief effect kan hebben op de arbeidsdeelname van zowel de jongere als de oudere hoogopgeleiden.

Door deze maatregel zal de arbeidsdeelname van de hoogopgeleiden toenemen. De econoom vindt echter dat in het rapport geen rekening is gehouden met het optreden van andere gevolgen. Ze verwacht een positief gevolg voor de houdbaarheid van het pensioenstelsel en een mogelijk negatief gevolg voor de gemiddelde arbeidsproductiviteit.

- 2p **25** Leg de verwachting van de econoom uit.

Opgave 6 De Afrikaanse euro-variant

Veertien West- en Centraal-Afrikaanse landen (de CFA-landen) vormen samen een monetaire unie. Ze hebben afgesproken een gemeenschappelijke munteenheid te gebruiken: de CFA-frank. In de onderlinge handel wordt met deze CFA-frank betaald. De CFA-landen handelen ook buiten de muntunie: ongeveer 20% van de export van de CFA-landen gaat naar de Verenigde Staten (VS).

Een journaliste schrijft hierover: “Ondanks de lage inflatie in de CFA-landen is er sprake van een groeiend tekort op de gezamenlijke lopende rekening van de CFA-landen met de VS. Dit heeft echter niet geleid tot een depreciatie van de CFA-frank ten opzichte van de dollar. In tegendeel, de CFA-frank is geapprecieerd ten opzichte van de dollar.”

- 2p **26** Geef de oorzaak van de appreciatie van de CFA-frank ten opzichte van de dollar.

De journaliste schrijft dat de CFA-overheden in overleg met de centrale bank hun beleid van de afgelopen jaren gericht hebben op het laag houden van de inflatie bij een relatief hoge nominale rente. Dit heeft geleid tot zowel een positief effect als een negatief effect op de totale investeringen in de CFA-landen.

- 2p **27** Leg uit waarom het beleid van de centrale bank de totale investeringen in de CFA-landen zowel positief als negatief heeft beïnvloed.

De centrale bank van de CFA-landen wil de economische groei stimuleren. De journaliste beweert: “De centrale bank zal de eigen munt depreciëren door direct te interveniëren op de valutamarkt. Hierdoor zal de omvang van de valutareserve veranderen.”

- 2p **28** Leg uit hoe de centrale bank intervenueert op de valutamarkt en welk gevolg dit heeft voor de omvang van de valutareserve.

Ondanks het voeren van begrotingsbeleid en monetair beleid blijft er een tekort op de gezamenlijke lopende rekening van de CFA-landen. De overheden van de CFA-landen willen door middel van importheffingen op buitenlandse goederen het tekort op de gezamenlijke lopende rekening op korte termijn verminderen. De journaliste schrijft dat hierdoor het saldo lopende rekening op langere termijn juist kan verslechteren.

- 2p **29** Leg uit hoe de overheden van de CFA-landen via de importheffing het tekort op de lopende rekening op korte termijn kunnen verminderen en tevens op langere termijn juist kunnen vergroten.