

Zuidoost-Azië

Opgave 5 – Fysisch-geografische verschijnselen in Zuidoost-Azië

Bestudeer bron 1 uit het bronnenboekje die bij deze opgave hoort.

Gebruik de atlas.

De hoogste berg van Myanmar, Hkakabo Razi (5.881 m), ligt in het uiterste noorden van het land. Deze berg maakt deel uit van een groot grensoverschrijdend gebergte.

- 1p 17 Door welke plaattektonische beweging is dit gebergte ontstaan? Betrek in je antwoord de namen van de platen die bij deze beweging betrokken zijn.

Gebruik bron 1.

De Kinabalu is een berg in Maleisië, in het noorden van het eiland Borneo. Het landschap rondom deze hoogste bergtop van Borneo is uniek op het eiland.

- 2p 18 Beschrijf hoe erosie dit landschap heeft gevormd.

Gebruik de atlas.

De Irrawaddy en de Salween zijn twee rivieren in Zuidoost-Azië. Het gemiddelde debiet van de Irrawaddy is ongeveer drie keer zo groot als dat van de Salween.

- 2p 19 Geef twee oorzaken voor dit verschil in het gemiddelde debiet.

Bijna alle bodems op het vasteland van Zuidoost-Azië zijn weinig vruchtbaar. Uitzondering daarop vormen enkele dichtbevolkte kustgebieden.

- 2p 20 Wat is de oorzaak van de geringe vruchtbaarheid van de bodems op het vasteland van Zuidoost-Azië? Waarom zijn enkele dichtbevolkte kustgebieden wel vruchtbaar?

Gebruik de atlas.

Het gevaar voor tsunami's is niet langs alle kustgebieden in Zuidoost-Azië even groot. Zo worden de Thaise badplaatsen aan de Golf van Thailand nauwelijks bedreigd door tsunami's.

- 2p 21 Geef twee oorzaken waardoor het kustgebied aan de Golf van Thailand nauwelijks bedreigd wordt door tsunami's.

Zuidoost-Azië

Opgave 5 – Fysisch-geografische verschijnselen in Zuidoost-Azië

bron 1

De Kinabalu, de hoogste berg van Borneo



vrij naar: www.nationalgeographic.nl

Opgave 6 – Demografische ontwikkelingen in een aantal landen in Zuidoost-Azië

Bestudeer bron 1 uit het bronnenboekje die bij deze opgave hoort.

Gebruik bron 1.

De bevolkingsdiagrammen aangegeven met de cijfers 1 tot en met 4 zijn, in alfabetische volgorde, van de landen Laos, Singapore, Thailand en Vietnam.

- 2p **22** Neem de cijfers 1 tot en met 4 over op je antwoordblad.
Schrijf achter elk cijfer de naam van het juiste land.

Gebruik bron 1.

De onderstaande uitspraken worden gedaan op basis van de bevolkingsdiagrammen van Indonesië en de Filipijnen in 2005.

- 1 In Indonesië was in 2005 het geboortecijfer al langer aan het dalen dan in de Filipijnen.
2 In 2005 was de demografische transitie in Indonesië en de Filipijnen voltooid.
- 1p **23** Neem de cijfers 1 en 2 over op je antwoordblad.
Zet achter elk cijfer of de betreffende uitspraak juist of onjuist is.

Gebruik bron 1.

De verandering in leeftijdsopbouw die tussen circa 1995 en 2005 heeft plaatsgevonden, is voor de meeste landen in bron 1 gunstig geweest voor de groei van het bnp.

- 2p **24** Beredeneer waarom dit gunstig is geweest.

Gebruik bron 1.

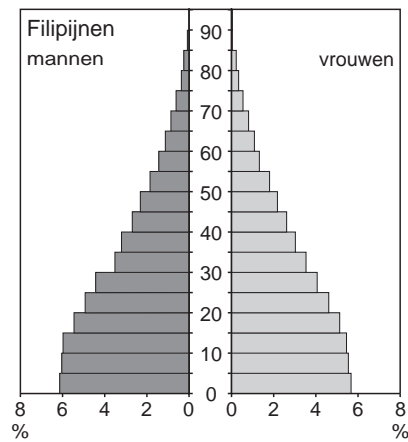
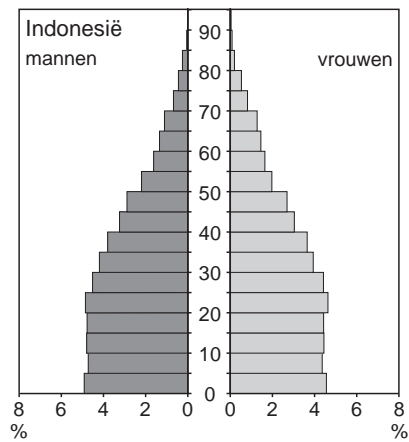
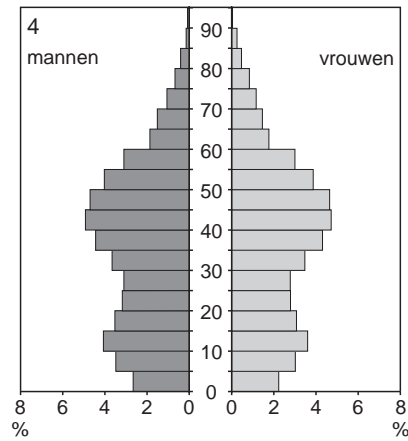
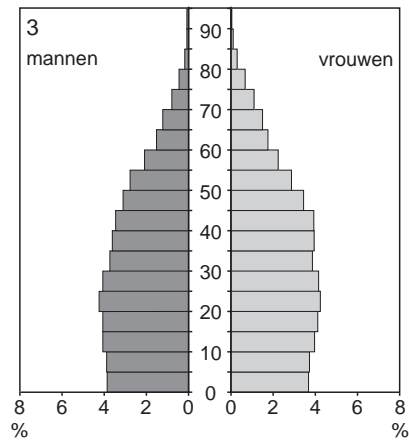
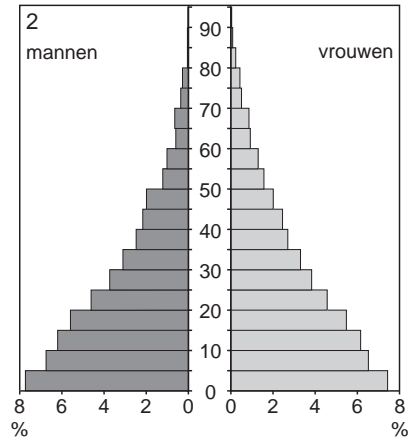
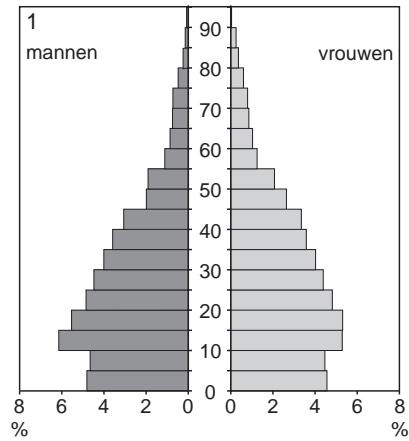
Een van de bevolkingsdiagrammen in bron 1 toont een bevolkingsopbouw die op korte termijn de economische groei zou kunnen afremmen.

- 3p **25** Geef het cijfer van dit bevolkingsdiagram.
Geef twee maatregelen die het betreffende land kan nemen om te voorkomen dat de bevolkingsopbouw de economische groei afremt.

Opgave 6 – Demografische ontwikkelingen in een aantal landen in Zuidoost-Azië

bron 1

Leeftijdsopbouw van een aantal landen in Zuidoost-Azië in 2005



vrij naar: Westerman, Diercke Regionalatlas Südostasien, Braunschweig 2010