

Opgave 1 Sprong op de maan

Astronaut Young landde in 1972 met de Apollo 16 op de maan. Daar maakte hij op een gegeven moment een sprong recht omhoog. Die sprong is gefilmd. In het filmpje is te zien dat Young eerst door zijn knieën zakt om zich te kunnen afzetten, zich vervolgens uitstrekt (de afzet), een tijd los is van de grond (de sprong) en bij het neerkomen weer door zijn knieën zakt.

Op de uitwerkbijlage staan vier beelden uit het filmpje:

- a Young is door zijn knieën gezakt;
- b hij komt los van de grond;
- c hij bereikt het hoogste punt;
- d hij is bij het neerkomen weer door zijn knieën gezakt.

Aan de sprong is een videometing gedaan. Figuur 1 is het diagram van de hoogte h van het zwaartepunt van Young als functie van de tijd.

Figuur 2 is het bijbehorende (v,t) -diagram.

Op $t = 1,16$ s komt Young los van de grond.

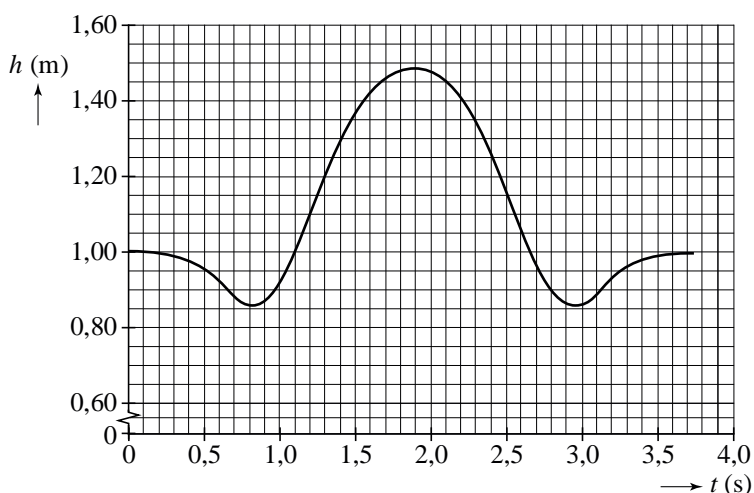
1p **1** Bepaal met behulp van het (h,t) -diagram in figuur 1 hoeveel zijn zwaartepunt na dat tijdstip nog omhoog gaat.

2p **2** Bepaal met behulp van het (v,t) -diagram in figuur 2 hoe lang hij los is van de grond.

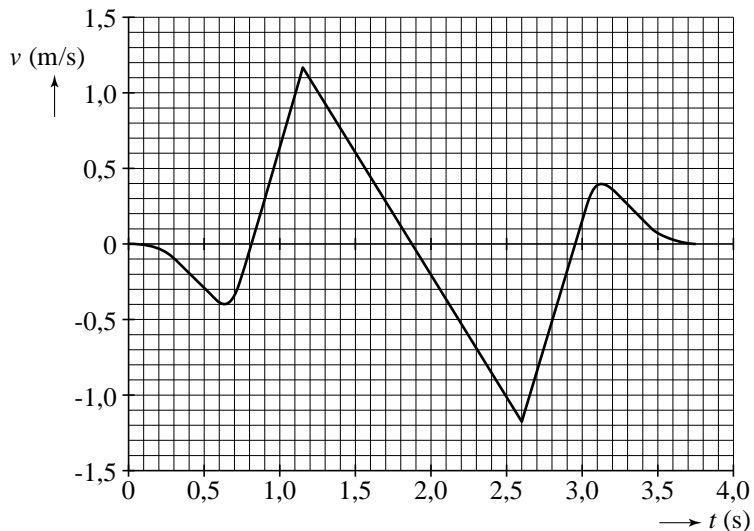
4p **3** Voer de volgende opdrachten uit:

- Zoek op hoe groot de valversnelling g_M op de maan is.
- Toon aan dat uit het (v,t) -diagram vrijwel dezelfde waarde voor g_M volgt.

figuur 1



figuur 2



De massa van Young inclusief bekleding is 120 kg.
Tijdens het afzetten is zijn versnelling $3,3 \text{ m s}^{-2}$.

- 4p **4** Bereken de grootte van de kracht die hij tijdens het afzetten op het maanoppervlak uitoefent. Houd daarbij rekening met de zwaartekracht van de maan.

In het diagram van figuur 3 is de zwaarte-energie E_z van Young weergegeven als functie van de tijd.

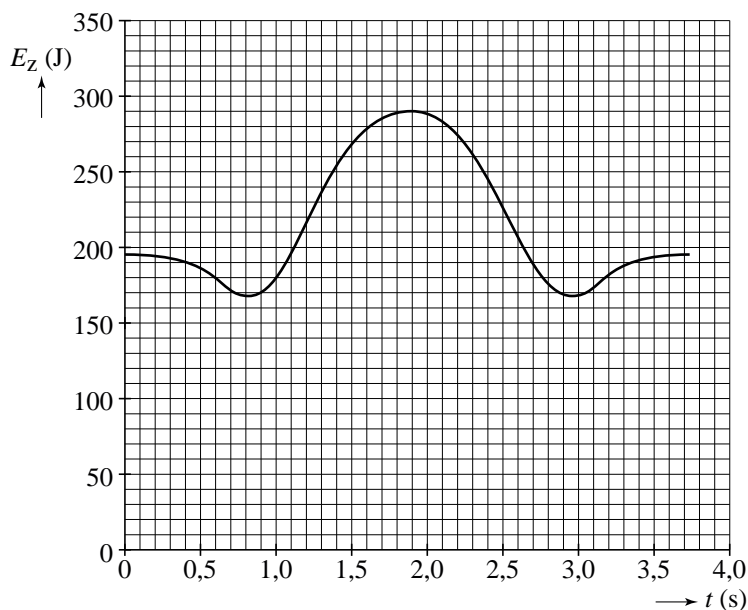
Voor de mechanische energie geldt:

$$E_{\text{mech}} = E_k + E_z.$$

- 4p **5** Bepaal de mechanische energie op de tijdstippen $t = 1,9 \text{ s}$ en $t = 2,5 \text{ s}$.

Gebruik hierbij figuur 2 en figuur 3.

figuur 3




- Het is verstandig om, zoals Young doet, bij het neerkomen door de knieën te zakken. Als je dat niet doet, kan de landing vrij pijnlijk zijn.
- 2p **6** Leg uit waarom het verstandig is om bij het neerkomen door je knieën te zakken. Baseer je uitleg op de relatie $W = F_{\text{rem}} s$.


uitwerkbijlage

1


a




b



c



d



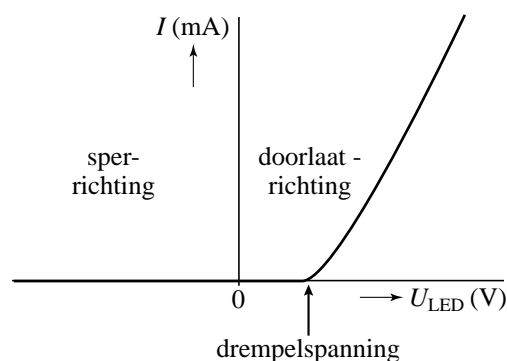
Opgave 2 LED

Lees eerst de tekst hieronder.

Een LED (**L**ight **E**mitting **D**iode) is een diode die licht kan uitzenden. Men kan een LED op twee manieren op een gelijkspanningsbron aansluiten.

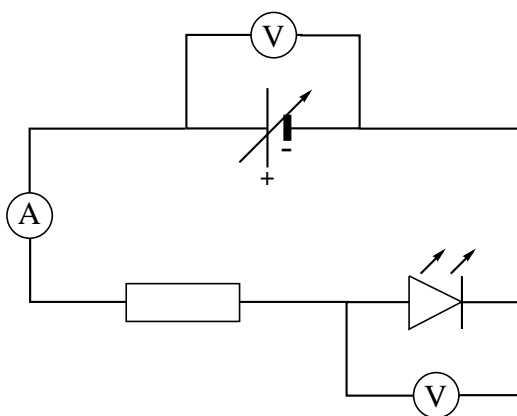
Als de LED in de doorlaatrichting is geschakeld, loopt er vanaf een zekere spanning, de drempelspanning, een elektrische stroom.

Als de LED in tegenovergestelde richting, de sperrichting, is geschakeld, laat hij geen stroom door. Zie de (I,U) -karakteristiek hiernaast; daarin zijn de doorlaatrichting, sperrichting en drempelspanning aangegeven.



Marissa bouwt de schakeling van figuur 1. Ze varieert de spanning van de spanningsbron en meet de stroomsterkte in de stroomkring en de spanning over de LED. Zie tabel 1.

figuur 1



tabel 1

U_{bron} (V)	U_{LED} (V)	I (mA)
0,00	0,00	0,0
0,57	0,57	0,0
1,00	1,00	0,0
1,57	1,57	0,0
2,00	1,88	3,9
2,19	1,92	8,8
2,40	2,00	13,1
2,60	2,09	16,7
2,80	2,13	21,9
3,00	2,17	27,1
3,20	2,22	32,0
3,48	2,27	39,5
3,60	2,30	42,5
3,83	2,35	48,4
4,00	2,40	52,3

In de specificaties van de fabrikant staat dat de drempelspanning van deze LED 1,7 V is.

2p **7** Leg uit dat de metingen van Marissa dat niet tegenspreken.

Op de uitwerkbijlage staan enkele zinnen over de situatie waarbij de spanning van de spanningsbron lager is dan de drempelspanning.

- 2p **8** Maak de zinnen op de uitwerkbijlage compleet zodat er juiste beweringen ontstaan.

Marissa heeft in haar schakeling één van de volgende vijf weerstanden opgenomen: $0,030 \Omega$, $0,30 \Omega$, $3,0 \Omega$, 30Ω of $3,0 \cdot 10^2 \Omega$.

Voor elke weerstand geldt dat hij 10% kan afwijken van de genoemde waarde.

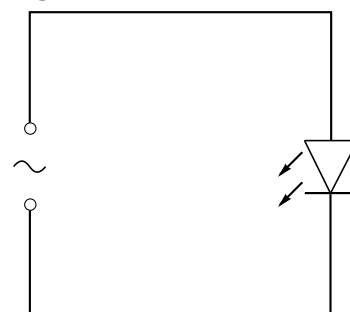
- 4p **9** Welke van deze vijf weerstanden heeft ze gebruikt? Licht je antwoord toe met een berekening.

Marissa sluit de LED (met een drempelspanning van $1,7 \text{ V}$) rechtstreeks aan op een wisselspanningsbron. Zie figuur 2.

Op de uitwerkbijlage is voor één periode de spanning van de bron weergegeven als functie van de tijd.

- 4p **10** Bepaal met behulp van de figuur op de uitwerkbijlage hoeveel procent van de tijd de LED stroom doorlaat.

figuur 2



uitwerkbijlage

- 8 Maak de zinnen compleet zodat er juiste beweringen ontstaan.
- Als de spanning van de spanningsbron lager is dan de drempelspanning, is de stroomsterkte in de schakeling A.
 - De spanning over de weerstand is V.
 - De spanning over de LED is de spanning van de spanningsbron.

Opgave 3 Plutonium voor de Engelse atoombom

Lees eerst onderstaande tekst.

Direct na de Tweede Wereldoorlog besloot de Engelse regering om een atoombom te ontwikkelen. Wetenschappers beschikten daarvoor over natuurlijk uranium dat voor 0,7% uit het splijtbare U-235 bestaat en voor 99,3% uit het niet splijtbare U-238. In een atoombom zou het gehalte U-235 veel hoger moeten zijn.

Natuurlijk uranium kan men echter wel in een kernreactor gebruiken om plutonium te maken. Dit plutonium is ook geschikt voor een atoombom.

In 1947 werd in Windscale met de bouw van zo'n kernreactor begonnen. De reactor bestond uit een enorm blok grafiet. In het grafiet was een groot aantal kanalen geboord waarin aan de voorkant blikjes met natuurlijk uranium werden geduwd (zie de foto hiernaast). In de reactor werd niets gedaan met de energie die vrijkwam bij de kernreacties; die werd via luchtkoeling afgevoerd naar buiten.



In de reactor werd een kettingreactie in stand gehouden waarbij U-235-kernen worden gespleten door het invangen van een neutron. Daarbij vervulde het grafiet de rol van moderator.

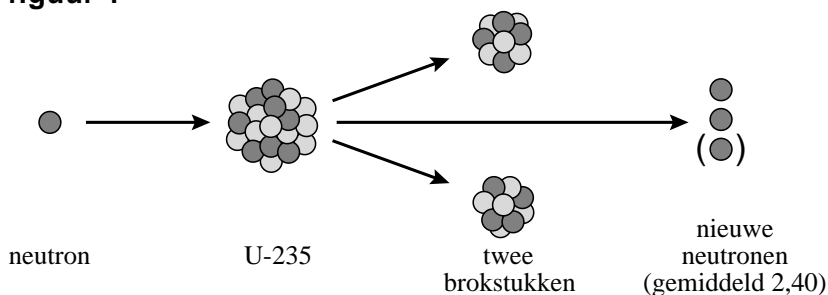
1p **11** Waarvoor dient een moderator in een kernreactor?

Het blok grafiet was 15 m breed, 15 m hoog en 7,5 m diep. Van het volume van dit blok grafiet werd 6,0% ingenomen door de kanalen die er in zijn geboord.

5p **12** Bereken de massa van het blok grafiet in Windscale.

Figuur 1 geeft schematisch de splijting van een U-235-kern weer.

figuur 1



Bij de splijting ontstaan twee middelgrote kernen en twee of drie nieuwe neutronen. Gemiddeld komen er per splijting 2,40 neutronen vrij. Om de reactor op constant vermogen te laten werken, moeten er neutronen worden geabsorbeerd. Er moeten wel voldoende neutronen overblijven om de kernreactie op gang te houden. In tabel 1 is weergegeven hoeveel neutronen er per 100 splijtingen in de verschillende onderdelen van een grafietreactor worden geabsorbeerd.

tabel 1

absorptie door	aantal neutronen
grafiet	25
regelstaven
U-238	85
overige onderdelen	20

- 3p **13** Hoeveel neutronen worden er per 100 splijtingen door de regelstaven geabsorbeerd als de reactor een constant vermogen levert? Licht je antwoord toe.

Het plutonium wordt gevormd doordat een U-238-kern een neutron invangt. Hierbij ontstaat een instabiele kern die vervalst onder uitzending van een β^- -deeltje. De kern die dan wordt gevormd, zendt eveneens een β^- -deeltje uit; daarbij ontstaat plutonium.

- 3p **14** Leg uit welke isotoop van plutonium op deze manier ontstaat.

Tabel 1 laat zien dat er per 100 splijtingen 85 neutronen door U-238 worden ingevangen. Uit elke U-238-kern die een neutron invangt, ontstaat een plutoniumkern. Voor een atoombom had men 5,0 kg plutonium nodig. De reactor van Windscale stond zo ingesteld dat er per seconde $5,8 \cdot 10^{18}$ splijtingen plaatsvonden.

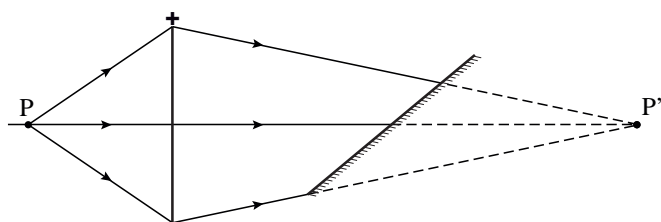
- 5p **15** Bereken hoeveel dagen de reactor moest werken om voldoende plutonium te produceren voor één atoombom. Bereken daartoe eerst hoeveel kg plutonium er per seconde gevormd wordt.

Om te voorkomen dat het grafiet te heet werd, moest de warmte die bij de kernreacties vrijkwam door ventilatoren worden afgevoerd. Per splijting komt gemiddeld 193 MeV energie vrij.

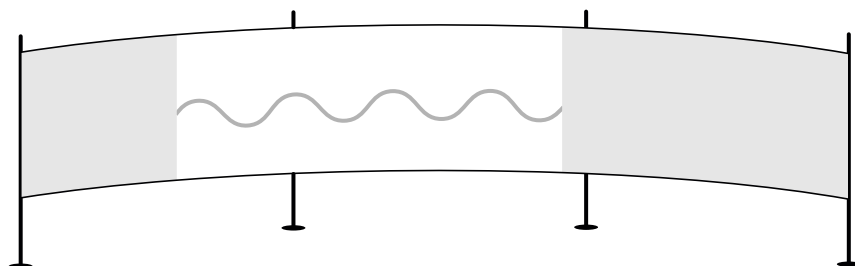
- 2p **16** Bereken de hoeveelheid warmte in Joule die per seconde door de ventilatoren moest worden afgevoerd.

uitwerkbijlage

19



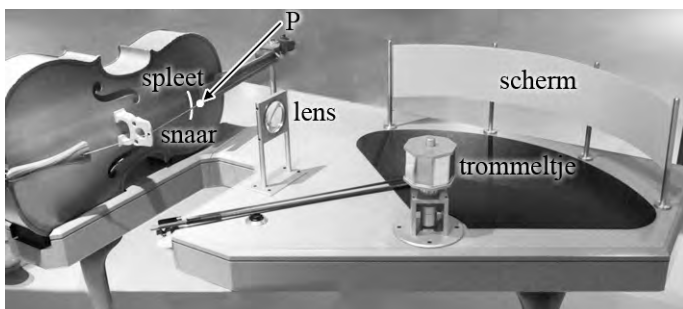
21



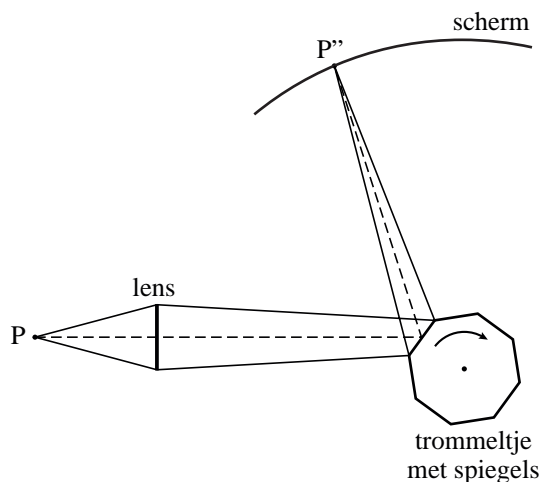
Opgave 4 Trillende snaar

In het science-museum Phaeno in Wolfsburg staat een opstelling waarmee het trillen van een punt van een snaar van een altviool zichtbaar wordt gemaakt. Zie figuur 1.

figuur 1



bovenaanzicht

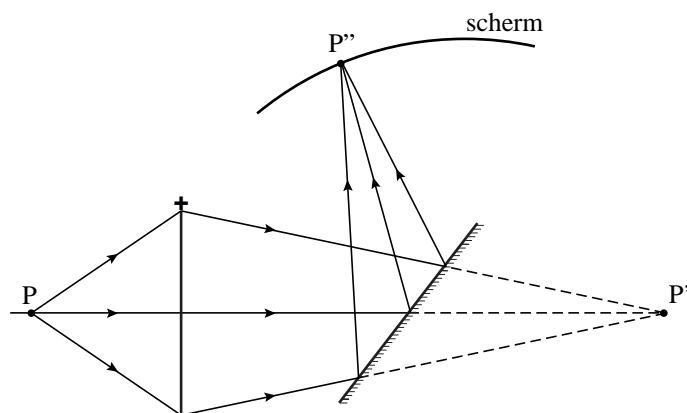


Door een smalle spleet in de altviool valt een lichtbundel op een punt P van een snaar. Dit punt wordt door een lens en via een trommeltje met spiegels afgebeeld op een scherm. Als men de snaar aanstrijkt en het trommeltje met spiegels laat draaien, wordt de beweging van het trillende punt P vergroot op het scherm weergegeven.

We bekijken nu de opstelling in stapjes.

De snaar trilt nog niet. In figuur 2 is schematisch en op schaal getekend hoe punt P door de lens en via een spiegel, die nog stilstaat, op het scherm is afgebeeld (punt P'').

figuur 2



De schaal van de tekening van figuur 2 is 1:9. Dat wil zeggen dat 1,0 cm in de tekening in werkelijkheid 9,0 cm is.

4p 17 Bepaal de sterkte van de lens.

Door de snaar aan te strijken, komt P in trilling. Het beeld P'' op het scherm trilt daardoor verticaal met een amplitude van 2,0 cm.

2p **18** Bepaal de amplitude waarmee punt P trilt.

De spiegel wordt (met de hand) iets gedraaid. Zie de figuur op de uitwerkbijlage.

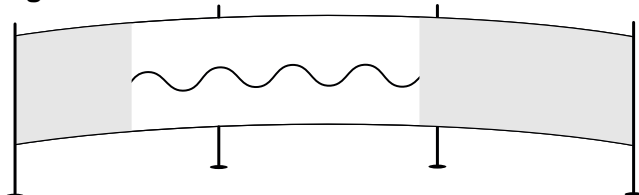
2p **19** Construeer in de figuur op de uitwerkbijlage de positie van het nieuwe beeld van P op het scherm; teken hoe de drie lichtstralen verder gaan na terugkaatsing tegen de spiegel.

Het trommeltje heeft acht spiegels en draait met constante snelheid rond.

Als er een lichtbundel op een spiegel tje valt, beweegt P'' behalve op en neer nu ook van links naar rechts langs het scherm. Bij elke volgende spiegel waar de lichtbundel op valt, herhaalt de beweging van P'' zich.

In figuur 3 is getekend hoe het beeld op het scherm er dan uitziet.

figuur 3



Het trommeltje maakt 65 toeren (omwentelingen) per minuut.

5p **20** Bepaal de frequentie waarmee punt P trilt.

Men maakt het toerental van het trommeltje tweemaal zo groot.

Veronderstel dat punt P weer met een even grote amplitude en dezelfde frequentie trilt als daarvoor.

Figuur 3 staat vergroot op de uitwerkbijlage; daarin is het beeld op het scherm bij een toerental van 65 toeren per minuut met een grijze sinusvormige lijn aangegeven.

3p **21** Teken in de figuur op de uitwerkbijlage hoe het beeld van de trilling eruitziet bij een tweemaal zo hoog toerental van het trommeltje.

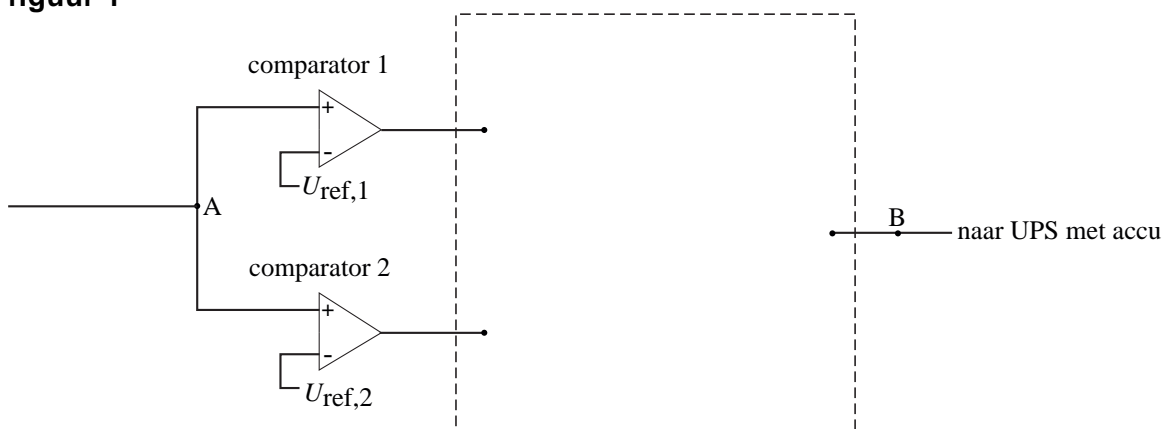
Opgave 5 UPS

Om een computer te beschermen tegen variaties in de netspanning wordt een zogenaamde UPS (**U**ninterruptable **P**ower **S**upply) gebruikt. Ook als de netspanning helemaal wegvalt, wordt de computer enige tijd van stroom voorzien door een accu in de UPS.

Een automatisch systeem zorgt ervoor dat de UPS wordt ingeschakeld als dat nodig is. In figuur 1 is een deel van dit systeem getekend.

Bij punt A is de gelijkspanning gelijk aan 1,0% van de netspanning. Dus als de netspanning 230 V is, is bij A de gelijkspanning 2,3 V.

figuur 1



Het automatisch systeem moet aan de volgende eis voldoen:

- Als de netspanning hoger wordt dan 250 V, of lager dan 190 V, wordt het signaal bij B hoog en wordt de UPS ingeschakeld.

Figuur 1 staat ook op de uitwerkbijlage.

- 4p **22** Maak de schakeling op de uitwerkbijlage compleet zodat aan bovengenoemde eis is voldaan. Geef bij elke comparator aan hoe groot de referentiespanning moet zijn.

De UPS kan maar beperkte tijd energie leveren. Daarom wordt het automatisch systeem uitgebreid zodat het ook aan de volgende eisen voldoet:

- Zodra de UPS wordt ingeschakeld, wordt tevens een teller gestart vanaf 0.
- Zodra de UPS 10 seconden aaneengesloten is ingeschakeld, wordt er blijvend een zoemer ingeschakeld.
- Zodra de netspanning weer binnen de toegestane grenzen ligt, gaat de zoemer uit en springt de teller weer op 0.

Op de uitwerkbijlage is al een deel van deze schakeling getekend. (De grijze rechthoek bevat de schakeling die bij de vorige vraag is ontworpen. Voor het vervolg van deze opgave is het niet van belang of je hierin de juiste verwerkers hebt aangebracht.)

Als het signaal bij B hoog is, is de UPS ingeschakeld.

- 5p **23** Maak de schakeling op de uitwerkbijlage compleet zodat ook aan de drie bovengenoemde eisen is voldaan.

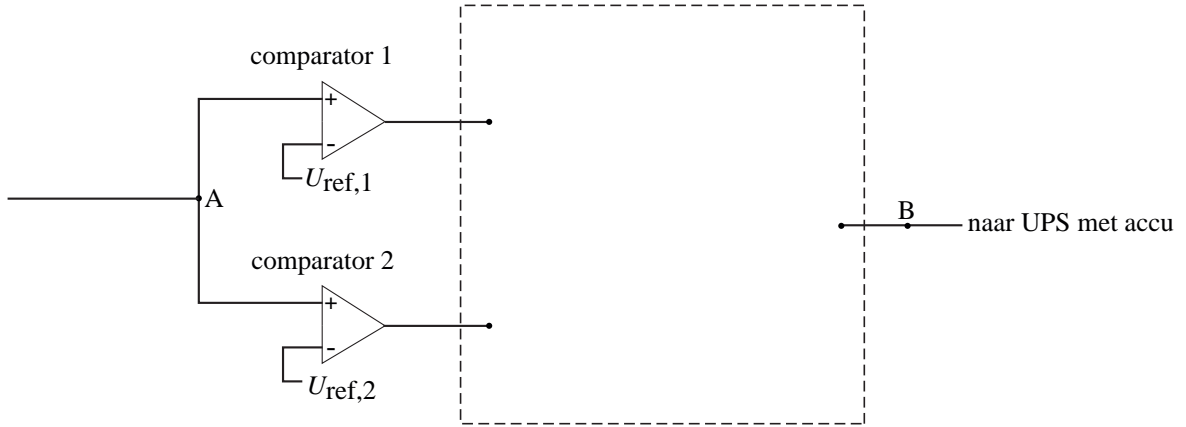
De UPS is gekoppeld aan een computer met een elektrisch vermogen van 480 W. Als de netspanning wegvalt, zorgt de accu in de UPS enige tijd voor de voeding van de computer. Er is dan tijd om de computer netjes af te sluiten, zodat er geen gegevens verloren gaan.

De accu kan maximaal 55 Wh energie aan de computer leveren.

- 3p **24** Bereken hoeveel minuten men dan tot zijn beschikking heeft om de computer af te sluiten.

uitwerkbijlage

22



$U_{ref,1} = \dots\dots\dots V$

$U_{ref,2} = \dots\dots\dots V$

23

