

Opgave 5

Olie op het (vredes)vuur?

Vrijwel direct nadat het Afrikaanse land Sudan onafhankelijk wordt, breekt er een burgeroorlog uit. Het conflict wordt grimmiger als er enkele jaren later olievelden ontdekt worden. De strijdende partijen krijgen ruzie over de verdeling van de inkomsten uit oliewinning.


Internationale organisaties, zoals de Afrikaanse Unie (AU) en de Verenigde Naties (VN), proberen al jaren tevergeefs te onderhandelen tussen de strijdende partijen. Inmiddels heeft de VN een vredesmacht naar Sudan gestuurd.

Critici plaatsen vraagtekens bij het sturen van een vredesmacht. Zij denken dat het afkondigen van sancties tegen de Sudanese olie-export effectiever is. Het grootste deel van de inkomsten uit olie wordt namelijk rechtstreeks gebruikt voor de financiering van de burgeroorlog.

Een econoom legt uit dat het afkondigen van sancties tegen de Sudanese olie-export nadelig kan uitpakken voor de economie van Sudan: "In 2006 is het tekort op de lopende rekening van de betalingsbalans ten opzichte van 2005 al met 24% toegenomen. Nu sancties tegen de olie-export afkondigen betekent dat dit tekort verder zal toenemen. Dit heeft weer gevolgen voor de wisselkoers van de Sudanese pond en voor de inflatie in Sudan. Zo zal een oplopend tekort op de lopende rekening van de betalingsbalans de economische groei van Sudan afremmen."

Gebruik bron 16.

- 2p **20** Laat met een berekening zien dat het tekort op de lopende rekening van Sudan in 2006 ten opzichte van 2005 met 24% (afgerond) is toegenomen.
- 2p **21** Leg uit hoe een oplopend tekort op de lopende rekening van Sudan kan leiden tot een daling van de wisselkoers van de Sudanese pond.
- 2p **22** Leg uit hoe deze verandering van de wisselkoers, via een oplopende inflatie, de economische groei in Sudan kan afremmen.



Darfur = de regio in Sudan waar het conflict zich voornamelijk afspeelt

UN = United Nations (Verenigde Naties)

AU = Afrikaanse Unie

EU = Europese Unie

Arab League = belangenbehartiger voor Arabische migranten in Europa

Council of Elders = raad van oudsten

Naar aanleiding van bovenstaande cartoon krijgt een medewerker van de Europese Unie (EU) de mogelijkheid te reageren in een actualiteitenprogramma. De vraag luidt: "Internationale organisaties zoals de VN, EU en de AU kunnen volgens de cartoon geen doorbraak forceren in Darfur. Is het conflict nu onoplosbaar?"

De EU medewerker antwoordt: "Nee, wat opvalt is dat China als onderhandelaar ontbreekt in de cartoon! Ik weet zeker dat wij China kunnen overtuigen van de noodzaak om de strijdende partijen in Sudan onder druk te zetten, waardoor een vredesakkoord dichterbij komt. Ik zal u uitleggen hoe:"

Gebruik bronnen 17 en 18.

3p **23** Schrijf het vervolg van de reactie van de EU medewerker. Verwerk in deze reactie de onderstaande aspecten:

- de reden waarom China de strijdende partijen in Sudan onder druk kan zetten;
- de reden waarom de Europese Unie China onder druk kan zetten;
- het verband tussen export en burgeroorlog.

Gebruik maximaal 70 woorden.

Opgave 5

bron 16 Iopende rekening betalingsbalans Sudan

		export	import
% verandering ten opzichte van vooraftgaand jaar	2005	+ 28%	+ 66%
	2006	+ 17%	+ 19%
miljoen dollars	2006	5.657	8.074

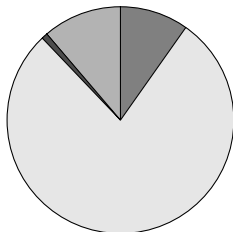
bron 17 uit een krant (november 2007)

Overschot handelsbalans China fors gegroeid

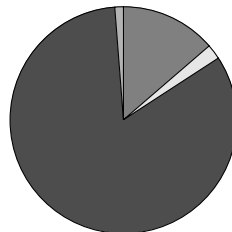
China heeft over de eerste zes maanden van dit jaar een overschot op de handelsbalans van 34,5 miljard euro. Dit overschot is vooral een gevolg van een sterke stijging van de export van goederen. De belangrijkste afnemer van de China blijft nog steeds de Europese Unie.

bron 18 kenmerken van de handelsbalans van Sudan (2007)

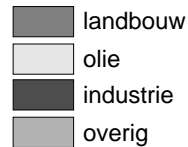
samenstelling export



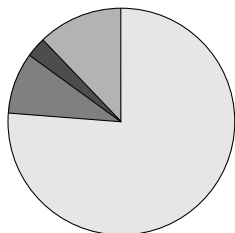
samenstelling import



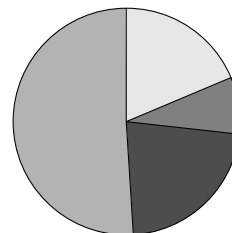
Legenda:



bestemming export



herkomst import



Legenda:

