

Opgave 6

België - Nederland

In economische publicaties wordt veel gebruikgemaakt van tabellen en grafieken. In het informatieboekje staan vijf statistieken waarin België met Nederland wordt vergeleken. Naar aanleiding van deze statistieken worden in deze opgave vijf vragen gesteld.

De periode 1998-2000 kan voor Nederland worden gekenmerkt als een periode van hoogconjunctuur. Dit kan worden afgelezen uit de ontwikkeling van de nominale en reële groei van het bruto binnenlands product (bbp) in statistiek 2. Ook uit de ontwikkeling van andere grootheden in de statistieken kan de hoogconjunctuur in deze periode worden afgeleid.

2p **17** Noem zo'n grootheid. Licht het antwoord toe.

2p **18** Was volgens statistiek 2 de inflatie in Nederland in 2001 hoger of lager dan in 2000? Licht het antwoord toe.

Met behulp van statistiek 1, 2 en 3 kunnen de uitgaven aan sociale zekerheid als percentage van het bbp worden uitgerekend. Deze uitgaven bedroegen in 2002 voor België (afgerond) 27,7% van het bbp.

2p **19** Bereken dit percentage in 2002 voor Nederland.

België heeft, in vergelijking met Nederland, een kleinere bevolking maar een grotere staatsschuld. Er kan worden berekend dat in 2004 de staatsschuld van Nederland (afgerond) € 259,4 miljard bedroeg.

2p **20** Bereken de staatsschuld van België in 2004.

Hans trekt uit statistiek 5 de conclusie dat de arbeidsproductiviteit in Nederland in 2003 lager is dan in 1997, omdat het indexcijfer in 2003 lager is dan in 1997. Volgens Klaas kan deze conclusie niet uit statistiek 5 worden getrokken.

2p **21** Wie heeft gelijk, Hans of Klaas? Verklaar het antwoord

Informatieboekje bij opgave 6

statistiek 1

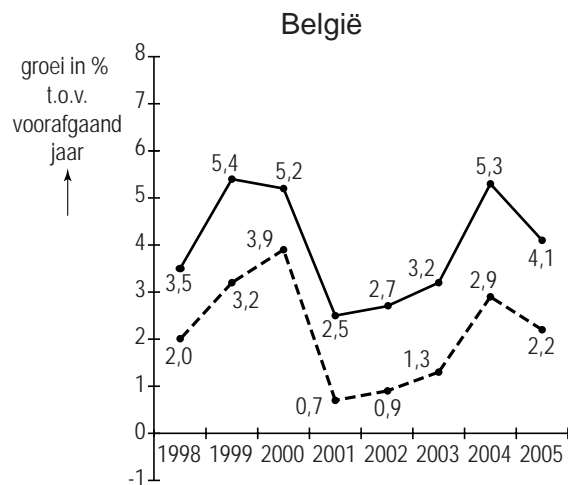
bevolking

	eenheid	1997	1998	1999	2000	2001	2002	2003	2004	2005
België	personen × 1.000	10.170	10.192	10.214	10.239	10.263	10.310	10.356	10.396	10.446
Nederland	personen × 1.000	15.567	15.654	15.760	15.864	15.987	16.105	16.193	16.258	16.306

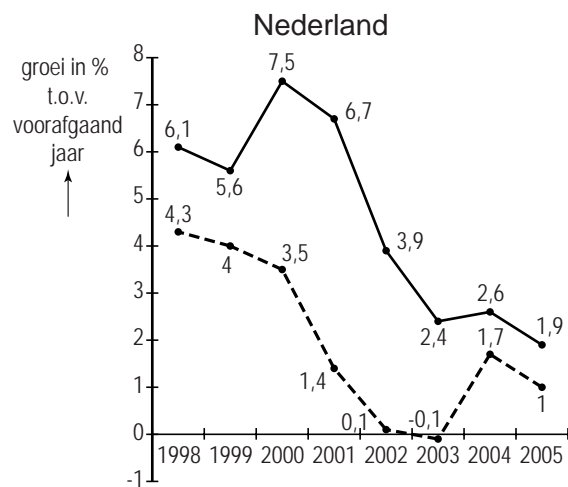
statistiek 2

bruto binnenlands product (bbp)

	eenheid	1997	1998	1999	2000	2001	2002	2003	2004	2005
België	miljarden euro's	216,1	223,7	235,7	247,9	254,2	261,1	269,5	283,8	295,3
Nederland	miljarden euro's	348,0	369,4	390,1	419,5	447,7	465,2	476,3	488,6	497,9



legenda:
 —●— nominale groei bbp
 - - - ● - - - reële groei bbp



legenda:
 —●— nominale groei bbp
 - - - ● - - - reële groei bbp

statistiek 3

sociale zekerheid

		eenheid	1997	1998	1999	2000	2001	2002
uitgaven per hoofd van de bevolking	België	euro's	5.927	6.053	6.299	6.492	6.794	7.003
uitgaven per hoofd van de bevolking	Nederland	euro's	6.262	6.369	6.614	6.923	7.371	7.852

statistiek 4

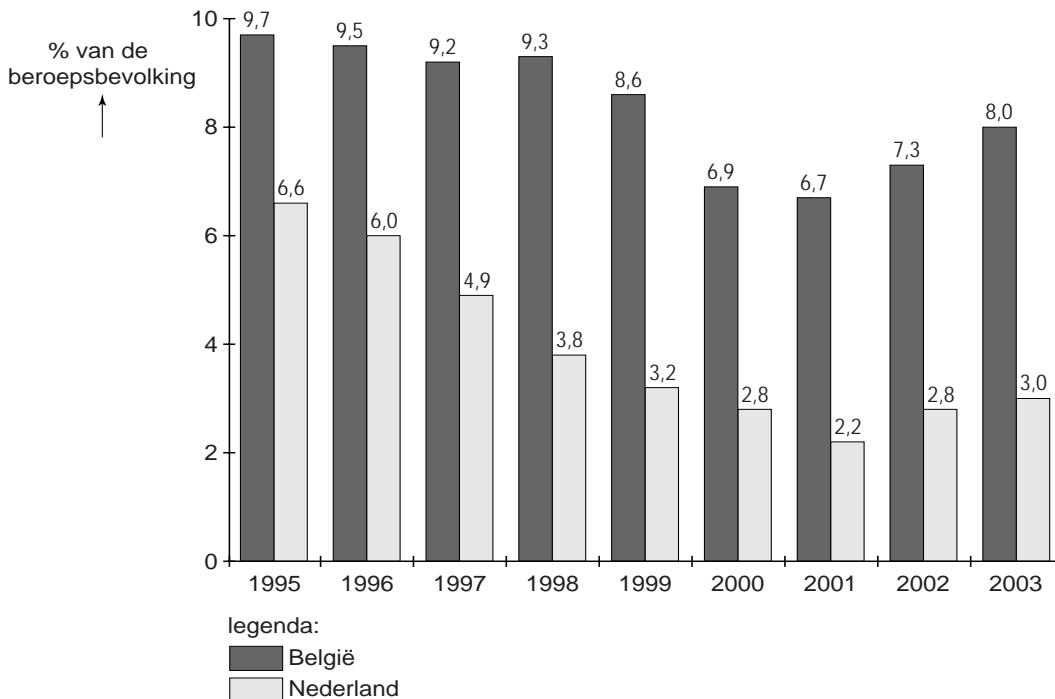
overheid en collectieve sector

		eenheid	1997	1998	1999	2000	2001	2002	2003	2004
staatsschuldquote	België	in % van bbp	124,8	119,6	114,8	109,1	108,8	105,4	100,0	95,7
staatsschuldquote	Nederland	in % van bbp	69,9	66,8	63,1	55,9	51,5	51,3	52,6	53,1
collectieve lastendruk	België	in % van bbp	49,9	50,4	50,1	49,9	50,6	51,0	52,1	50,2
collectieve lastendruk	Nederland	in % van bbp	47,1	46,4	47,6	47,5	45,1	44,2	43,9	44,5

statistiek 5

arbeidsmarkt

werkloosheid



arbeidsproductiviteit

	eenheid	1997	1998	1999	2000	2001	2002	2003
België	index (EU = 100) *	119,8	119,4	120,3	119,7	119,3	119,0	120,7
Nederland	index (EU = 100) *	113,4	111,7	110,6	112,7	111,9	111,2	111,4

* De arbeidsproductiviteit wordt voor alle EU-lidstaten jaarlijks uitgedrukt in een indexcijfer, waarbij de gemiddelde arbeidsproductiviteit van de EU-lidstaten ieder jaar opnieuw op 100 wordt gesteld.