

Ontwikkelingsland – Brazilië

Opgave 5 – Klimaten en landschappen in Brazilië

Bestudeer bron 1 die bij deze opgave hoort.

Gebruik bron 1 en de atlas.

De klimaatgrafieken a tot en met d in bron 1 horen bij de steden Brasília, Manaus, Porto Alegre en São Paulo.

- 2p **18** Noteer de letters van de vier klimaatgrafieken op je antwoordblad. Schrijf achter elke letter de naam van de juiste stad.

Gebruik de atlas.

Hieronder staan kenmerken van drie landschappen in Brazilië: caatinga, cerrado en selva.

- a Dit landschap bestaat uit een steppeachtige vegetatie.
 - b Dit landschap bestaat uit tropisch regenwoud.
 - c Door de halfjaarlijkse verschuiving van de ITCZ zijn de verschillen in neerslag tussen de seizoenen groot.
 - d Er is een droge periode van ongeveer negen maanden.
 - e Grote delen van dit gebied staan door het geringe reliëf regelmatig onder water.
 - f Voor de aanleg van onder andere sojaplantages wordt de savanneachtige vegetatie gekapt.
- 3p **19** Noteer de namen van deze drie landschappen op je antwoordblad. Schrijf achter elk landschap de letters van de twee bijbehorende kenmerken.

In Brazilië worden biobrandstoffen geproduceerd. Het gebruik van biobrandstoffen heeft voordelen en nadelen voor mens en natuur.

- 3p **20** Neem onderstaande tabel over op je antwoordblad. Vul de tabel verder in.

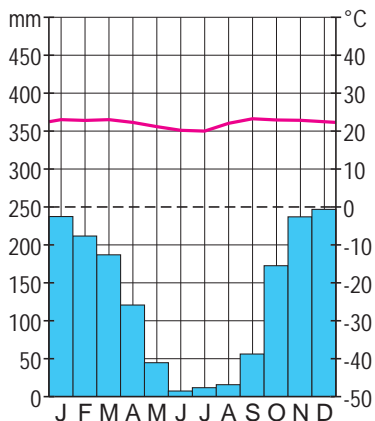
	voordeel van het gebruik van biobrandstoffen	nadeel van het gebruik van biobrandstoffen
mens	<i>Het produceren van biobrandstoffen levert Brazilië inkomsten op.</i>	...
natuur

Opgave 5 – Klimaten en landschappen in Brazilië

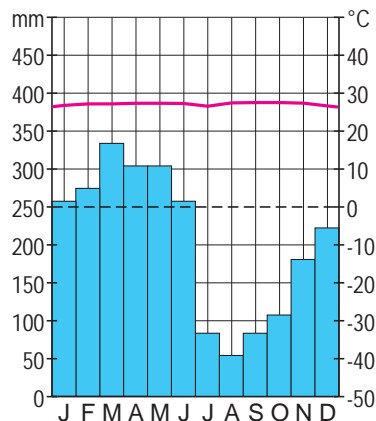
bron 1

Klimaatgrafieken van vier steden in Brazilië

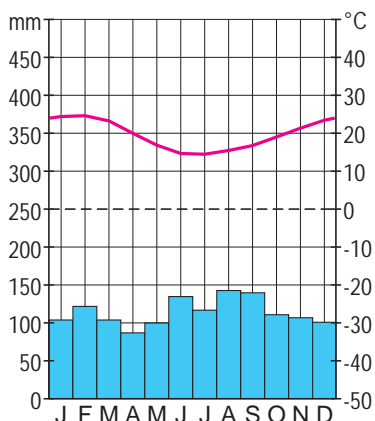
klimaatgrafiek a



klimaatgrafiek b



klimaatgrafiek c



klimaatgrafiek d

