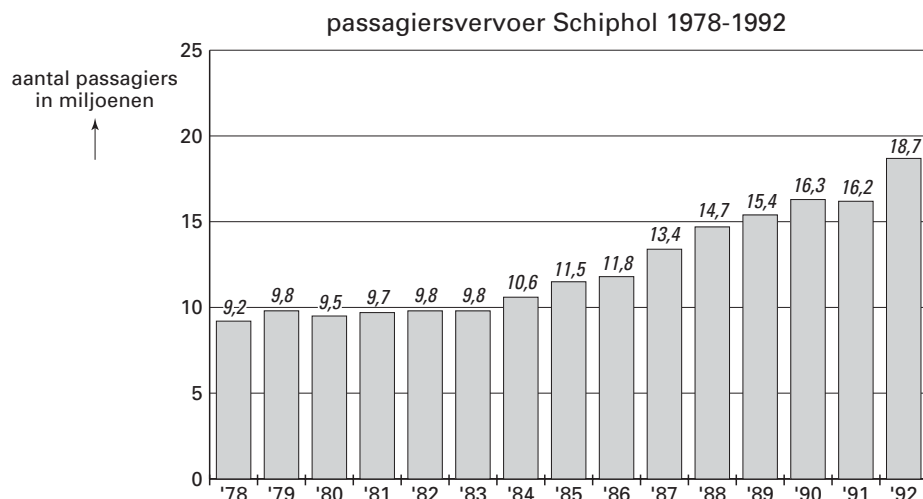


Vliegen

In figuur 1 zie je voor een aantal achtereenvolgende jaren hoeveel passagiers er op luchthaven Schiphol zijn vertrokken of aangekomen.

figuur 1



Rond 1995 besloot de overheid dat Schiphol mocht uitbreiden. Een voorwaarde hiervoor was dat tot en met 2003 het aantal passagiers per jaar ruim onder de 40 miljoen zou blijven. Met behulp van de gegevens uit figuur 1 probeerde men te voorspellen of het haalbaar was om aan deze voorwaarde te voldoen. Men nam aan dat na 1992 het aantal passagiers elk jaar met een vast percentage zou groeien.

Een schatting voor dit percentage baseerde men op de groei in de voorafgaande jaren. Men kan bijvoorbeeld de periode 1983-1992 nemen en dan als volgt te werk gaan:

- neem het aantal passagiers in het eerste en het laatste jaar van deze periode (dus in 1983 en in 1992);
- bereken met deze twee aantallen hoe groot het jaarlijkse groeipercentage zou zijn als in de tussenliggende periode het aantal passagiers elk jaar met hetzelfde percentage zou zijn gegroeid;
- neem aan dat voor elk jaar na 1992 dit groeipercentage geldt.

- 5p 1 Bereken op deze wijze of het aantal passagiers per jaar tot en met 2003 onder de grens van 40 miljoen zal blijven.

Door niet naar de periode 1983-1992 te kijken, maar naar een andere periode, kon men op een lager jaarlijks groeipercentage uitkomen. Men gebruikte hiervoor niet een periode van 9 jaar, zoals de periode 1983-1992, maar een periode van 12 jaar.

- 4p 2 Welke periode van 12 jaar moet men in figuur 1 nemen om op een zo laag mogelijk jaarlijks groeipercentage uit te komen? Licht je keuze toe.

Bij de hierboven beschreven methode zijn alleen de aantallen in het eerste en laatste jaar van de beschouwde periode van belang. De werkelijke groeipercentages voor elk jaar apart spelen daarbij geen rol.

Een journalist meent dat het beter is om deze afzonderlijke groeipercentages wel te berekenen, en daar het gemiddelde van te nemen. Hij neemt als voorbeeld de periode 1981-1989. Hij berekent de jaarlijkse groeipercentages in deze periode (dus van 1982 ten opzichte van 1981 enzovoort). Deze zijn achtereenvolgens: 1,0; 0,0; 8,2; 8,5; 2,6; 13,6; 9,7; 4,8.

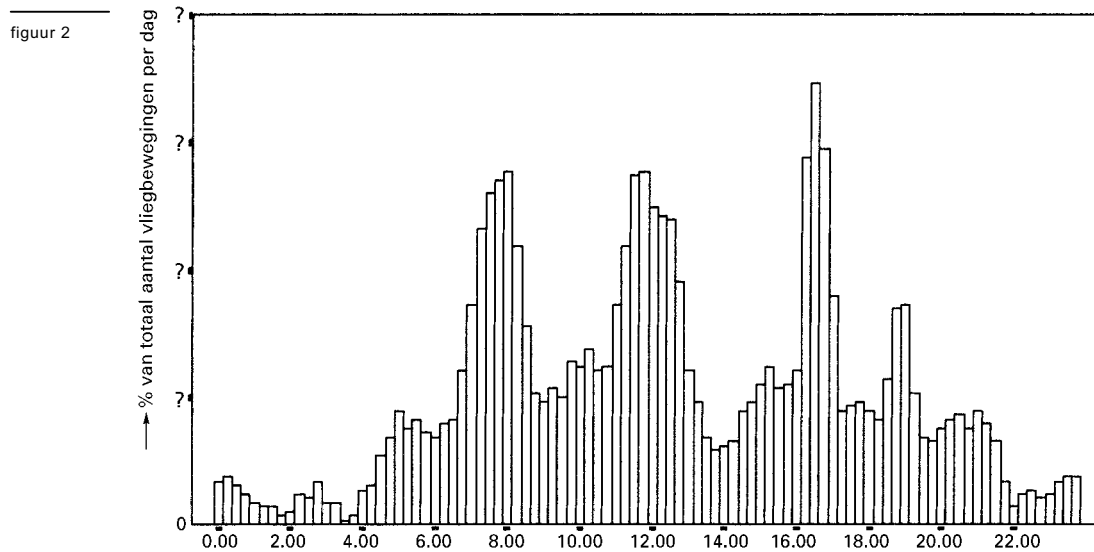
Het gemiddelde hiervan is: $\frac{1,0+0,0+8,2+8,5+2,6+13,6+9,7+4,8}{8} = 6,05$.

Eindexamen wiskunde A1 vwo 2002-II

De journalist meent nu dat je de ontwikkeling tussen 1981 en 1989 goed kunt beschrijven met de aanname dat vanaf 1981 het aantal passagiers 8 jaar lang jaarlijks met 6,05% is toegenomen. Maar als hij met deze aanname, uitgaande van 9,7 miljoen passagiers in 1981, het aantal passagiers in 1989 berekent, komt hij niet precies uit op het werkelijke aantal, zoals vermeld in figuur 1.

- 4p 3 Bereken hoe groot het verschil is tussen het door de journalist berekende aantal passagiers in 1989 en het werkelijke aantal.

Bij het debat over Schiphol speelt geluidshinder een belangrijke rol. Daarbij is niet alleen het aantal vliegbewegingen (starts en landingen) per dag van belang, maar ook hoe die over het etmaal verdeeld zijn. Iemand heeft uit een rapport daarover figuur 2 gekopieerd.



De getallen bij de verticale as zijn bij het kopiëren onleesbaar geworden. Ze zijn nu met vraagtekens aangegeven.

- 4p 4 Beredeneer welke getallen in figuur 2 bij de verticale as gestaan kunnen hebben. Kies hierbij uit: 0; 0,1; 0,2; 0,3; 0,4 of 0; 1; 2; 3; 4 of 0; 10; 20; 30; 40. Licht je antwoord toe.

Keno

In de Verenigde Staten kun je op veel plaatsen het kansspel Keno spelen. De spelregels en de te winnen prijzen zijn niet overal precies hetzelfde. We kijken in deze opgave naar één bepaalde vorm waarin het spel gespeeld kan worden.

Een lot kost 1 dollar. Op het lot staan de getallen 1 tot en met 80. Om mee te spelen moet je 10 van deze 80 getallen aankruisen. Dat kan op verschillende manieren. In figuur 3 zie je daar een voorbeeld van.

figuur 3

Select your own numbers

<input checked="" type="checkbox"/>	2	3	4	5	6	7	8	9	10
11	12	<input checked="" type="checkbox"/>	14	15	16	17	<input checked="" type="checkbox"/>	19	20
21	22	23	<input checked="" type="checkbox"/>	25	26	27	28	29	30
31	32	33	34	35	36	37	38	39	40
41	<input checked="" type="checkbox"/>	<input checked="" type="checkbox"/>	44	45	46	47	48	49	50
51	52	53	<input checked="" type="checkbox"/>	55	56	57	58	59	<input checked="" type="checkbox"/>
61	62	63	64	65	66	67	68	69	<input checked="" type="checkbox"/>
71	72	73	74	75	<input checked="" type="checkbox"/>	78	79	80	

- 4p **5** Bereken hoeveel mogelijkheden er zijn om 10 verschillende getallen op het lot te kiezen.

Bij de trekking worden door een trekkingsmachine willekeurig 22 getallen gekozen uit de getallen 1 tot en met 80. Nu gaat het erom, hoeveel van de 10 aangekruiste getallen goed zijn. Dat wil zeggen, hoeveel er bij de 22 getallen uit de trekkingsmachine zitten. Dit aantal bepaalt de prijs die je wint. Het prijzenschema ziet er als volgt uit.

tabel 1

aantal getallen goed	prijs
10	\$ 250.000,-
9	\$ 2.500,-
8	\$ 250,-
7	\$ 25,-
6	\$ 7,-
5	gratis lot
4	gratis lot
3	geen prijs
2	geen prijs
1	gratis lot
0	\$ 5,-

Eindexamen wiskunde A1 vwo 2002-II

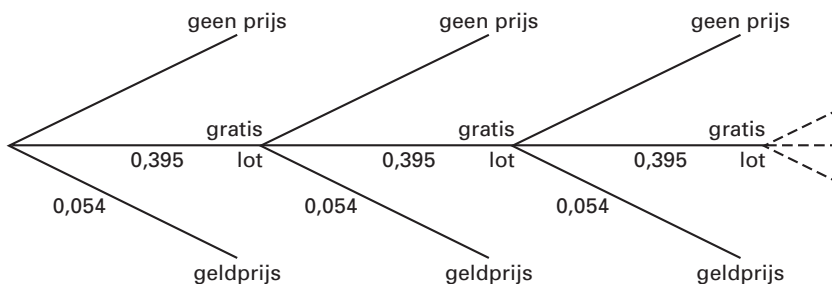
havovwo.nl

Opvallend is dat je bij 0 goed een prijs wint en bij 2 of 3 goed niet. Hiervoor is gekozen omdat bijvoorbeeld de kans dat 2 getallen goed zijn veel groter is dan de kans dat 0 getallen goed zijn.

6p **6** Bereken de kans dat 0 getallen goed zijn en bereken ook de kans dat 2 getallen goed zijn.

Stel dat je één lot koopt. De kans dat je direct een geldprijs wint, is dan ongeveer 5,4% en de kans op een gratis lot ongeveer 39,5%. De kans dat je met dat gratis lot bij de volgende trekking een geldprijs wint, is weer 5,4% en de kans dat je opnieuw een gratis lot wint, is weer 39,5%, enzovoorts. Zie diagram 1.

diagram 1



6p **7** Bereken de kans dat je zo bij een van de eerste tien trekkingen een geldprijs wint.

De maker van een website over dit spel verzamelt al sinds de introductie van dit spel de resultaten van alle trekkingen. Hij houdt ook voortdurend bij hoe vaak elk van de 80 getallen getrokken is in alle trekkingen tot dan toe. Op basis daarvan publiceerde hij op een bepaald moment tabel 2. Uit deze tabel blijkt bijvoorbeeld dat tot dat moment 11 van de 80 getallen ten minste 290 keer en ten hoogste 299 keer waren getrokken.

tabel 2

aantal keren getrokken	aantal getallen
260 – 269	2
270 – 279	1
280 – 289	4
290 – 299	11
300 – 309	21
310 – 319	21
320 – 329	15
330 – 339	3
340 – 349	0
350 – 359	2

Tabel 2 heeft betrekking op een groot aantal trekkingen van telkens 22 getallen. Met behulp van de gegevens in de tabel kunnen we een schatting maken van dit aantal trekkingen. De maker van de website beweerde dat tabel 2 betrekking had op 1126 trekkingen.

5p **8** Onderzoek of deze bewering in overeenstemming kan zijn met de gegevens in tabel 2.

■ Nieuwbouw

Als een nieuwbouwwoning wordt opgeleverd, vindt doorgaans een inspectie plaats. Daarbij komen vaak nog gebreken aan het licht. Uit de nieuwbouwwoningen die bij de oplevering één of meer gebreken vertoonden, werd in het jaar 2000 door de Vereniging Eigen Huis een steekproef van 325 woningen genomen. De resultaten zijn samengevat in tabel 3.

tabel 3

aantal bij oplevering geconstateerde gebreken	aantal woningen
1 t/m 5 gebreken	5
6 t/m 10 gebreken	21
11 t/m 20 gebreken	85
21 t/m 30 gebreken	88
31 t/m 40 gebreken	59
41 t/m 50 gebreken	47
51 t/m 60 gebreken	7
61 of meer gebreken	13

Van deze 325 woningen bleek het gemiddelde aantal gebreken per woning 28,6 te zijn.

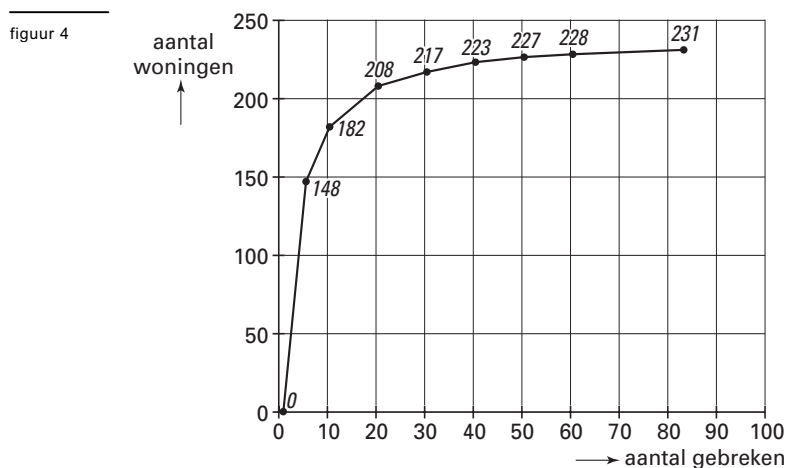
In plaats van het gemiddelde had men ook als centrummaat de mediaan van het aantal gebreken per woning kunnen nemen.

Neem aan dat het aantal woningen steeds bij benadering gelijkmatig over een klasse verdeeld is, behalve bij de laatste klasse.

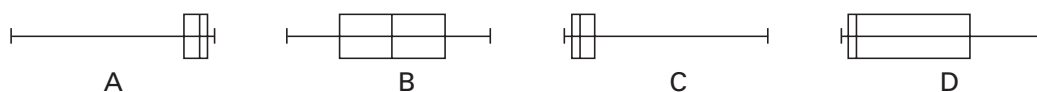
- 4p 9 Onderzoek of de mediaan groter of kleiner is dan het gemiddelde 28,6.

Eindexamen wiskunde A1 vwo 2002-II

Als een nieuwbouwwoning een of meer gebreken vertoont, krijgt de bouwer twee weken de tijd om deze te herstellen. Dat blijkt vaak niet te lukken. Bij het onderzoek waren slechts 94 van de 325 woningen na twee weken geheel in orde. De andere 231 woningen vertoonden nog steeds gebreken. Bij één woning vond men zelfs nog 83 gebreken. Van de 231 woningen die na twee weken nog steeds gebreken vertoonden, staan de gegevens over het aantal gebreken per woning in de cumulatieve frequentiepolygoon van figuur 4. Er is gebruik gemaakt van dezelfde klassenindeling als in tabel 3. Figuur 4 staat ook op de bijlage.



Hieronder staan vier schetsen van boxplots van het aantal gebreken per woning.



- 4p 10 Welk van deze boxplots past het beste bij de gegevens van figuur 4? Licht je antwoord toe, eventueel met behulp van de figuur op de bijlage.

Omdat na twee weken slechts een klein deel van de 325 woningen in orde is, lijkt het net of de bouwers slecht presteren. Maar de 231 woningen die nog niet in orde waren, hadden nu gemiddeld ongeveer 8,9 gebreken.

Daaruit volgt dat de bouwers ruim driekwart van alle gebreken hebben verholpen in de herstelperiode van twee weken.

- 4p 11 Toon dit met een berekening aan.

Afvallen

Veel mensen doen hun best om hun lichaamsgewicht onder controle te houden. Of je op gewicht blijft, aankomt of afvalt, is natuurlijk afhankelijk van wat je per dag eet en drinkt, maar ook van je lichamelijke activiteiten en van je huidige gewicht.

Voor vrouwen met een lengte van 170 cm die normale activiteiten verrichten, is in tabel 4 het verband weergegeven tussen het lichaamsgewicht en het aantal kilocalorieën (kcal) dat per dag nodig is om op hetzelfde gewicht te blijven.

Wie wil afvallen moet ervoor zorgen minder kilocalorieën binnen te krijgen. Ook daarover geeft tabel 4 informatie.

In alle organen en spieren wordt energie verbruikt, maar in vetweefsel niet. Dat verklaart waarom de waarden in het onderste gedeelte van de tabel anders verlopen dan in het bovenste gedeelte.

tabel 4

lichaamsgewicht in kg	benodigde aantal kcal per dag voor vrouwen van 170 cm bij normale activiteiten			
	voor behoud huidige gewicht	om 0,5 pond per week af te vallen	om 1 pond per week af te vallen	om 2 pond per week af te vallen
50	1650	1400	1150	650
55	1725	1475	1225	725
60	1800	1550	1300	800
65	1875	1625	1375	875
70	1910	1710	1510	1110
75	1925	1725	1525	1125
80	1940	1740	1540	1140
85	1955	1755	1555	1155
90	1970	1770	1570	1170

Zo lees je af dat een vrouw met een gewicht van 75 kg volgens deze tabel 1925 kcal per dag nodig heeft om op gewicht te blijven. Als ze maar 1525 kcal per dag zou gebruiken dan zou ze 1 pond per week afvallen.

In de tabel zou ook een kolom kunnen staan om 1,5 pond per week af te vallen. Op grond van de regelmaat in de tabel kun je berekenen welke getallen in deze kolom zouden moeten staan.

- 4p **12** Bereken de getallen die in deze kolom zouden moeten staan bij een lichaamsgewicht van 70, 75, 80, 85 en 90 kg.

In plaats van deze uitgebreide tabellen is het ook mogelijk formules te geven. Voor vrouwen met een gewicht vanaf 50 kg tot en met 65 kg zijn deze formules dan:

$$\begin{aligned}
 E_{\text{behoud}} &= 15 \cdot \text{gewicht} + 900 \\
 E_{1 \text{ pond afvallen}} &= 15 \cdot \text{gewicht} + 400 \\
 E_{x \text{ pond afvallen}} &= 15 \cdot \text{gewicht} + 900 - 500 \cdot x
 \end{aligned}$$

Hierbij geldt:

E_{behoud} is het aantal kcal per dag om het huidige gewicht te houden,
 $E_{1 \text{ pond afvallen}}$ is het aantal kcal per dag om 1 pond per week af te vallen,
 $E_{x \text{ pond afvallen}}$ is het aantal kcal per dag om x pond per week af te vallen.

Ook voor de vrouwen uit de tabel die 70 kg of meer wegen kun je zo drie formules maken.

- 6p **13** Maak voor deze groep vrouwen formules voor E_{behoud} , $E_{1 \text{ pond afvallen}}$ en $E_{x \text{ pond afvallen}}$.

Eindexamen wiskunde A1 vwo 2002-II

havovwo.nl

Wat voor iemand een gezond gewicht is, is onder andere afhankelijk van de lichaamslengte. In de literatuur vind je verschillende methoden om het ideale gewicht te bepalen aan de hand van de lichaamslengte. Volgens een van deze methoden, de Hamwi-methode, is het ideale gewicht voor vrouwen te berekenen met de formule:

$$\text{ideaal gewicht in kg} = 45,4 + 0,89 \cdot (\text{lengte in cm} - 152,4)$$

Een andere veel gebruikte vuistregel zegt dat het maximum voor een gezond lichaamsgewicht kan worden berekend met de formule:

$$\text{maximumgewicht in kg} = 0,0025 \cdot (\text{lengte in cm})^2$$

Het verschil tussen het *maximumgewicht* volgens de hierboven genoemde vuistregel en het *ideale gewicht* volgens de Hamwi-methode is niet bij elke lengte hetzelfde.

- 5p **14** □ Bereken de minimale waarde en ook de maximale waarde van dit verschil. Beperk je daarbij tot vrouwen die minstens 155 cm en hoogstens 195 cm lang zijn.

Alcohol

Alle alcoholhoudende dranken bestaan vrijwel uitsluitend uit water en alcohol. De hoeveelheid alcohol in dranken wordt uitgedrukt door een volumepercentage. Dat wil zeggen dat het percentage aangeeft welk deel van het volume uit pure alcohol bestaat. Een liter (= 100 centiliter) bier met een alcoholpercentage van 5% bevat 5 centiliter alcohol en 95 centiliter water. Die 95 centiliter water weegt 950 gram, en die 5 centiliter alcohol weegt 40 gram. Een liter bier weegt dus 990 gram.

De glazen voor verschillende alcoholische dranken zijn zodanig gemaakt, dat er 10 gram alcohol in een glas geschonken kan worden. Bier bevat gemiddeld 5% alcohol, jenever bevat 35% alcohol. Een bierglas is dan ook veel groter dan een jeneverglas.

- 3p 15 Bereken hoeveel centiliter jenever er in een jeneverglas geschonken kan worden.

Alcohol beïnvloedt de rijvaardigheid. De politie houdt regelmatig alcoholcontroles om automobilisten met een te hoog alcoholpromillage in hun bloed te kunnen bestraffen.

Enkele jaren geleden meende Veilig Verkeer Nederland (tegenwoordig heet deze organisatie 3VO) dat er aan de alcoholcontroles nog wel wat verbeterd zou kunnen worden. Zie artikel 1.

artikel 1

VVN: *dronken automobilisten ontspringen te vaak de dans*

HUIZEN • Veilig Verkeer Nederland (VNN) stoort zich aan de manier waarop de politie omspringt met automobilisten die te veel gedronken hebben. Volgens de organisatie wordt 35 procent van de bestuurders die te veel hebben gedronken niet bestraft omdat de controleapparatuur van de politie te ruim staat afgesteld.

...

Met meer dan 0,5 promille alcohol in het bloed is een automobilist wettelijk strafbaar. Volgens VVN staat de apparatuur van de politie al jaren

afgesteld op 0,7 promille waardoor veel bestuurders-in-overtreding niet tegen de lamp lopen.

Een woordvoerder van de politie erkent dat deze marge is ingebouwd om onnauwkeurigheden in de apparatuur te ondervangen. Daarmee wordt voorkomen dat mensen worden vervolgd, terwijl later het wettelijk bewijs niet kan worden geleverd. „Dat is gebeurd op last van Justitie”, zegt hij.

Bij een alcoholcontrole werd 1,45% van de gecontroleerde automobilisten bestraft. Neem aan dat het percentage van 35 in de eerste alinea van het artikel juist is. Als *alle* automobilisten die te veel hadden gedronken, waren bestraft dan zou het percentage niet 1,45 zijn geweest, maar hoger.

- 4p 16 Bereken dat hogere percentage.

In artikel 1 speelt de onnauwkeurigheid van de apparatuur een belangrijke rol: de metingen geven bijna nooit de werkelijke waarde van het promillage alcohol dat in het bloed aanwezig is. Het verschil tussen het gemeten promillage en het werkelijke promillage noemen we de *meetfout*.

We gaan er in deze opgave van uit dat de meetfouten normaal verdeeld zijn, met een gemiddelde van 0 promille. Afwijkingen naar boven en afwijkingen naar beneden zijn dus even waarschijnlijk. Neem aan dat de standaardafwijking van de meetfouten 0,1 promille is.

Een automobilist met 0,48 promille alcohol in het bloed is wettelijk niet strafbaar. Stel dat deze automobilist wordt gecontroleerd. Als de meting meer dan 0,7 promille aangeeft, dan wordt deze automobilist (ten onrechte) bestraft.

- 5p 17 Bereken de kans dat de meetfout zo groot is dat deze automobilist (ten onrechte) wordt bestraft.

Eindexamen wiskunde A1 vwo 2002-II

havovwo.nl

Toen de grens in de apparatuur op 0,7 promille werd gesteld, was de apparatuur nog zo onnauwkeurig dat een ruime marge noodzakelijk was: er zouden anders te veel mensen ten onrechte bestraft worden. Volgens een woordvoerder van 3VO is nauwkeurigheid tegenwoordig geen probleem meer. Kennelijk is de standaardafwijking van de meetfouten bij de huidige apparatuur kleiner geworden.

Neem aan dat de standaardafwijking van de meetfouten tegenwoordig 0,02 promille is. Justitie wil de grens waarop de apparatuur wordt afgesteld zo kiezen dat van de gecontroleerde automobilisten met 0,5 promille alcohol in het bloed slechts 1% (ten onrechte) bestraft wordt.

- 5p **18** Bereken in twee decimalen nauwkeurig boven welk gemeten promillage automobilisten dan bestraft worden.

Eindexamen wiskunde A1 vwo 2002-II

havovwo.nl

Bijlage bij vraag 10

Wiskunde A1 (nieuwe stijl)

Examen VWO 2002

Tijdvak 2
Woensdag 19 juni
13.30 – 16.30 uur

Examnummer

.....

Naam

.....

Vraag 10

