

Opgave 1

uit een krant:

Nederland en de draak

Het Chinese bruto binnenlands product (bbp) is de afgelopen jaren met bijna 10% per jaar gestegen. De belangrijkste motor voor deze groei is de Chinese uitvoer.

China heeft een bbp dat ruim 2,5 keer zo groot is als dat van Nederland.

De economische groei in China heeft onder andere geleid tot een toename van de handel met Nederland.

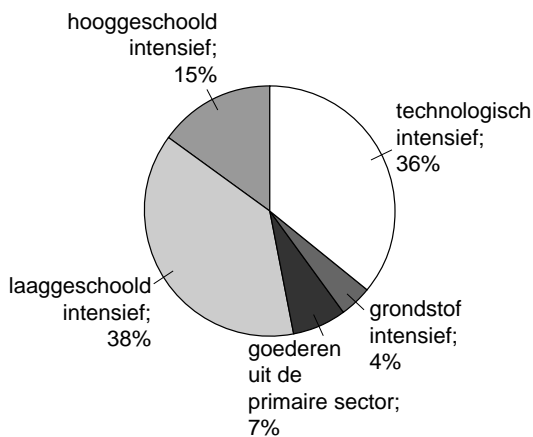
In een studie naar de economische relaties tussen China en Nederland wordt de samenstelling van de Chinese en Nederlandse goederenuitvoer vergeleken.

Daaruit blijkt dat de Chinese goederenuitvoer naar Nederland wat betreft samenstelling te vergelijken is met de totale Chinese goederenuitvoer.

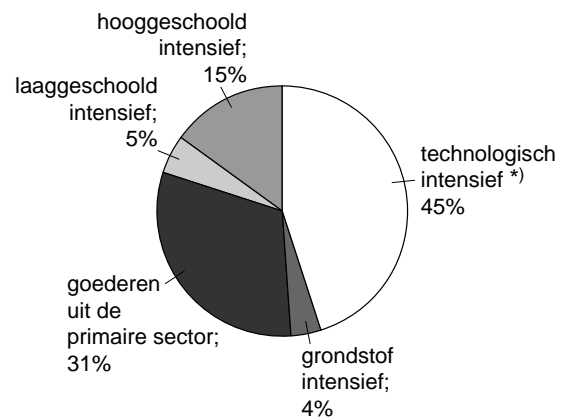
In de studie wordt onderscheid gemaakt tussen goederen uit de primaire sector en goederen uit de secundaire sector. De laatste zijn weer ingedeeld naar de mate waarin van een bepaalde productiefactor gebruikgemaakt wordt.

figuur 1 samenstelling Chinese en Nederlandse goederenuitvoer

China



Nederland



*) het grootste deel hiervan betreft uitvoer van goederen die uit China ingevoerd zijn

Op basis van deze studie komt een econoom tot de volgende twee uitspraken:

- 1 De Chinese goederenuitvoer is niet sterk concurrerend met de Nederlandse goederenuitvoer.
- 2 Ik verwacht desondanks dat de groei van de Chinese industrie kan leiden tot structurele werkloosheid onder laaggeschoolden in Nederland.

2p **1** Geef op basis van figuur 1 een ondersteuning voor uitspraak 1.

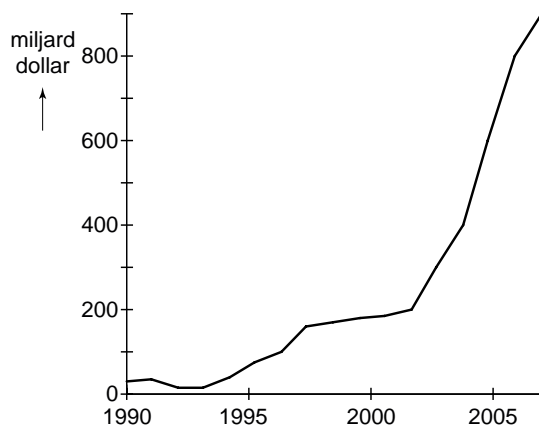
2p **2** Geef een verklaring voor de in uitspraak 2 bedoelde structurele werkloosheid.

Om een (forse) appreciatie van de Chinese munt te voorkomen, hebben de Chinese monetaire autoriteiten in de periode 2000-2005 geïntervenieerd op de valutamarkt. Het doel van de interventie was het handhaven van de sterke economische groei van China.

In figuur 2 en 3 zijn enkele gegevens over de betalingsbalans van China weergegeven.

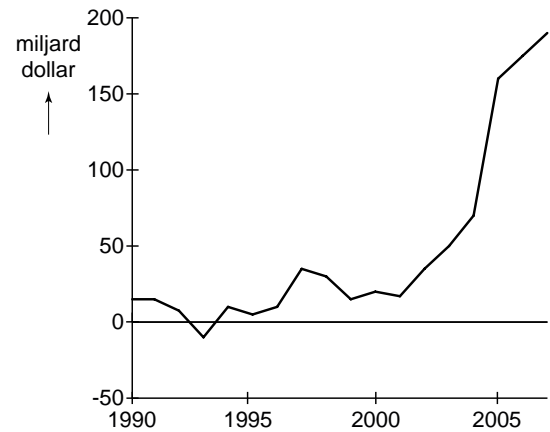
figuur 2

valutareserves centrale bank China



figuur 3

saldo lopende rekening China



- 2p **3** Beschrijf met behulp van figuur 2 op welke manier de Chinese monetaire autoriteiten in de periode 2000-2005 hebben geïntervenieerd op de valutamarkt.
- 2p **4** Hebben de Chinese monetaire autoriteiten het doel van de interventie behaald? Licht het antwoord toe en gebruik hierbij figuur 3.