

Migratie en mobiliteit

Opgave 4 – Binnenlandse migratie

Bestudeer bron 1 die bij deze opgave hoort.

Gebruik bron 1.

Uit de bron valt een verschil op te maken tussen de noord- en de zuidvleugel van de Randstad wat betreft binnenlandse migratiebewegingen.

2p **13** Beschrijf dit verschil.

Geef een economische oorzaak van dit verschil.

Gebruik bron 1.

2p **14** Leg uit waarom de bron ongeschikt is om uitspraken te doen over suburbanisatie in Nederland.

Je uitleg moet een oorzaak-gevolg relatie bevatten.

Om de groei of afname van de bevolking per gemeente te kunnen berekenen heb je niet voldoende aan het binnenlands migratiesaldo per gemeente.

2p **15** Welke andere gegevens heb je nodig?

Migratie en mobiliteit

Opgave 4 – Binnenlandse migratie

bron 1

Binnenlands migratiesaldo naar grootstedelijke agglomeratie (2007)

grootstedelijke agglomeratie	binnenlands migratiesaldo
Groningen	371
Leeuwarden	101
Zwolle	826
Enschede	69
Apeldoorn	-407
Arnhem	433
Nijmegen	-141
Amersfoort	427
Utrecht	2.779
Amsterdam	-440
Haarlem	71
Leiden	-1.043
's-Gravenhage	-1.227
Rotterdam	-2.256
Dordrecht	-450
Breda	164
Tilburg	548
's-Hertogenbosch	221
Eindhoven	-226
Geleen/Sittard	-330
Heerlen	-86
Maastricht	-312

*vrij naar: Centraal Bureau voor de Statistiek, Den Haag/Heerlen,
17 april 2009, <http://statline.cbs.nl/>*

Opgave 5 – Migratie uit Afrika naar de Verenigde Staten

Bestudeer de bronnen 1 tot en met 3 die bij deze opgave horen.

Gebruik bron 1.

Sinds 1970 is het aantal immigranten uit Afrika in de Verenigde Staten sterk toegenomen.

- 1p **16** Met behulp van welk begrip uit de interactietheorie van Ullman kun je deze sterke toename het beste verklaren?

Gebruik bron 2.

In de Verenigde Staten zijn volgens de bron de meeste immigranten uit Afrika afkomstig uit Egypte, Nigeria en Ethiopië.

- 1p **17** Geef hiervoor de demografische oorzaak.

Gebruik bron 3.

Het spreidingspatroon van de immigranten uit Afrika in de Verenigde Staten verschilt van dat van de immigranten uit Mexico.

- 2p **18** Welk verschil in spreidingspatroon is dit?
Wat is de reden van dit verschil?

Gebruik bron 3.

- 2p **19** Welke groep Afrikaanse immigranten uit de bron zal, gezien hun sociaal-culturele achtergrond, de minste aanpassingsproblemen in de Verenigde Staten hebben? Geef een argument voor je keuze.

Gebruik bron 2.

Uit de bron valt op te maken dat er bij de migratie uit Afrika naar de Verenigde Staten sprake is van 'brain drain'. Toch heeft deze emigratie van hooggeschoolden vaak ook positieve effecten voor de Afrikaanse landen.

- 2p **20** Geef twee positieve effecten die deze emigratie naar de Verenigde Staten kan hebben voor Afrikaanse landen.

Opgave 5 – Migratie uit Afrika naar de Verenigde Staten

bron 1

Aantal ingezetenen van de VS (buiten de VS geboren en in Afrika geboren), 1960 tot 2007

Jaar	Aantal buiten de VS geboren	Waarvan in Afrika geboren	Afrikaans aandeel in het totaal aantal buiten de VS geboren
1960	9.738.091	35.355	0,4%
1970	9.619.302	80.143	0,8%
1980	14.079.906	199.723	1,4%
1990	19.797.316	363.819	1,8%
2000	31.107.889	881.300	2,8%
2007	38.059.555	1.419.317	3,7%

vrij naar: www.migrationinformation.org

bron 2

Voor na 1970 is er in de Verenigde Staten sprake geweest van een sterke toename van het aantal immigranten uit Afrika. Onder hen waren meer mannen dan vrouwen en ongeveer 40 procent had een middelbare of hogere opleiding genoten. De meeste van de in Afrika geboren immigranten zijn afkomstig uit Egypte, Ethiopië en Nigeria.

Sinds het jaar 2000 zijn ongeveer 500.000 in Afrika geboren immigranten in het bezit gekomen van een permanente verblijfsvergunning voor de Verenigde Staten.

Wat betreft de vestigingsgebieden in de Verenigde Staten: ongeveer de helft van de immigranten uit Afrika heeft zich gevestigd in de staten New York, California, Texas, Maryland, Virginia, New Jersey en Massachusetts.

vrij naar: www.migrationinformation.org

bron 3

De vijf belangrijkste staten van vestiging in de VS van migranten geboren in Mexico, Egypte, Ethiopië en Nigeria, in % van het totaal aantal immigranten uit die landen in 2007

Mexico		Egypte		Ethiopië		Nigeria	
California	42,8%	California	22,2%	California	17,0%	Texas	15,5%
Texas	20,5%	New Jersey	17,7%	Virginia	11,3%	New York	14,0%
Illinois	6,7%	New York	17,6%	Maryland	9,1%	Maryland	11,2%
Arizona	4,8%	Florida	5,1%	Texas	8,2%	California	10,3%
Georgia	2,1%	Virginia	4,0%	Georgia	6,7%	Georgia	6,5%

vrij naar: www.migrationinformation.org

Opgave 6 – Mobiliteit en pendel

Bestudeer de bronnen 1 tot en met 3 die bij deze opgave horen.

Gebruik bron 1.

De bron geeft de per openbaar vervoer afgelegde afstand in kilometers per persoon per gebied weer.

- 1p **21** Welke conclusie kun je uit het **kaartbeeld** trekken?

Gebruik de bronnen 1 en 2.

Beide bronnen laten een opmerkelijke tweedeling in het gebruik van vervoermiddelen in Flevoland zien.

- 2p **22** Beredeneer hoe deze tweedeling is ontstaan. Ga in je redenering uit van het verschil tussen de gemeenten Almere en Lelystad enerzijds en de gemeenten Zeewolde en Dronten anderzijds.

Gebruik bron 3.

- 3p **23** Welk twee verbanden kun je constateren tussen opleidingsniveau en pendel in de bronnen 3a tot en met 3d.

Waardoor worden deze verbanden veroorzaakt?

Gebruik bron 3.

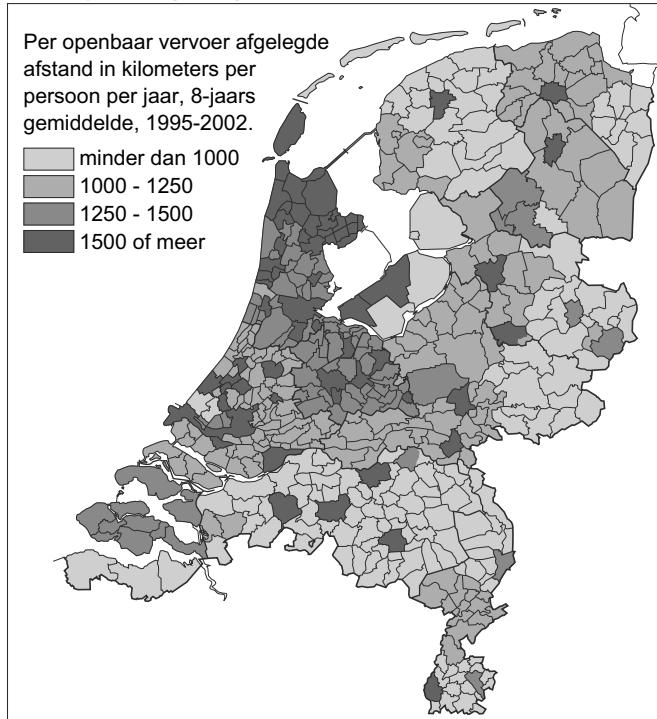
Vergelijk de kaartjes a en b van deze bron.

- 2p **24** Beredeneer waardoor het verschil in forensgedrag van laagopgeleiden ontstaat.

Opgave 6 – Mobiliteit en pendel

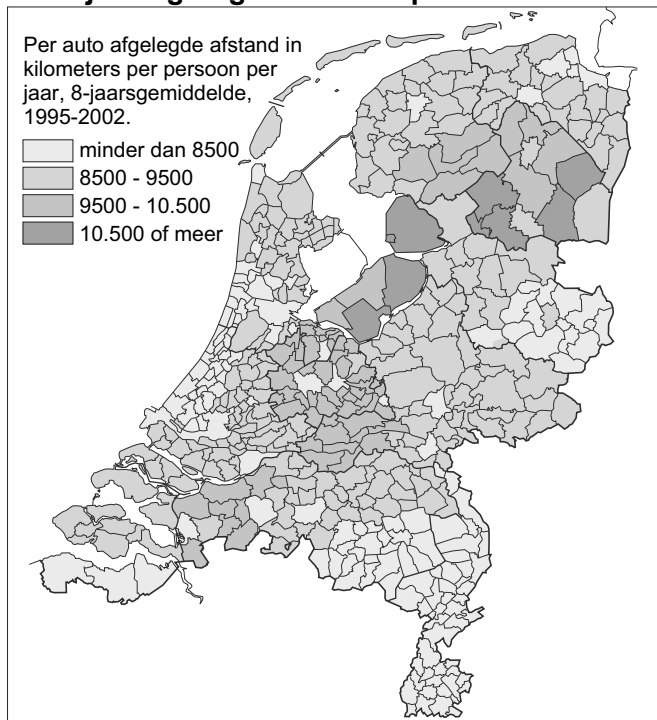
bron 1

Jaarlijks afgelegde afstand per openbaar vervoer



bron 2

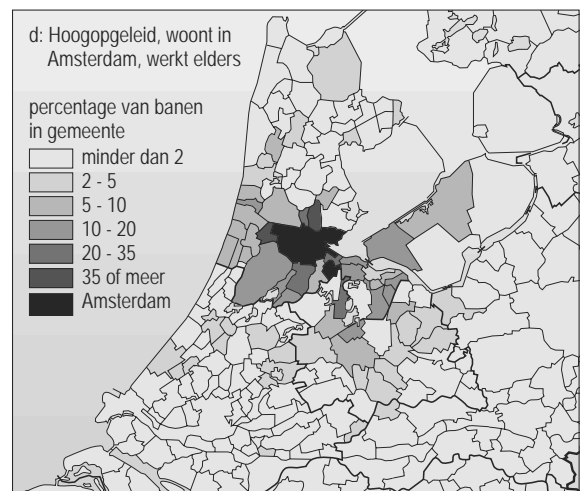

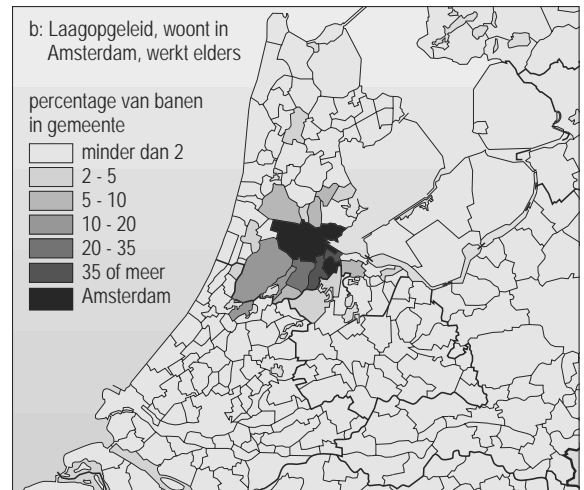

Jaarlijks afgelegde afstand per auto



bron 1 en 2: Bosatlas van Nederland, 2007

bron 3

Forenzenstad Amsterdam



bron: *Bosatlas van Nederland, 2007*