
Zuidoost-Azië

Opgave 6 – Rondom de Zuid-Chinese Zee

Bestudeer de bronnen 1 en 2 die bij deze opgave horen.

Gebruik de atlas.

In de Zuid-Chinese Zee overheerst in een deel van het jaar een koude stroming en in een ander deel van het jaar een warme stroming.

- 1p **22** Geef aan waardoor deze wisselende stromingen ontstaan.

Gebruik bron 1.

De olie- en gasreserves in de Zuid-Chinese Zee zijn, net als in andere zeeën en oceanen, te vinden in ondiepe kustgebieden.

- 3p **23** Geef
- het begrip waarmee deze ondiepe kustgebieden waarin olie- en gasreserves te vinden zijn, worden aangeduid;
 - een beschrijving van de wijze waarop olie en gas in deze ondiepe kustgebieden zijn gevormd.

Gebruik bron 2 en de atlaskaarten van Zuidoost-Azië.

China claimt een groot deel van de Zuid-Chinese Zee, omdat deze zee in het verleden al veel door Chinezen werd bevaren. De ASEAN verzet zich nauwelijks tegen de Chinese claim.

- 3p **24** Geef
- de atlaskaart waaruit je kunt afleiden dat de Zuid-Chinese Zee in het verleden al veel door Chinezen is bevaren;
 - een reden vanuit de politieke dimensie waarom de ASEAN zich nauwelijks verzet tegen de Chinese claim;
 - een reden vanuit de economische dimensie waarom de ASEAN zich nauwelijks verzet tegen de Chinese claim.

Het conflict over de Zuid-Chinese Zee kan niet alleen worden beschouwd als een regionaal conflict tussen China en de ASEAN, maar ook als een mondiaal conflict tussen hegemoniale staten.

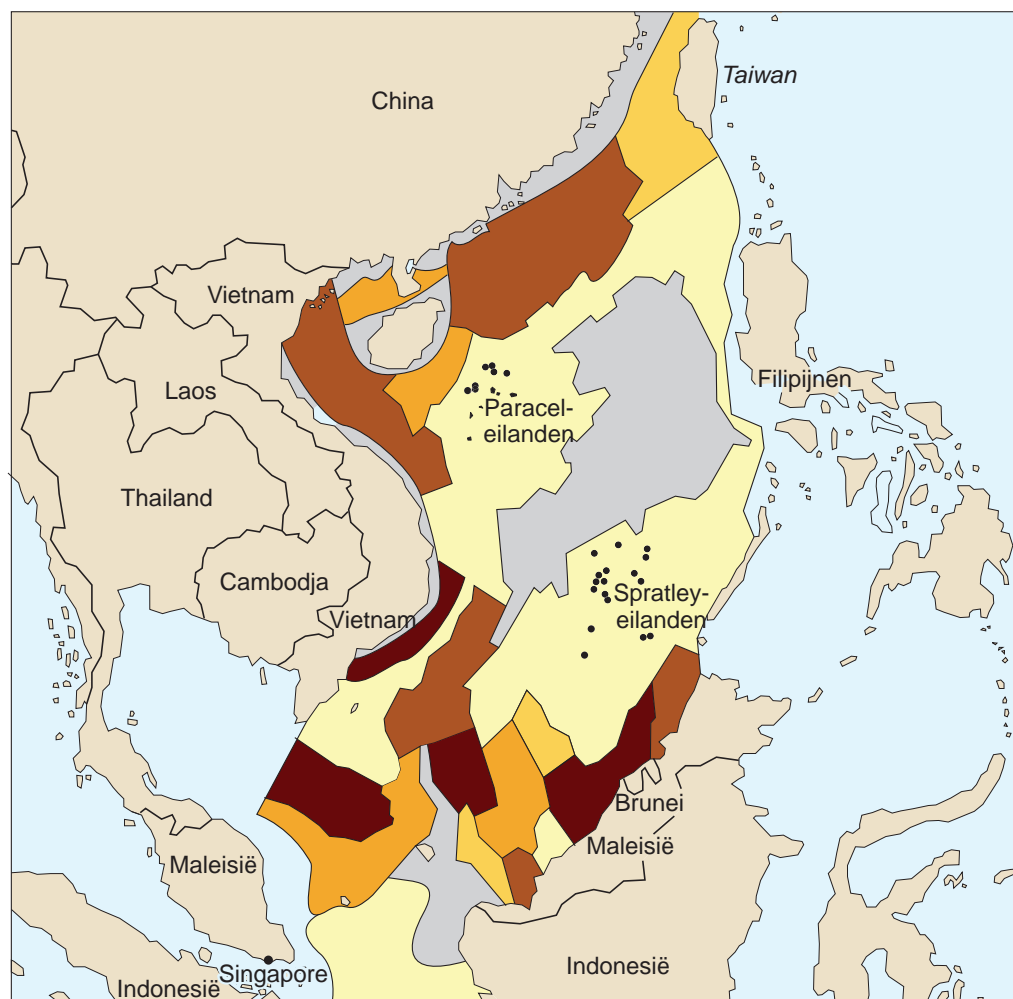
- 2p **25** Beredeneer dat het conflict over de Zuid-Chinese Zee ook als een mondiaal conflict tussen hegemoniale staten kan worden gezien.

Zuidoost-Azië

Opgave 6 – Rondom de Zuid-Chinese Zee







bron 1

Olie- en gasreserves in de Zuid-Chinese Zee



Legenda:

olie- en gasreserves (in miljoenen vaten olie)

| | | | | | |
|---|----------------|---|-------------|---|--------------|
|  | 2.500 - 10.000 |  | 100 - 1.000 |  | minder dan 1 |
|  | 1.000 - 2.500 |  | 1 - 100 |  | onbekend |

bron 2

China claimt de Zuid-Chinese Zee

Het VN-zeerechtverdrag is een verdrag van de Verenigde Naties waarin staat beschreven dat een aan zee grenzende staat tot 200 zeemijlen uit de kust het recht heeft om de natuurlijke hulpbronnen te exploiteren. Dit is de Exclusief Economische Zone (EEZ). Als de afstand tot een buurland minder dan 200 zeemijlen is, wordt de zee in twee gelijke stukken verdeeld.

China heeft het verdrag uit 1994 ondertekend. Door aanspraak te maken op de Spratley-eilanden en de Paracel-eilanden claimt China nu een groot deel van de Zuid-Chinese Zee, tot ver in de EEZ van landen als de Filipijnen, Maleisië, Brunei, Indonesië en Vietnam.

EEZ's en de claim van China in de Zuid-Chinese Zee

Legenda:

— door China geclaimd

— grenzen EEZ's volgens
VN-zeerechtverdrag

0 300 600 km

● betwiste eilanden