

Zuid-Oost-Azië

Opgave 6 – Klimaten in Zuid-Oost-Azië

Bestudeer bron 1 die bij deze opgave hoort.

Gebruik bron 1.

De klimaatdiagrammen van de bron behoren, in alfabetische volgorde, bij de steden Hanoi, Ho Chi Minhstad, Kota Bharu en Kuala Lumpur.

- 3p **18** Schrijf de cijfers 1 tot en met 4 op je antwoordblad.
Noteer achter elk cijfer de naam van de bijbehorende stad.

Gebruik kaart 196 (52e druk: 182).

Zuid-Oost-Azië kent twee soorten tropisch regenklimaat, net zoals Afrika en Zuid-Amerika.

- 2p **19** Beschrijf het spreidingspatroon van beide klimaatsoorten in Zuid-Oost-Azië.
Geef een oorzaak voor het verschil in neerslag tussen beide klimaatsoorten.

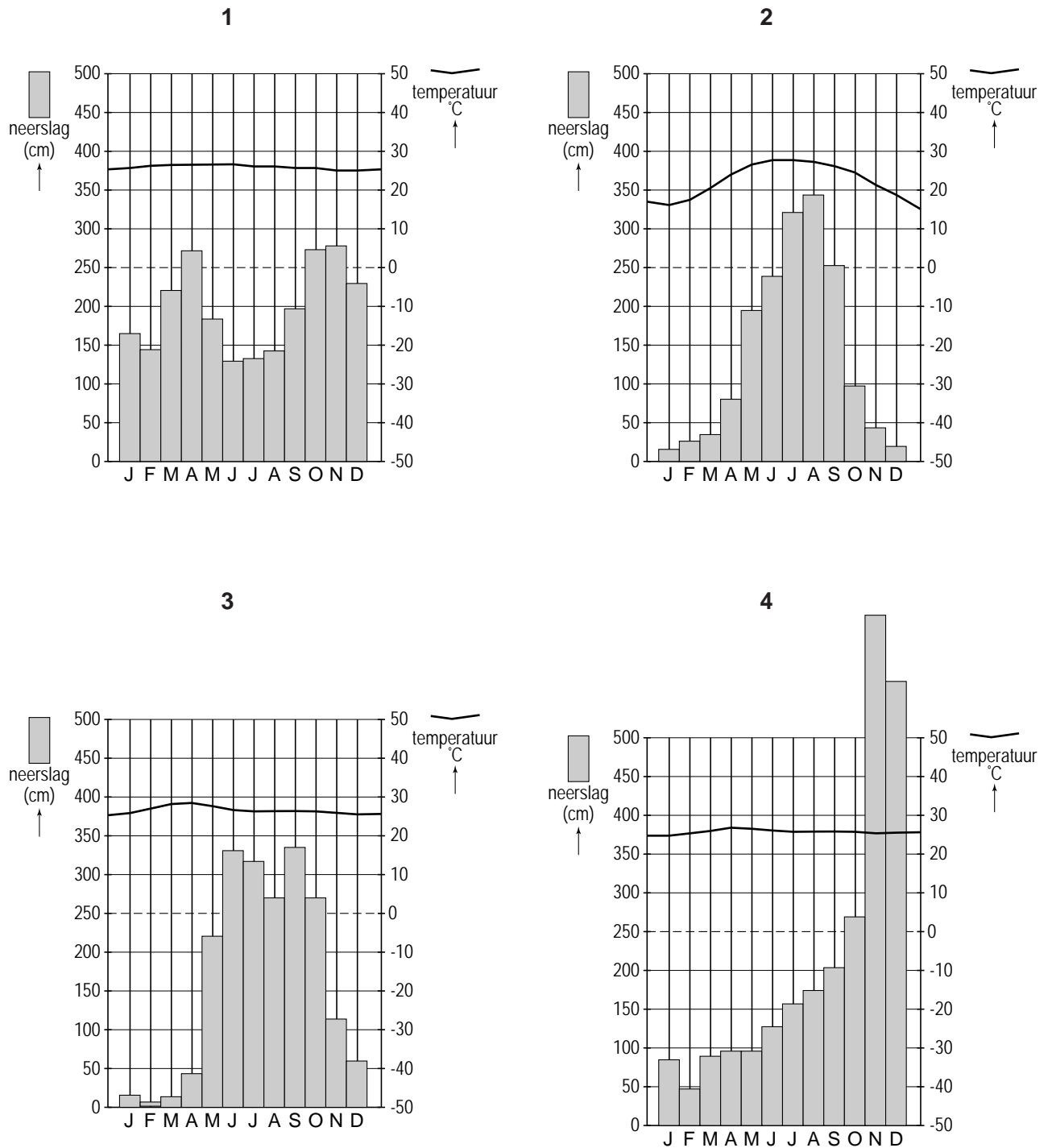
Mede dankzij de grote hoeveelheden neerslag is het in grote delen van Zuid-Oost-Azië mogelijk twee en soms zelfs drie keer per jaar te oogsten. Die overvloedige neerslag heeft echter ook nadelen.

- 2p **20** Geef, afgezien van de kans op overstromingen, nog twee nadelen van deze overvloedige neerslag voor de landbouw in Zuid-Oost-Azië.

Zuid-Oost-Azië

Opgave 6 – Klimaten in Zuid-Oost-Azië

bron 1: Klimaatdiagrammen van vier steden in Zuid-Oost-Azië



vrij naar: <http://climatediagrams.com/climate.php>

Opgave 7 – Politieke en economische ontwikkelingen in de ASEAN

Bestudeer de bronnen 1 en 2 die bij deze opgave horen.

In de twintigste eeuw is het regionale beeld van Zuid-Oost-Azië in het westen nogal veranderd. In een aantal perioden bestond er steeds een ander beeld van Zuid-Oost-Azië. De jaartallen van de perioden verschillen per land.

Voor Vietnam gelden de volgende perioden:

- a de periode tot 1954;
- b de periode van 1954 tot 1986;
- c de periode na 1986.

In periode b bestond het beeld van Vietnam als politiek conflictgebied.

- 4p **21** Schrijf de letters a en c van de perioden op je antwoordblad.

Noteer achter elke letter

- het beeld van Vietnam dat in die periode in het westen bestond / bestaat;
- welke positie Vietnam in die periode in het wereldsysteem innam / inneemt.

Gebruik bron 2.

De bron geeft een aanwijzing voor het bestaan van een triade in de wereldhandel.

- 1p **22** Welke aanwijzing is dit?

Gebruik bron 1.

De komende jaren zullen er wat betreft de buitenlandse investeringen in Zuid-Oost-Azië veranderingen optreden. Het aandeel van investerende (groepen van) landen zal veranderen.

- 1p **23** Geef een voorbeeld van zo'n verandering.

Gebruik bron 2.

De bron toont onder andere de handelsbalansen van de ASEAN-landen met een aantal andere landen/gebieden.

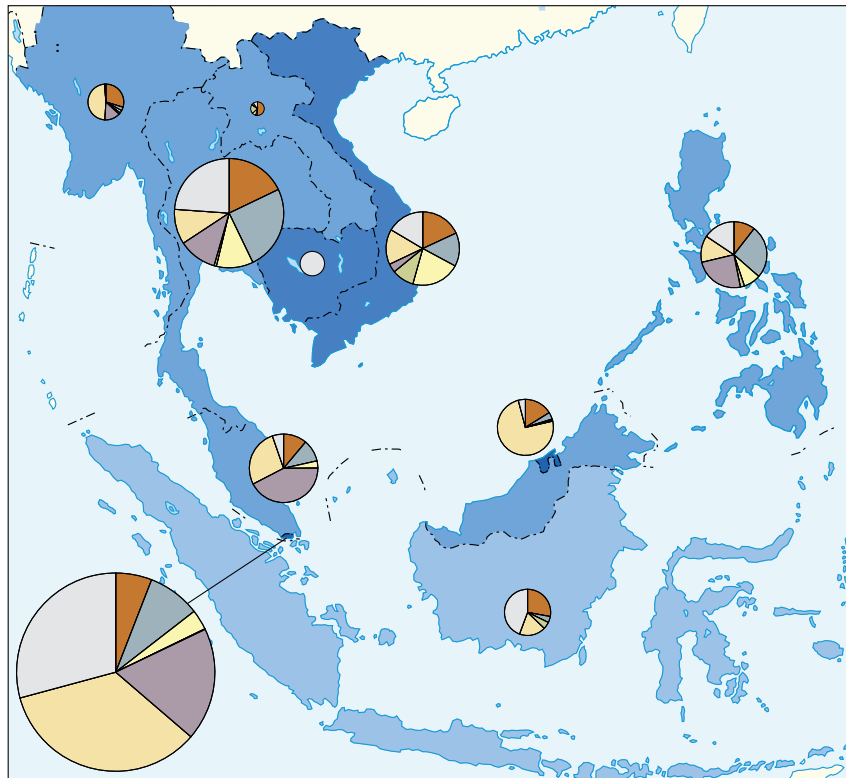
- 3p **24** In welk opzicht verschillen de handelsbalansen van de ASEAN-landen met die van de Verenigde Staten en de Europese Unie enerzijds en met die van de andere landen anderzijds?

Beredeneer waardoor dit verschil in de tweede helft van de twintigste eeuw is ontstaan.

Opgave 7 – Politieke en economische ontwikkelingen in de ASEAN

bron 1

Buitenlandse investeringen in Zuid-Oost-Azië (1995-2003)

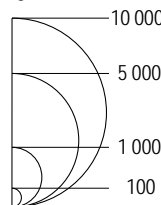


Legenda:

buitenlandse investeringen in % van het Bruto Nationaal Product (gemiddelde 1995-2003)

- minder dan 1
- 1 - 5
- 5 - 10
- 10 of meer

buitenlandse investeringen in mln euro's (gemiddelde 1995-2003)



investerende landen/regio's

- ASEAN
- Japan
- China, Taiwan, Hongkong
- Zuid-Korea
- Verenigde Staten
- Europese Unie
- Overige landen

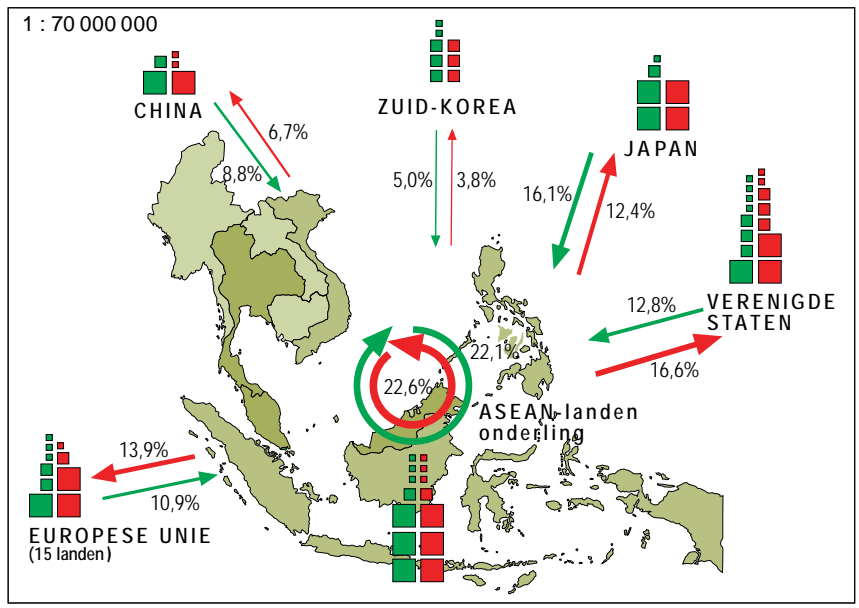
0 350 700 km

Van de investerende landen/regio's in Cambodja zijn geen gegevens bekend.

bron: *De Grote Bosatlas*, 53e druk, kaart 149A

bron 2

Buitenlandse en onderlinge handel van de ASEAN-landen (2003)



Legenda:

aandeel aan totaal ASEAN-handelsvolume in %, per land (2003)

- minder dan 3
- 3 - 15
- 15 - 30
- 30 of meer

handelswaarde in euro's

Import	Export
1 mrd	1 mrd
5 mrd	5 mrd
25 mrd	25 mrd

aandeel aan ASEAN-handelsvolume in %, per handelspartner (2003)

- ← Import
- Export

bron: De Grote Bosatlas, 53e druk, kaart 149B