

## Migratie en mobiliteit

---

### Opgave 4 – Migratie per gemeente

---

*Gebruik de bronnen 6 en 7 van het bronnenboekje.*

Vergelijk de bronnen 6 en 7 met elkaar.

Tussen deze twee kaartjes is er overeenkomst wat betreft de vestigings- en vertrekcijfers op nationale schaal.

1p **12** Welke overeenkomst is dat?

Zowel de Randstad als Noord-Nederland laten hoge vertrekcijfers zien. De belangrijkste pushfactor bij de Randstad is echter een geheel andere dan die bij Noord-Nederland.

2p **13** Schrijf onder elkaar op je antwoordblad de namen Randstad en Noord-Nederland en zet daar de voor die regio belangrijkste pushfactor achter.

De Waddeneilanden hebben, met uitzondering van Texel, hoge vertrekcijfers. Vooral jongeren tot ongeveer 25 jaar verlaten deze eilanden.

2p **14** Beredeneer met gebruikmaking van het begrip 'drempelwaarde' waarom veel jongeren de Waddeneilanden verlaten.

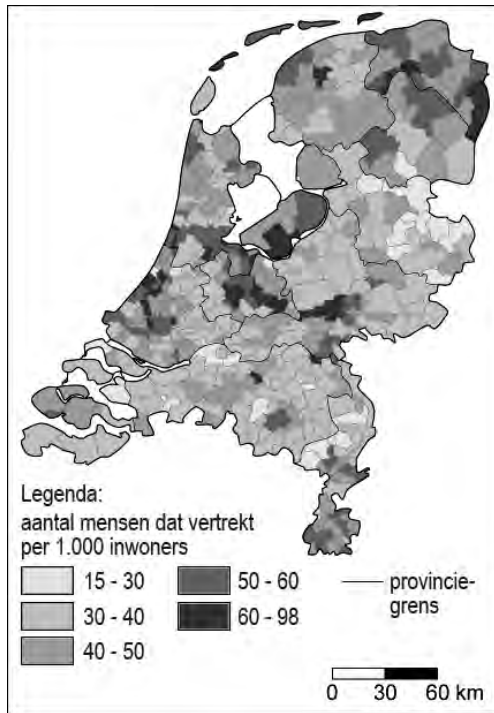
Uit bron 7 valt op te maken dat het vestigingscijfer van de gemeenten in het met de letter A aangegeven gebied afwijkt van dat van de meeste omliggende gemeenten.

2p **15** Beredeneer waarom dit vestigingscijfer afwijkt van dat van de meeste omliggende gemeenten.

### Opgave 4 – Migratie per gemeente

bron 6

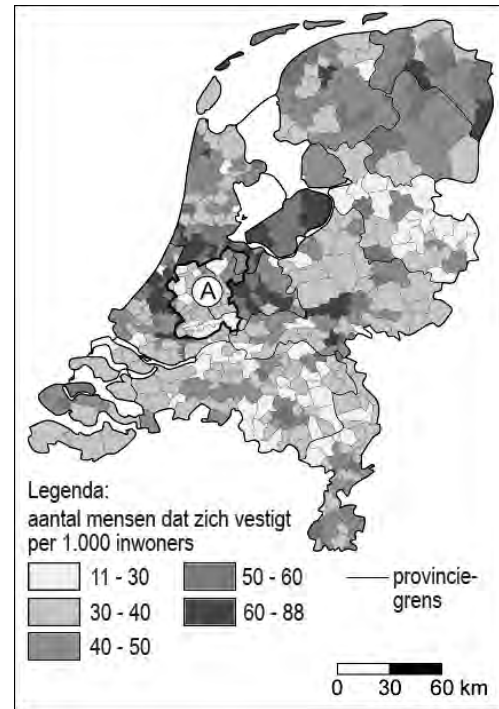
**Vertrekcijfers 2002-2006  
per gemeente**



vrij naar: [www.zorgatlas.nl](http://www.zorgatlas.nl)

bron 7

**Vestigingscijfers 2002-2006  
per gemeente**



vrij naar: [www.zorgatlas.nl](http://www.zorgatlas.nl)

## Opgave 5 – Vluchtelingen in kaart

---

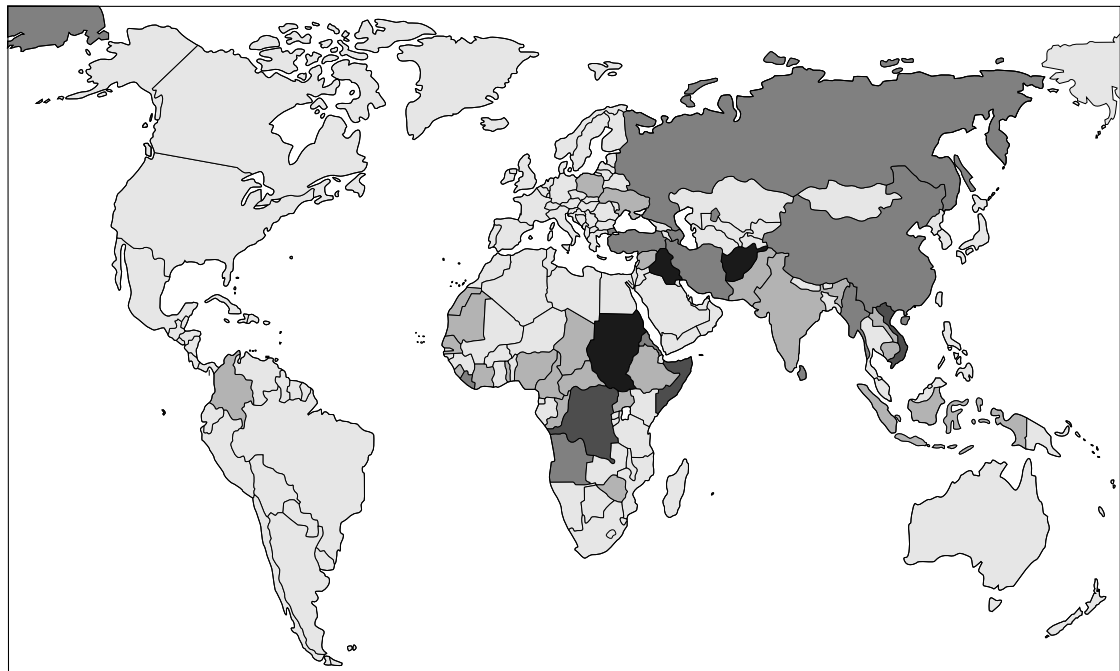
*Gebruik de bronnen 8 en 9 van het bronnenboekje.*

- In Tanzania bevinden zich veel meer vluchtelingen uit de Democratische Republiek Kongo dan in Burundi en Rwanda.
- 1p **16** Geef met behulp van een kaart uit de atlas een oorzaak waardoor Burundi en Rwanda geen tussenliggende mogelijkheid zijn voor vluchtelingen uit de Democratische Republiek Kongo.
- Hulporganisaties hebben een voorkeur voor opvang van vluchtelingen in de buurlanden.
- 2p **17** Geef twee argumenten vóór opvang in de buurlanden.
- 2p **18** Geef twee argumenten tégen opvang in de buurlanden.
- Duitsland en de VS hebben allebei veel vluchtelingen opgenomen. Toch heeft Duitsland bijna twee keer zo veel vluchtelingen als de VS.
- 2p **19** Geef met gebruikmaking van een begrip uit de interactietheorie van Ullman een mogelijke verklaring voor dit verschil tussen beide landen.  
*Je verklaring moet een situatiebeschrijving en een algemene regel bevatten.*

## Opgave 5 – Vluchtelingen in kaart

bron 8

### Herkomst van vluchtelingen



Legenda:

aantal vluchtelingen

<10.000

100.000-250.000

>500.000

10.000-100.000

250.000-500.000

vrij naar: <http://www.unhcr.org/statistics>

bron 9

### Belangrijkste landen van bestemming van vluchtelingen (eind 2005, in miljoenen)

Pakistan	1,1
Iran	1,0
Duitsland	0,7
Tanzania	0,5
Verenigde Staten	0,4

vrij naar: <http://www.unhcr.org/publ>

## Opgave 6 – Vrijetijds mobiliteit

---


*Gebruik de bronnen 10 tot en met 12 van het bronnenboekje.*

- 2p **20** Leg uit waardoor het verschil in bezettingsgraad, zoals getoond in beide cirkeldiagrammen van bron 10 wordt veroorzaakt.  
*Je uitleg moet een oorzaak en een gevolg daarvan bevatten.*
- 1p **21** Mag je uit bron 11 de conclusie trekken dat mensen uit stedelijke gebieden bij hun dagtochten meer binnen het gebied van herkomst blijven dan de bewoners van het platteland?  
Beargumenteer je antwoord.
- Volgens bron 12 is procentueel gezien het aantal persoonsverplaatsingen in de vrije tijd met het openbaar vervoer het hoogst bij de categorie "cultuur".
- 2p **22** Geef hiervoor een passende redenering.

**Opgave 6 – Vrijtijds mobiliteit**

**bron 10**

**Bezettingsgraad totaal aantal autoverplaatsingen (links) en autoverplaatsingen in de vrije tijd (rechts), 2004 (in procenten)**



vrij naar: *Op weg in de vrije tijd, Sociaal en Cultureel Planbureau, april 2006*

**bron 11**

**Typen dagtochten waarvoor men langer dan 2 uur van huis is, naar herkomst en bestemming, 2002 (in procenten)**

	herkomst: stedelijk gebied		herkomst: platteland	
	stedelijke bestemming	plattelandsbestemming	stedelijke bestemming	plattelandsbestemming
alle dagtochten	82	18	40	60
recreatie in buitenlucht	68	32	15	85
wandelen, fietsen	66	32	25	75
toeschouwer sport	83	17	37	63
recreatief winkelen	90	10	69	31
evenementen	87	13	30	70
attracties	77	23	37	63
uitgaan (horeca)	89	11	31	69
erfgoed	82	18	60	40
podiumkunsten	94	6	53	47
film	97	3	83	17

vrij naar: *Op weg in de vrije tijd, Sociaal en Cultureel Planbureau, april 2006*

**bron 12**

**Aantallen persoonsverplaatsingen naar vervoerwijzen, 2004 (in absolute aantallen en procenten)**

	<b>totaal × miljoen</b>	<b>per auto %</b>	<b>per ov %</b>	<b>per fiets %</b>	<b>lopend %</b>
totaal	17.370	49	5	26	18
vrije tijd	6.613	51	3	22	23
sociale contacten	2.580	62	4	20	13
recreatie	1.320	21	1	17	58
sport	820	54	1	35	9
horeca	316	50	6	21	21
cultuur	103	59	11	18	10
overig	1.474	54	4	22	17
van/naar werk	2.919	58	9	26	4
winkelen	3.735	49	3	28	20

*vrij naar: Op weg in de vrije tijd, Sociaal en Cultureel Planbureau, april 2006*