

## Opgave 1

### De kunst van verzekeren

uit een krant:

Een onderzoeksrapport naar de veiligheid bij Nederlanders thuis laat zien dat één op de zes Nederlandse huishoudens in de afgelopen tien jaar wel eens slachtoffer is geweest van inbraak in huis. Dat komt neer op 1.190.000 huishoudens met een gemiddelde schade van ruim 2.500 euro. Inbraak zorgt, naast financiële schade, vaak ook voor grote emotionele schade. Gelukkig neemt de laatste jaren het aantal inbraken en pogingen tot inbraak af.

Els van Stratum woont in een appartement in Tilburg. Zij bezit een waardevolle collectie gouden beelden, die op 1 oktober 2008 door een taxateur gewaardeerd is op € 150.000. Els informeert bij verzekeringsmaatschappij VEA over de mogelijkheden om op haar inboedelverzekering een aanvulling te nemen voor deze kunstcollectie.

Op het aanvraagformulier moet Els de waarde van de kunstcollectie aangeven. Daarnaast moet ze allerlei aanvullende informatie opgeven, zoals gezinssamenstelling, postcode, huisdieren en type woning.

Op 1 januari 2009 verzekert Els haar kunstcollectie. De verzekerde waarde wordt vastgesteld op basis van de taxatie van oktober 2008.

Het gevaar van averechtse selectie probeert VEA tegen te gaan door risicoselectie toe te passen.

- 1p 1 Citeer uit de bovenstaande tekst de zin waaruit je zou kunnen afleiden dat VEA risicoselectie toepast.

*Gebruik bron 1 en bron 2.*

- 2p 2 Leg uit dat een onderdeel van de risicoselectie die VEA toepast niet in overeenstemming is met de conclusies uit het onderzoeksrapport.

*Gebruik bron 1 en maak in het antwoord gebruik van paragraaf 2 en paragraaf 3.*

- 2p 3 Noem twee manieren waarop VEA probeert moreel wangedrag te voorkomen en leg elke manier kort uit.

*Gebruik bron 1.*

- 2p 4 Bereken het bedrag dat Els in het eerste verzekeringsjaar voor deze aanvullende verzekering moet betalen.

Tussen oktober 2008 en juni 2009 zijn de goudprijzen fors gestegen, waardoor de beeldencollectie van Els intussen een waarde vertegenwoordigt van € 200.000. Bij VEA bestaat elk kwartaal de mogelijkheid de verzekerde waarde te laten herberekenen en indien nodig te laten aanpassen. Els heeft daarvan geen gebruik gemaakt.

Op zaterdag 13 juni 2009 wordt er in het appartement van Els ingebroken en een deel van haar beeldencollectie gestolen. Els doet bij de politie aangifte van de diefstal. De waarde van de gestolen beelden wordt geschat op € 70.000.

*Gebruik bron 1.*

- 2p **5** Bereken de schade-uitkering die VEA zal uitbetalen.

Els stelt achteraf vast dat ze er goed aan heeft gedaan om een aanvullende verzekering af te sluiten voor haar kunstcollectie. In het algemeen twijfelen veel mensen over het nut van het afsluiten van een extra verzekering voor kostbare zaken als kunst en antiek. Weegt het risico op tegen de kosten van de verzekering?

*Gebruik bron 1 en bron 2.*

- 3p **6** Beantwoord deze afwegingsvraag tussen baten en kosten van een kunstverzekering, zoals Els die afsloot. Motiveer het antwoord met onderdelen van het krantenbericht, bron 1 en bron 2.

*Aanwijzingen*

- *Geef in maximaal 50 woorden jouw standpunt weer.*
- *Concretiseer het antwoord met elementen uit het voorval van Els.*

## Opgave 1

### bron 1 uit de folder van de VEA kunstverzekering

#### paragraaf 1: kunstverzekering

De VEA kunstverzekering sluit u af wanneer u uw waardevolle collectie schilderijen, beeldhouwwerken en andere kunstobjecten wilt verzekeren. De verzekering is een aanvulling op de inboedelverzekering en geldt alleen voor particulier gebruik.

#### paragraaf 2: wat dekt de verzekering niet?

De kunstverzekering dekt schade in veel gevallen. Niet alle schade is verzekerd:

- Bij onvoldoende zorg volgt geen uitkering. Bijvoorbeeld bij diefstal van een verzekerd voorwerp dat zonder toezicht wordt achtergelaten, anders dan in een deugdelijk afgesloten ruimte.
- Bij diefstal uit een vervoermiddel volgt geen uitkering, tenzij u kunt aantonen dat u de nodige voorzorgsmaatregelen heeft getroffen.
- Beschadiging door onnodig contact met de kunstwerken, zoals krassen, barsten en deuken is niet verzekerd.
- Bij onderverzekering wordt in de bepaling van de uitkering rekening gehouden met de verhouding van de verzekerde waarde ten opzichte van de werkelijke waarde.

#### paragraaf 3: wat kost de verzekering?

berekening jaarpremie <sup>1)</sup>		overzicht eigen risico	
premie	1,85% van de verzekerde waarde	<b>regio 1</b>	Groningen, Friesland, Drenthe, Overijssel, NO-polder, Achterhoek, Kop van Noord-Holland, Texel, Zeeland, Zuid-Hollandse eilanden
poliskosten	€ 15 (eenmalig)	<b>regio 2</b>	Rest van Nederland, voor zover niet vallend in regio 1, 3, 4 of 5
assurantiebelasting <sup>2)</sup>	7%	<b>regio 3</b>	Amsterdam, Utrecht, Rotterdam, Den Haag
<sup>1)</sup> premievervaldatum 1 januari		<b>regio 4</b>	Deventer, Hengelo, Enschede, Almelo, Groningen, Leeuwarden, Maastricht
<sup>2)</sup> assurantiebelasting wordt berekend over het totaal van premie en poliskosten			
		<b>regio 5</b>	Breda, Tilburg, Den Bosch, Eindhoven, Heerlen, Nijmegen, Kerkrade
<b>premieopslag</b> Voor vrijstaande woningen geldt een premieopslag van 10%.		<b>eigen risico</b> Voor de in regio 3 en 5 genoemde steden geldt een eigen risico van € 650 bij diefstal- of inbraakschade. Dit eigen risico is gebaseerd op een hoger diefstal- of inbraakrisico in deze regio's. Voor de overige regio's kent onze kunstverzekering geen eigen risico.	

## bron 2 uit het onderzoeksrapport

### **Kans op inbraak bij alle woningtypen even hoog**

Opvallend is dat een inbreker geen voorkeur heeft voor een bepaald type woning. Alhoewel men er vaak van uitgaat dat er meer wordt ingebroken in een vrijstaande woning dan bijvoorbeeld in een etagewoning, blijken de verschillen niet groot te zijn (kans op inbraak: 19% vrijstaande woning / 2 onder 1 kap / hoekhuis; 16% rijtjeshuis; 15% etagewoning). Bewoners van duurdere woningen zijn banger voor inbraken dan bewoners van goedkopere woningen en hebben doorgaans hun huis beter beveiligd. Een gelegenheidsdief (meerderheid van de inbraken) zal door deze extra maatregelen worden afgeschrikt en zoekt zijn heil ergens anders.

### **Meer dan 100.000 huishoudens hebben deuren 's nachts niet op slot**

Ruim 90% van alle Nederlandse huishoudens neemt maatregelen om inbraak te voorkomen; toch blijken deze maatregelen niet altijd voldoende. De grootste uitgave aan veiligheidsmaatregelen gaat naar sloten op buitendeuren en buitenverlichting. 12% van de huishoudens heeft daarbij ook een alarminstallatie en 19% het Politie Keurmerk Veilig Wonen. Een kleine 10% doet weinig tot niets aan beveiliging van de woning. Soms gaan zelfs de deuren 's nachts niet op slot.

## Opgave 2

---

### Naar een toekomst die werkt

De Nederlandse bevolking vergrijst. Dit kan leiden tot een aanbodtekort op de arbeidsmarkt waardoor de economische groei stagneert. Vandaar dat de minister van Sociale Zaken en Werkgelegenheid onderzoek heeft laten doen naar maatregelen die genomen moeten worden om de werking van de Nederlandse arbeidsmarkt te verbeteren en de deelname aan betaalde arbeid te verhogen. Het resultaat van dit onderzoek staat in het rapport 'Naar een toekomst die werkt'. In dit rapport wordt de potentiële beroepsbevolking gevormd door alle inwoners van Nederland in de leeftijdsgroep 20 tot 65 jaar.

Uit dit rapport komen de twee tekstfragmenten van bron 3 die de ontwikkelingen van de vraag naar arbeid en het aanbod van arbeid in Nederland voorspellen.

*Gebruik bron 3.*

- 2p 7 In welk van beide tekstfragmenten, A of B, wordt een voorspelling gedaan over de ontwikkeling van de vraag naar arbeid? Verklaar het antwoord.

Onderstaande tekst is een selectie van conclusies uit dit rapport.

- 2p 8 Maak van deze tekst een juiste economische redenering.  
"Door vergrijzing neemt de potentiële beroepsbevolking ... (1) ..., waardoor de arbeidsmarkt zal verkrappen. Daardoor zal de sociale premiedruk voor de werkzame beroepsbevolking stijgen, want de AOW-uitkeringen worden grotendeels gefinancierd via het ... (2) .... Een hogere premiedruk kan leiden tot hogere looneisen. Dit kan voor de Nederlandse bedrijven aanleiding zijn om de verkoopprijzen te ... (3) ..., waardoor de internationale concurrentiepositie ... (4) .... Dit heeft tot gevolg dat de Nederlandse ... (5) ... afneemt, waardoor de economische groei stagneert."

Kies uit:

- bij (1) af / toe
- bij (2) kapitaaldekkingstelsel / omslagstelsel
- bij (3) verhogen / verlagen
- bij (4) verbetert / verslechtert
- bij (5) export / import

Een leraar economie bespreekt in zijn klas de conclusies van dit rapport en toont daarbij bron 4. Uit bron 4 blijkt dat in Nederland 73% van de potentiële beroepsbevolking deelneemt aan de arbeidsmarkt: dit noemen we de participatiegraad.

Vervolgens bespreekt de leraar met de leerlingen mogelijke maatregelen om de participatiegraad van ouderen te verhogen. Enkele suggesties van leerlingen.

- Simon: “Verhoog de pensioenleeftijd van 65 naar 67.”
- Edith: “Stimuleer dat ouderen tussen 55 en 65 jaar meer in deeltijd gaan werken.”

*Combineer bron 3 en bron 4.*

2p **9** Laat met een berekening zien dat naar verwachting de participatiegraad in Nederland in 2015 hoger zal zijn dan 73%.

2p **10** Leg uit dat de oplossing van Edith wel de participatiegraad verhoogt, maar niet het probleem van de verkrapping op de arbeidsmarkt oplost.

Tot slot laat de leraar bron 5 zien. Hij vraagt de leerlingen in dit schema aan te geven bij welke pijl de suggesties van Simon en Edith behoren. Bovendien komt de leraar zelf met een mogelijke oplossing om de participatie van ouderen te verhogen: “Verlaag de pensioenuitkeringen in de eerste jaren van pensionering.”

*Gebruik bron 5.*

2p **11** Van welke pijl, A, B, C, D of E, zou de bijbehorende omvang in personen veranderen bij het uitvoeren van de suggestie van Simon? Verklaar het antwoord.

2p **12** Beschrijf de redenering achter de oplossing die de leraar voorstelt.

## Opgave 2

**bron 3** twee bewerkte tekstfragmenten op basis van het rapport 'Naar een toekomst die werkt' (2008)

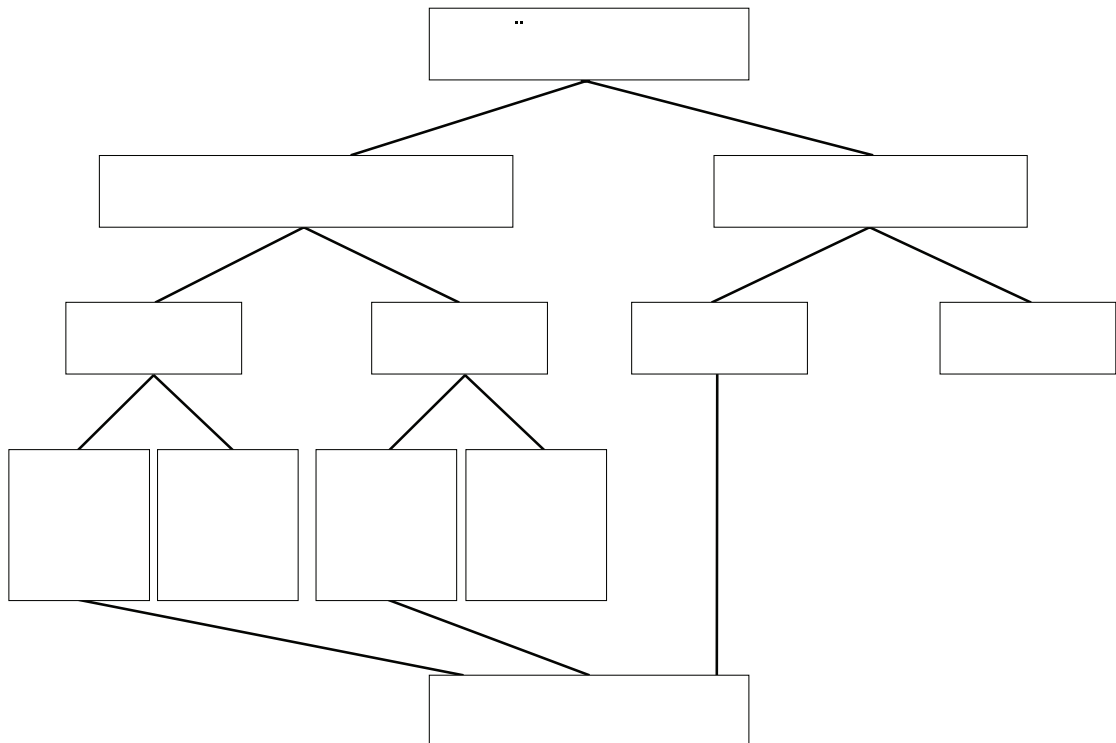
**A**

We staan aan de vooravond van belangrijke veranderingen in Nederland. In de afgelopen zestig jaar is de potentiële beroepsbevolking – iedereen vanaf 20 tot 65 jaar – gegroeid van ruim 5 miljoen naar 10 miljoen personen. Aan deze groei komt een einde: vanaf 2010 neemt de omvang van de potentiële beroepsbevolking af. In 2015 is deze omvang al 100.000 personen lager dan nu.

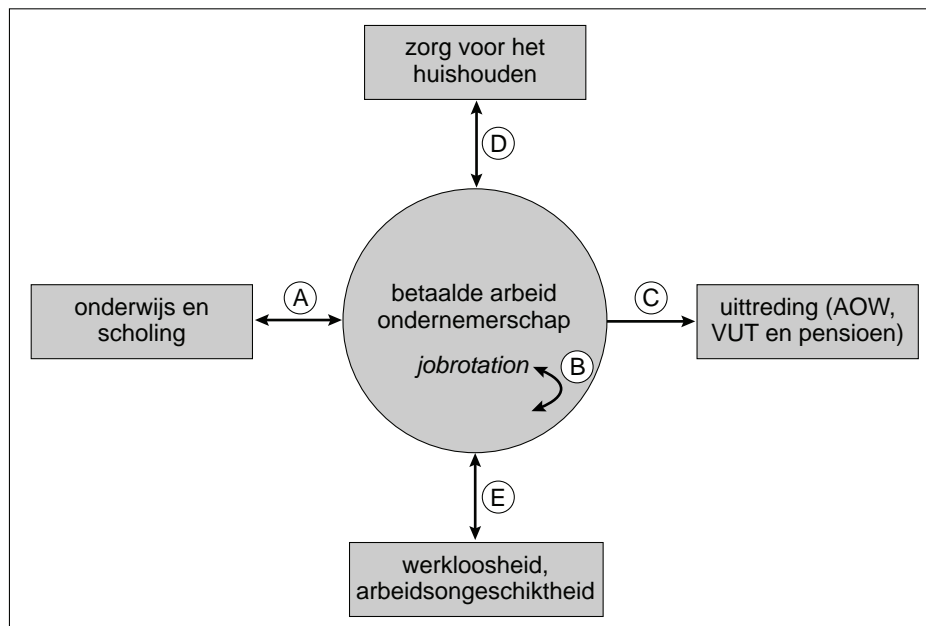
**B**

Ramingen laten zien dat de werkgelegenheid nog flink zal doorgroeien. In de periode tot 2015 komen er 600.000 banen bij, terwijl er door pensioen en arbeidsongeschiktheid ook nog eens 2,6 miljoen banen vrijkomen. In diezelfde periode stijgt de totale beroepsbevolking (werkzaam en werkzoekend) slechts met 225.000 personen.

**bron 4** samenstelling van de potentiële beroepsbevolking (20-65 jaar) in Nederland in miljoen (mln) personen (afgeronde getallen)



bron 5 instroom en uitstroom op de arbeidsmarkt



Legenda:

jobrotation = (tijdelijk) verwisselen van functie of werk binnen een organisatie of tussen organisaties

AOW = algemene ouderdomswet

VUT = vervroegde uittreding



## Opgave 3

### China wil Bancor

uit een krant (2009):

AMSTERDAM – De Federal Reserve (Fed), het Amerikaanse stelsel van Centrale Banken, heeft de geldkraan helemaal open gezet in een ultieme poging de crisis in de economie van de Verenigde Staten van Amerika (VS) te bezweren. De Fed maakte dinsdag bekend dat het 600 miljard dollar aan schulden overneemt van Fannie Mae en Freddie Mac, de grootste hypotheekbanken van het land. Die overname wordt gefinancierd door nieuw geld te drukken. Gezien de recessie waarin de Amerikaanse economie zich bevindt, acht de Fed het risico klein dat deze actie de inflatie in de VS aanjaagt. Bij deze reddingsactie nemen de schulden van de Amerikaanse overheid dus niet toe.

Chinese economen maken zich al jaren zorgen over de waardevermindering van de dollar. Extra dollars in omloop brengen kan leiden tot een daling van de koers van de Amerikaanse dollar. Hiermee zou de waarde van het Chinese vermogen dat is belegd in Amerikaanse dollars, omgerekend in Chinese yuans, fors dalen. En de belangen zijn groot, want China is de grootste financier van de Amerikaanse staatsschuld. Om meerdere redenen twijfelen de Chinezen nu over de positie van de Amerikaanse dollar als mondiale reservemunt.

- 2p **13** Leg uit dat het risico op inflatie bij 'het openzetten van de geldkraan' relatief klein is in een situatie van recessie. Gebruik in je uitleg de verkeersvergelijking van Fisher.

De VS heeft al jaren een tekort op de betalingsbalans. Met name het tekort op de lopende rekening met China is erg hoog. Vaak leidt een tekort op de lopende rekening tot een verandering van de wisselkoers. Dat is voor de VS, in relatie tot China, in de afgelopen jaren nauwelijks gebeurd.

Tot juli 2005 was de koers van de yuan met een vaste pariteit gekoppeld aan de dollar. Tussen juli 2005 en juli 2008 is deze vaste koppeling beperkt versoepeld. Vanaf juli 2008 heeft de Chinese centrale bank deze koppeling weer hersteld.

- 2p **14** Leg uit welke koersverandering van de yuan een gevolg kan zijn van een tekort op de betalingsbalans van de VS met China, als de wisselkoers niet gekoppeld wordt.
- 2p **15** Verklaar de keuze voor een vaste koppeling tussen dollar en yuan, vanuit het perspectief van de Chinese economie.

Naar aanleiding van bron 6 doet de schrijver van het bovenstaande artikel een uitspraak:

“In maart 2008 bedroeg de totale waarde van het door Chinezen in Amerikaanse dollars belegde vermogen 2.000 miljard dollar. Stel dat tussen maart 2008 en maart 2009 dat vermogen is gegroeid met 10 miljard dollar. Je kunt berekenen dat de Chinezen er in vermogen toch op achteruit zijn gegaan, als je kijkt naar bron 6.”

*Gebruik bron 6.*

- 2p **16** Laat de berekening zien die de schrijver bedoelt.

In april 2009 vond een internationale conferentie plaats van de twintig grootste economieën van de wereld (G20). De president van de Centrale Chinese Bank, Zhou Xiaochuan, hield een toespraak. Hij maakte zich niet alleen zorgen over de waardevermindering van het Chinese vermogen in de VS. De bankpresident legde ook uit waarom hij vindt dat de dollar niet langer geschikt is als mondiale reservemunt. De president zei te spreken namens de BRIC-landen: een groep van opkomende economische grootmachten in de niet-westerse wereld: Brazilië, Rusland, India en China.

Timothy Geithner, minister van Financiën van de VS, reageerde op deze toespraak. Hij was het niet eens met de Chinese bankpresident en zag voldoende redenen om de dollar als mondiale reservemunt te handhaven. Ten behoeve van de internationale pers schrijven de beide heren een persbericht.

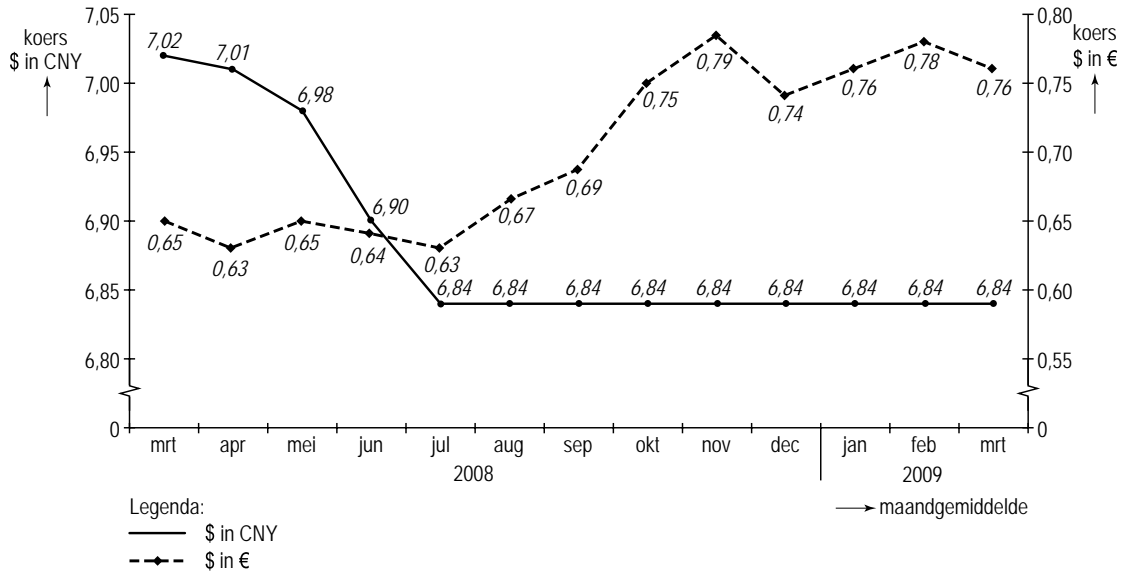
*Gebruik bron 7 en bron 8.*

- 3p **17** Schrijf het persbericht van Zhou of het persbericht van Geithner.
- Vermeld eerst de naam van de persoon die je kiest en het standpunt dat hij inneemt.
  - Beargumenteer dat standpunt, met verwijzing naar twee onderdelen uit bron 8.

*Gebruik voor het totale persbericht maximaal 70 woorden.*

**Opgave 3**

**bron 6 koers van de Amerikaanse dollar (\$) in Chinese yuan (CNY) en in euro's (€): maart 2008 tot en met maart 2009**



**bron 7 de droom van Keynes**

De president van de Chinese centrale bank, Zhou Xiaochuan, pleit voor invoering van de ‘Bancor’, een munt die al in 1944 door de econoom Keynes werd bedacht. De waarde van de Bancor wordt bepaald aan de hand van een gewogen gemiddelde van de prijzen van dertig grondstoffen, waaronder goud. Zhou wil dat deze munt de dollar als mondiale reservemunt gaat vervangen.

Onder mondiale reservemunt verstaan we in deze opgave de valuta:

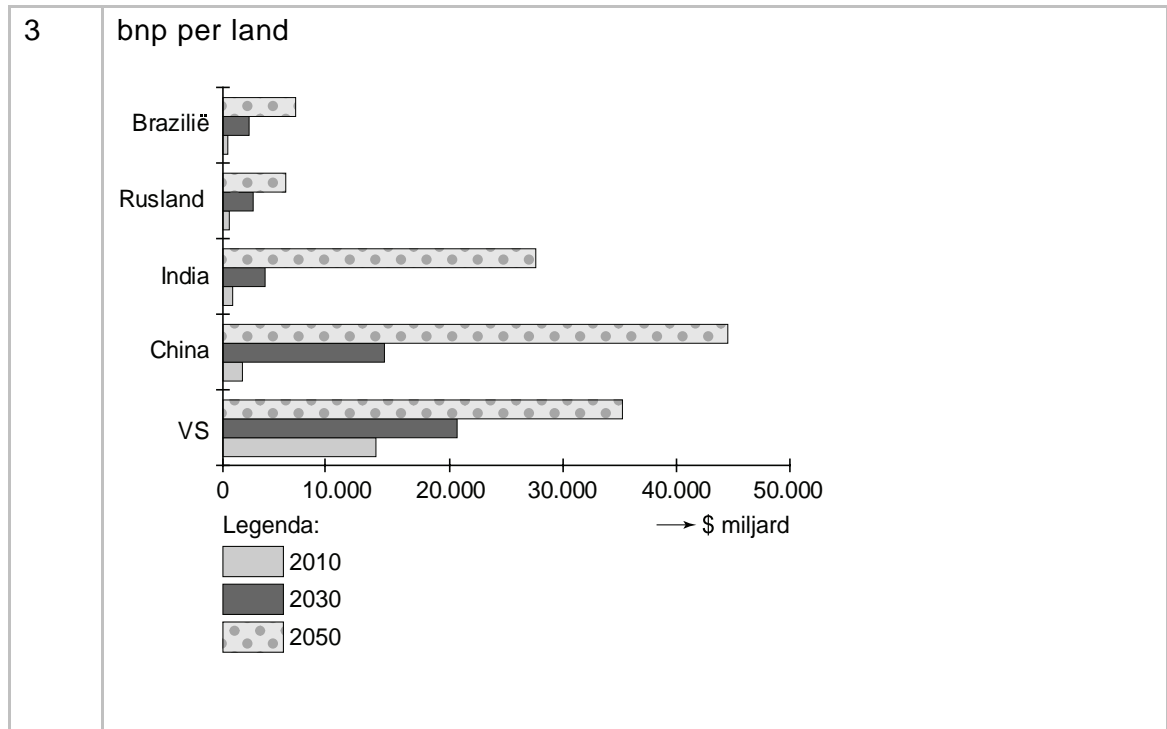
- waarin veel landen hun deviezenreserve aanhouden;
- waarin de prijzen van de belangrijkste grondstoffen worden uitgedrukt;
- waaraan landen de waarde van de eigen valuta kunnen koppelen als de eigen koers onstabiel is.



**bron 8 Internationaal Monetair Fonds (2009):  
economische verwachtingen en prognoses**

1 De enorme tekorten van de VS op de overheidsbegroting en op de betalingsbalans, zullen ook de komende jaren de koers van de Amerikaanse dollar onder druk zetten.

2 De prijzen van de meeste grondstoffen zullen in de komende decennia steeds sterker schommelen, als gevolg van politieke onrust, toenemende uitputting van voorraden, klimaatverandering en explosief toenemende vraag.



4 Omdat de waarde van de Bancor is gebaseerd op de gewogen gemiddelde waarde van dertig grondstoffen verwachten wij dat de koers van de Bancor stabiel zal zijn dan de dollarkoers.

5 De economische groei van China is nu nog sterk afhankelijk van de ontwikkeling van de Chinese export, maar zal in de toekomst meer afhankelijk worden van binnenlandse groeifactoren.

## Opgave 4

### Betaalbare zorg of zorg om betaalbaarheid?

uit een Amerikaans onderzoeksrapport, maart 2009:

Lang niet alle inwoners van de Verenigde Staten van Amerika (VS) zijn verzekerd tegen ziektekosten. Inwoners van de VS met een minimuminkomen krijgen gratis Medicaid, betaald door de overheid (zie bron 9). Wie een paar dollar meer verdient, heeft geen recht op Medicaid en kan zich particulier verzekeren. Niet iedereen kan en of wil dat betalen.

In de VS kunnen werkgevers een gedeelte van de premie voor de particuliere ziektekostenverzekering aan hun werknemers vergoeden. Deze werkgeversbijdrage verhoogt het inkomen. We hebben onderzocht of deze werkgeversbijdragen van invloed zijn op de inkomensverdeling tussen werknemers in de VS.

- 2p **18** Gaat dit onderzoek over de categoriale inkomensverdeling of over de personele inkomensverdeling? Licht het antwoord toe.

Onderzoeker Johnson stelt dat de inkomensverdeling door de werkgeversbijdrage niet is veranderd. Als bewijs voor deze stelling maakt hij een tabel waarmee de lorenzcurve getekend kan worden die ontstaat na het meetellen van de werkgeversbijdrage.

*Gebruik de uitwerkbijlage.*

- 3p **19** Onderzoek de juistheid van de stelling van Johnson. Doe dit als volgt:
- Vul op de uitwerkbijlage de kolommen (3) en (4) van de tabel in.
  - Teken op de uitwerkbijlage de nieuwe lorenzcurve.
  - Schrijf op de uitwerkbijlage jouw conclusie op.

Onderzoeker Jackson stelt dat de groep werknemers in de laagste inkomensklasse minder profiteert van deze werkgeversbijdrage dan de groepen werknemers in sommige hogere inkomensklassen. Om dit aan te tonen, gebruikt Jackson bron 11. Jackson concludeert dat er **wel** sprake is van een scheve inkomensverdeling.

*Gebruik bron 11.*

- 2p **20** Beargumenteer de conclusie van Jackson.

Een kritische econoom in de VS wijst op het zeer hoge niveau van de totale kosten van de gezondheidszorg in de VS. Met 17% van het bbp liggen deze kosten veel hoger dan in de meeste andere westerse landen. Een stelsel als Medicaid in combinatie met werkgeversbijdragen gaat gepaard met meer moreel wangedrag onder zorggebruikers dan bij ziektekostenverzekeringen in andere westerse landen, aldus de econoom. Hij pleit voor meer marktwerking in de gezondheidszorg. De Amerikaanse overheid ziet nadelen in meer marktwerking bij een elementaire basisvoorziening als gezondheidszorg, zeker in een samenleving die toch al wordt gekenmerkt door een groot verschil tussen arm en rijk.

- 2p **21** Leg uit hoe dit verzekeringsstelsel kan leiden tot relatief hoge kosten van de gezondheidszorg in de VS. Verwerk in het antwoord het verband tussen het stelsel en méér moreel wangedrag.

*Gebruik bron 12.*

- 2p **22** Beschrijf met behulp van de cartoon welk nadeel meer marktwerking in de gezondheidszorg kan hebben.

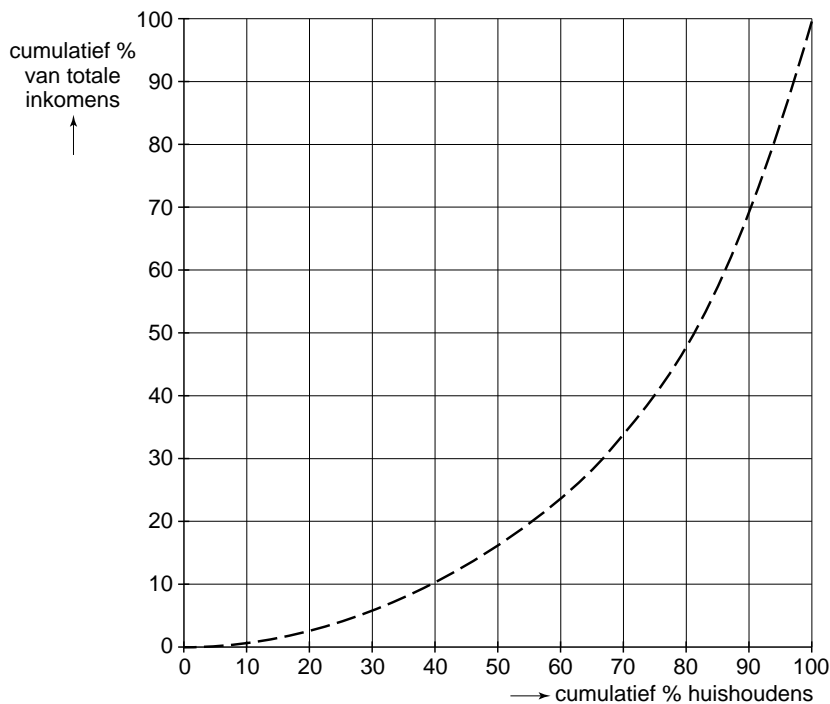
**uitwerkbijlage**

19

inkomensverdeling na de werkgeversbijdrage in de ziektekostenpremie in 2005					
	(1) inkomensklasse van huishoudens (\$)	(2) gemiddeld inkomen per inkomensklasse (\$)	(3) gemiddeld inkomen per inkomensklasse in % van totaal	(4) gemiddeld inkomen per inkomensklasse in % van totaal, cumulatief	(5) aantal huishoudens in % van totaal
I	< 27.301	14.800	...	...	25
II	27.301 – 58.000	41.500	...	...	25
III	58.001 – 130.000	84.800	...	...	25
IV	> 130.000	210.000	...	...	25
		351.100	100		100

**lorenzcurve**

*De lorenzcurve van de inkomensverdeling vóór de werkgeversbijdrage, zie bron 10, is al ingetekend.*



**conclusie**

.....  
 .....

**Opgave 4**

**bron 9 Medicaid**

Medicaid is een hulpverleningsprogramma in de Verenigde Staten dat zorgt voor ziektekostenverzekeringen voor individuen en families met een minimuminkomen. Volwassenen met een laag inkomen, kinderen zonder ouderlijke zorg, senioren met weinig inkomen en gehandicapten komen in aanmerking voor Medicaid. Ziektekosten worden door de overheid rechtstreeks betaald aan de zorgverleners. Soms is er sprake van een kleine eigen bijdrage door de burger.

**bron 10 gegevens Amerikaans onderzoek (2005; vereenvoudigd)**

inkomensverdeling <b>vóór</b> de werkgeversbijdrage in de ziektekostenpremie					
	inkomensklasse van huishoudens (\$)	gemiddeld inkomen per inkomensklasse (\$)	gemiddeld inkomen per inkomensklasse in % van totaal	gemiddeld inkomen per inkomensklasse in % van totaal, cumulatief	aantal huishoudens in % van totaal
I	< 27.301	14.176	4,2	4,2	25
II	27.301 – 58.000	39.374	11,6	15,8	25
III	58.001 – 130.000	80.685	23,9	39,7	25
IV	> 130.000	204.081	60,3	100	25
	Totaal:	338.316	100		100

**bron 11 werkgeversbijdragen aan ziektekostenpremie in 2005**


	inkomensklasse van huishoudens (\$)	gemiddelde bijdrage in % van het gemiddelde inkomen	aantal huishoudens dat verzekerd is tegen ziektekosten, in % van totale groep <sup>1)</sup>
I	< 27.301	20,0	22
II	27.301 – 58.000	9,7	56
III	58.001 – 130.000	6,3	81
IV	> 130.000	3,3	89

<sup>1)</sup> Alleen werknemers die zich daadwerkelijk particulier verzekeren tegen ziektekosten, hebben recht op een werkgeversbijdrage.



bron 12 cartoon over meer marktwerking in de gezondheidszorg

**FOKKE & SUKKE**  
DENKEN DAT HET SPANNENDE TELEVISIE WORDT



Fokke & Sukke denken dat het spannende televisie wordt.  
Een consortium van drie patiënten ... heeft gisteren een hoger bod op de nier uitgebracht.

## Opgave 5

### Melk in de gierput

Al vanaf het begin van de Europese samenwerking is landbouw een belangrijk onderwerp. Zo moet het Gemeenschappelijk Landbouw Beleid (GLB) er voor zorgen dat het aanbod van voedsel voldoende is, dat consumenten voor redelijke prijzen landbouwproducten kunnen kopen en dat boeren een behoorlijk inkomen hebben. In 1984 startte de Europese Unie (EU) met garantieprijzen: minimumprijzen met een door de EU volledig gegarandeerde afzet. Deze regeling leidde tot overschotten: 'melkplassen', 'boterbergen' en 'graanheuvels'. Deze overschotten werden door de EU opgekocht tegen de garantieprijs en op de wereldmarkt aangeboden tegen zeer lage prijzen, waardoor ontwikkelingslanden minder goed in staat waren een betere landbouweconomie te ontwikkelen.

Om de overproductie van melk tegen te gaan, heeft de EU in de jaren tachtig van de vorige eeuw nieuwe maatregelen geïntroduceerd: het productiequotum en de superheffing. De gegarandeerde afzet en de opkoopregeling van overschotten werden afgeschaft.

- 2p **23** Leg uit hoe een systeem van garantieprijzen kan leiden tot overschotten.

Stel dat op de Nederlandse markt voor koemelk in een bepaald jaar de volgende gegevens gelden:

vraag: $Q_v = -250P + 15.000$	$Q$ = hoeveelheid koemelk in miljoenen liters
aanbod: $Q_a = 750P - 3.000$	$P$ = prijs per liter koemelk in centen
evenwichtsprijs	18 cent per liter

De vraag is afkomstig van enkele zuivelcorporaties en supermarktketens, verder kortweg 'afnemers' genoemd. Het aanbod komt van een groot aantal individuele Nederlandse melkveehouders: de producenten.

De EU stelt voor Nederlandse koemelk een productiequotum vast bij een minimumprijs van 20 cent per liter.

*Gebruik bron 13.*

- 2p **24** Toon met een berekening aan dat de **gemiddelde** omvang van het productiequotum per melkveehouder in Nederland 500.000 liter bedraagt.

De EU-maatregelen beïnvloeden de verdeling van het totale producenten- en afnemerssurplus.

*Gebruik bron 14.*

- 2p **25** In welke grafiek uit bron 14 is het grijze vlak de juiste omvang van het totale producentensurplus **na** invoering van de minimumprijs en het productiequotum?
- 2p **26** Leg uit waarom de invoering van het productiequotum gevolgen heeft voor de omvang van het producentensurplus.

uit een krant (maart 2009):

## **Boer zucht onder dalende prijzen**

Melkveehouder Van den Broek staat iedere morgen om zes uur op om zijn tachtig koeien te melken. Maar iets opschieten doet hij er niet mee. De melk gaat via de slang, die normaal is aangesloten op de melktank, rechtstreeks in de gierput. "Ik heb Campina laten weten dat ze deze maand niet hoeven te komen om de melk op te halen. Nog niet zo lang geleden was de marktprijs bijna 50 cent per liter. Nu is de prijs 18 cent en dat is heel wat minder dan de 28 cent die je per liter als superheffing moet afdragen." Van den Broek heeft namelijk zijn melkquotum van 500.000 liter (geldig tot 1 april) al maanden geleden bereikt. Deze maand gaat ongeveer 1.800 liter per dag de gierput in.

*Gebruik bron 15.*

- 2p **27** Bereken welke aanpassing van de superheffing nodig is, zodat Van den Broek bij de gegeven marktprijs van 18 cent zijn overproductie niet meer zal dumpen in de gierput:
- bereken daartoe eerst de marginale kosten van 1 liter melk;
  - bereken vervolgens tot welk bedrag de superheffing minimaal moet worden verlaagd.

In de EU worden op dit moment de productiequota voor melk geleidelijk verruimd met het oog op het stopzetten van het stelsel van garantieprijzen, superheffing en productiequotum voor melk na 2015. Dat zou betekenen dat de vrije werking van het marktmechanisme de prijs van melk gaat bepalen. De Europese melkveehouders zouden dan in een gevangenendilemma terecht kunnen komen, als ze allemaal hun productiecapaciteit maximaal willen benutten.

- 3p **28** Leg uit op welke manier de Europese melkveehouders in een gevangenendilemma terecht kunnen komen, als de EU na 2015 de marktregulering volledig zou stopzetten.

## Opgave 5

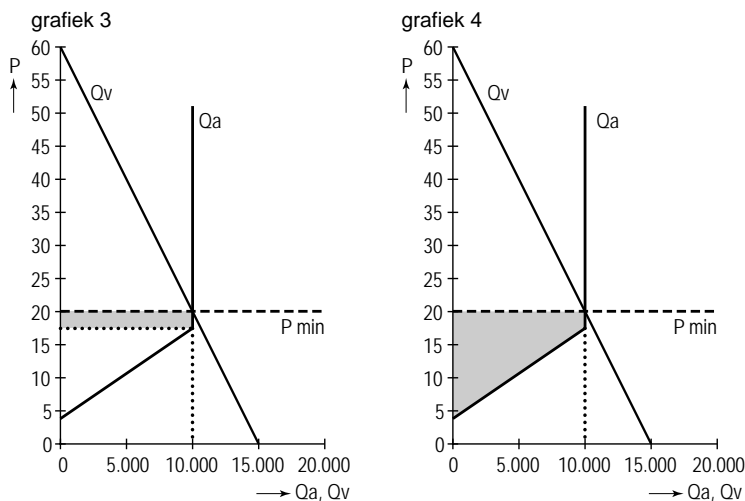
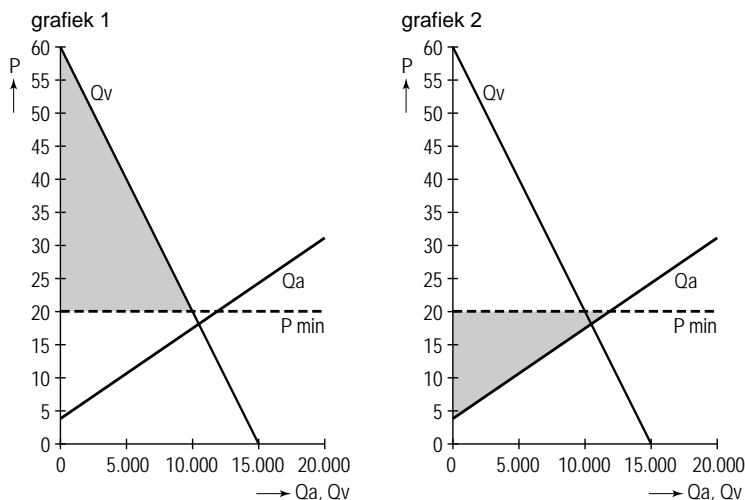
---

### bron 13 productiequotum en superheffing voor melk

Een productiequotum is het recht een bepaalde hoeveelheid te produceren. Sinds 1984 is ieder land in de EU een quotum voor melk opgelegd. Elke individuele melkveehouder krijgt een deel van dit quotum per land toegewezen. In Nederland zijn er 20.000 melkveehouders. Als een melkveehouder meer melk verkoopt aan de afnemers dan het eigen quotum, dan volgt er een hoge boete op deze overproductie: de superheffing. De boete wordt door de EU bepaald als een bedrag in centen per liter.

Een quotum is wel verhandelbaar. Indien melkveehouders de melkproductie willen uitbreiden kan het quotum gekocht worden van melkveehouders die de productie willen beperken of beëindigen.

## bron 14 vier antwoordmogelijkheden bij vraag 25



Legenda:  
 Qa = aangeboden hoeveelheid (miljoenen liters)  
 Qv = gevraagde hoeveelheid (miljoenen liters)  
 P = prijs per liter in centen  
 P min = minimumprijs

## bron 15 kostenoverzicht melkveehouder Van den Broek

<b>kosten 2009, onafhankelijk van de omvang van de productie</b>	
productiekosten bij quotum	€ 150.000
rentelasten hypotheek	€ 20.000
afschrijving voertuigen	€ 15.000
overige vaste kosten	€ 17.000
<b>kosten 2009, afhankelijk van de omvang van de productie</b>	
veevoer	€ 0,08 per liter melk
kosten veearts	€ 0,02 per liter melk
overige variabele kosten	€ 0,05 per liter melk