

## ■ Opgave 6

In economische publicaties wordt veel gebruikgemaakt van tabellen en grafieken. In het informatieboekje staan zeven statistieken met gegevens over de Verenigde Staten van Amerika (VS), Japan en Nederland. Naar aanleiding van deze statistieken worden in deze opgave vijf vragen gesteld.

2p **18**  Bereken in één decimaal nauwkeurig met hoeveel procent het prijspeil in Nederland in 2001 ten opzichte van 1999 is gestegen.

2p **19**  In welk jaar of in welke jaren is de werkgelegenheid in personen in Japan ten opzichte van het voorafgaande jaar gedaald?

In statistiek 2 ontbreekt een gegeven.

2p **20**  Bereken het indexcijfer van de loonkosten per werknemer in de VS in 1999.

Met behulp van de statistieken 1, 2 en 3 kan worden beoordeeld hoe de onderlinge concurrentiepositie van de drie landen zich heeft ontwikkeld tussen 1996 en 2002.

2p **21**  Welke van de statistieken 1, 2 of 3 is voor deze beoordeling het meest geschikt? Verklaar het antwoord.

Japan bevond zich in de periode 1998-2002 in een laagconjunctuur.

2p **22**  Noem, naast een daling van de werkgelegenheid in personen, twee kenmerken van laagconjunctuur die afgelezen kunnen worden uit de statistieken. Licht de kenmerken toe.

# Eindexamen economie 1-2 havo 2006-I

havovwo.nl

statistiek 1

## Loonkosten per eenheid product

	eenheid	1996	1997	1998	1999	2000	2001	2002
VS	indexcijfer	100	97,5	97,5	95,6	94,8	97,2	94,7
Japan	indexcijfer	100	99,1	104,2	99,6	90,7	97,7	93,1
Nederland	indexcijfer	100	99,3	101,1	102,5	102,5	107,5	111,2

statistiek 2

## Loonkosten per werknemer

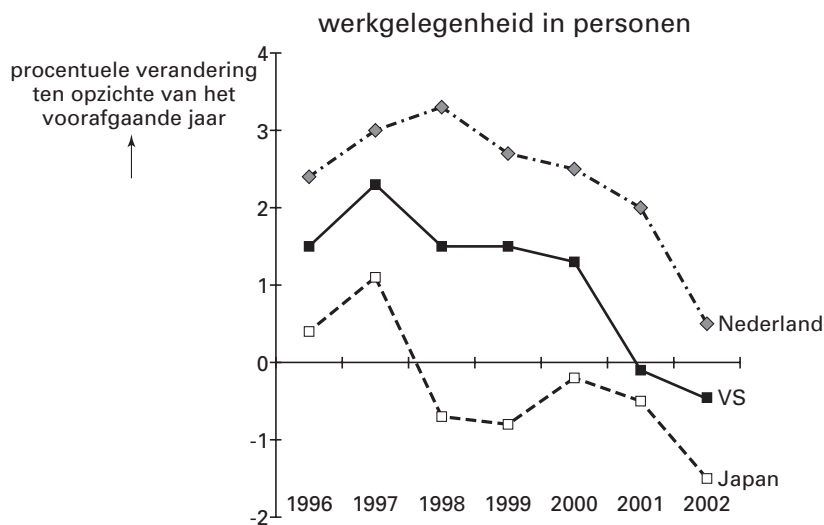
	eenheid	1996	1997	1998	1999	2000	2001	2002
VS	indexcijfer	100	103,2	108,4	.....	119,3	125,3	129,4
Japan	indexcijfer	100	101,6	100,9	99,7	100,2	100,1	98,8
Nederland	indexcijfer	100	102,0	105,8	109,7	114,8	120,5	126,5

statistiek 3

## Arbeidsproductiviteit

	eenheid	1996	1997	1998	1999	2000	2001	2002
VS	indexcijfer	100	105,8	111,2	118,2	125,8	128,9	136,6
Japan	indexcijfer	100	102,5	96,8	100,1	110,5	102,5	106,1
Nederland	indexcijfer	100	102,7	104,6	107,0	112,0	112,1	113,8

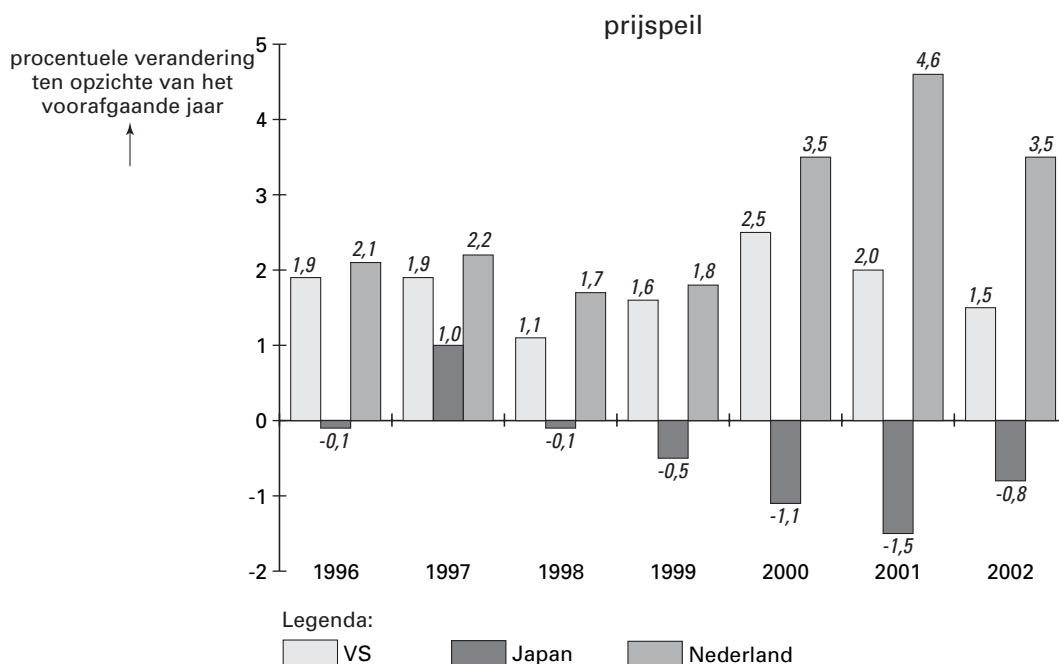
statistiek 4



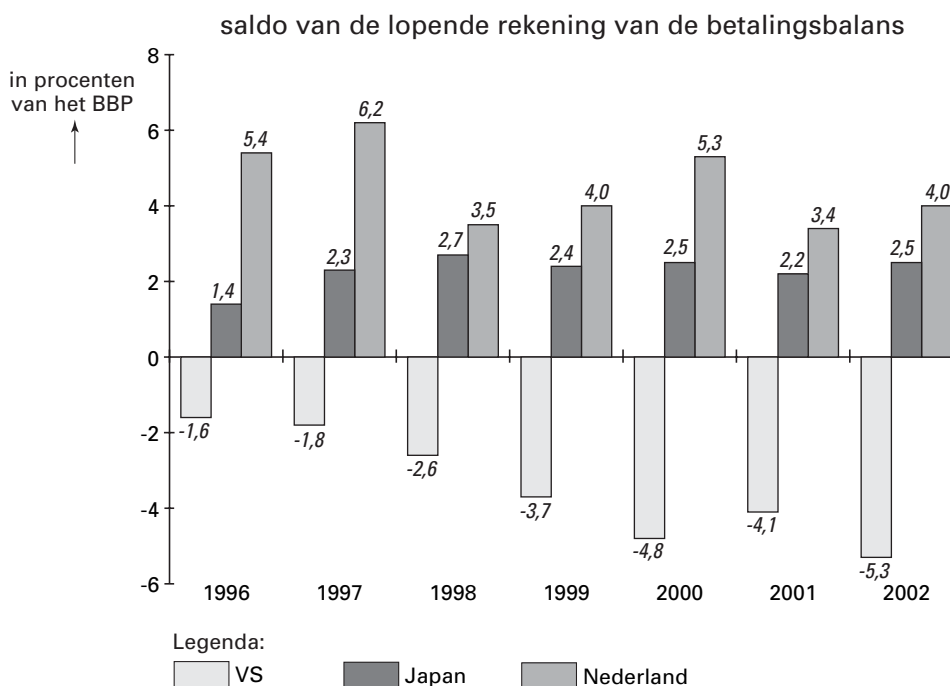
# Eindexamen economie 1-2 havo 2006-I

havovwo.nl

statistiek 5



statistiek 6



statistiek 7

## Bruto Binnenlands Product (BBP)

	eenheid	1996	1997	1998	1999	2000	2001	2002
VS	%-mutaties*	4,3	6,2	5,4	5,9	6,7	3,2	3,9
Japan	%-mutaties*	0,8	2,6	- 2,6	- 0,2	1,3	- 0,4	- 0,5
Nederland	%-mutaties*	5,5	6,1	5,9	5,8	6,9	6,0	3,8

\*ten opzichte van het voorafgaande jaar