

Opgave 6

De Europese Unie en de wereldhandel

In economische publicaties wordt veel gebruikgemaakt van tabellen en grafieken. In het informatieboekje staan vijf statistieken over de vier belangrijkste economieën in de wereld: de Europese Unie (EU), de Verenigde Staten van Amerika (VS), Japan en China. In de statistieken bestaat de lopende rekening van de betalingsbalans uit de goederenrekening, de dienstenrekening en de inkomensrekening. Naar aanleiding van deze statistieken worden in deze opgave vijf vragen gesteld.

2p **18** Bereken voor 2004 de omvang van de wereldproductie in miljarden dollars.

2p **19** Toon aan de hand van statistiek 2 met een berekening aan dat de euro in 2004 vergeleken met 2003 ten opzichte van de dollar is geapprecieerd.

China wordt voor de EU een steeds belangrijkere handelspartner. Inmiddels is de import van goederen van de EU uit China veel groter dan de import van goederen van de EU uit Japan.

2p **20** Bereken voor 2004 het tekort op de goederenrekening in miljarden dollars van de EU met China.

Uit statistiek 4 kan worden afgelezen dat het dienstenverkeer tussen de EU en China in de periode 1999-2004 sterk is gestegen. Jaap beweert dat uit statistiek 4 af te lezen is dat in 2000 de dienstenrekening tussen de EU en China in evenwicht is. Tineke beweert dat dit niet uit statistiek 4 kan worden afgelezen.

2p **21** Wie heeft gelijk, Jaap of Tineke? Licht het antwoord toe.

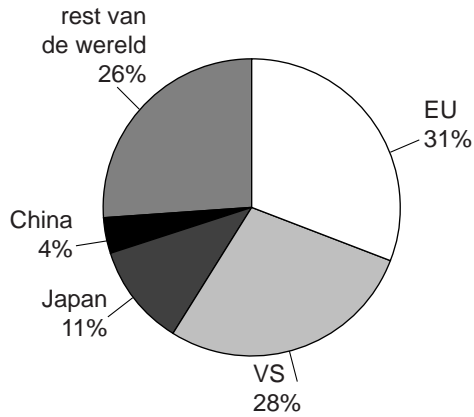
De toeristenrekening is een belangrijk onderdeel van de dienstenrekening. Uit statistiek 5 kan worden afgeleid dat het saldo van de toeristenrekening van de EU met China in 2003 en in 2004 negatief is.

2p **22** Leg uit dat uit statistiek 5 niet de conclusie mag worden getrokken dat een groter aantal toeristen uit de EU naar China op vakantie gaat dan omgekeerd.

Informatieboekje bij opgave 6

statistiek 1

aandeel in de wereldproductie in 2004

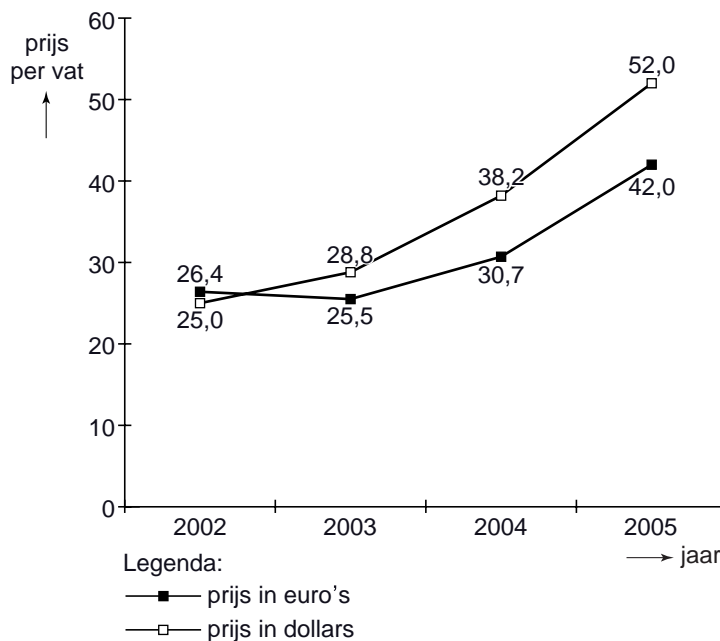


omvang van de productie in 2004

	eenheid	productie
EU	miljarden dollars	12.958
VS	miljarden dollars	11.704
Japan	miljarden dollars	4.598
China	miljarden dollars	1.672

statistiek 2

wereldmarktprijs van ruwe olie



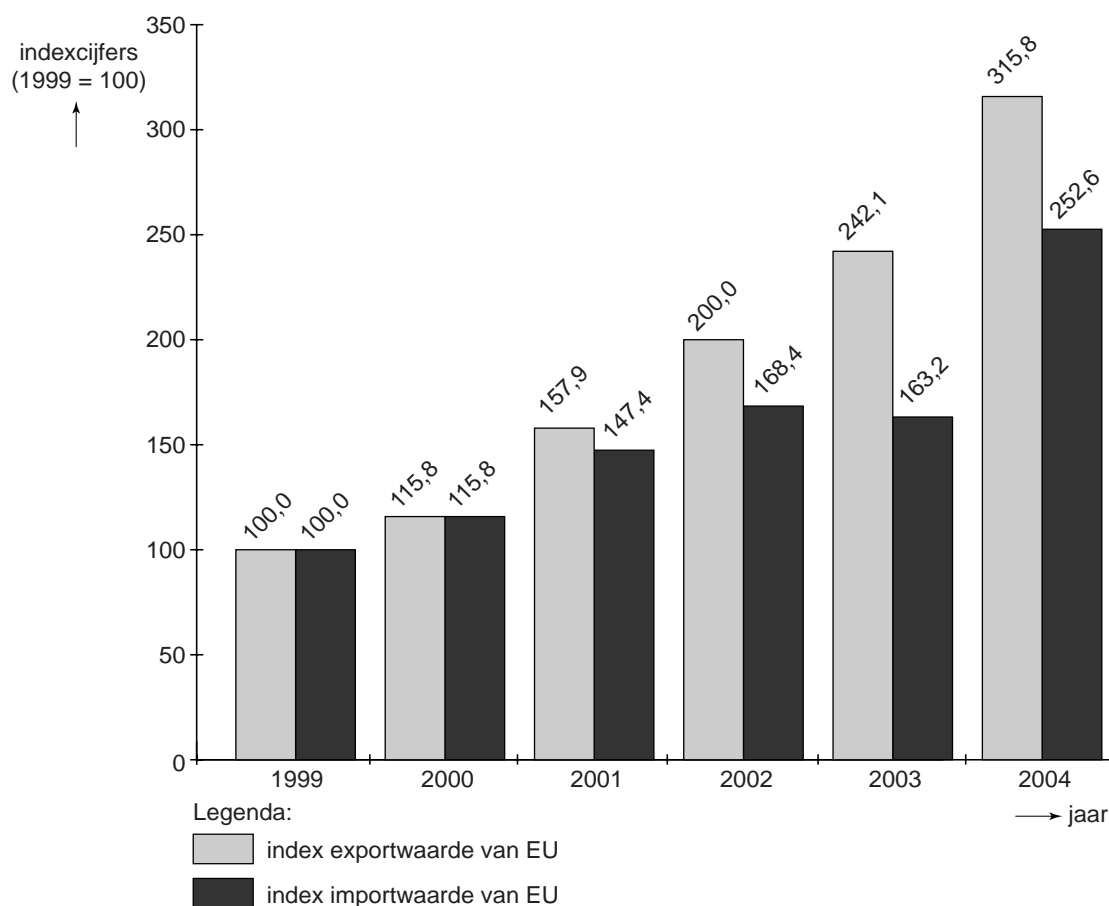
statistiek 3

waarde onderlinge handel in goederen in 2004 (miljarden dollars)

		import van:			
		EU	VS	Japan	China
export van:	EU	–	290,9	53,7	59,8
	VS	196,3	–	54,4	34,7
	Japan	91,9	129,6	–	79,9
	China	158,0	196,7	93,8	–

statistiek 4

dienstenverkeer tussen de EU en China (indexcijfers)



statistiek 5

saldo dienstenrekening tussen de EU en China (euro's)

	eenheid	2003	2004
saldo dienstenrekening EU inclusief toerisme*	miljarden euro's	1,8	1,5
saldo dienstenrekening EU exclusief toerisme*	miljarden euro's	2,0	2,2

*Een positief saldo geeft aan dat er een overschot is.